



विषय कोड

पुस्तिका कोड



2018 (I)
भू. वायुमंडलीय, सागर
एवं ग्रहीय विज्ञान
प्रश्न पत्र

समय : 3:00 घंटे

पूर्णांक : 200 अंक

अनुदेश

1. आपने हिन्दी को माध्यम चुना है। इस परीक्षा पुस्तिका में एक सौ पचास (20 भाग 'A' में + 50 भाग 'B' में + 80 भाग 'C' में) बहुल विकल्प प्रश्न (MCQ) दिए गए हैं। आपको भाग 'A' में से अधिकतम 15 और भाग 'B' में से 35 प्रश्नों तथा भाग 'C' में से 25 प्रश्नों के उत्तर देने हैं। यदि निर्धारित से अधिक प्रश्नों के उत्तर दिए गए तो केवल भाग 'A' से 15, भाग 'B' से 35 तथा भाग 'C' से 25 पहले उत्तरों की जांच की जाएगी।
2. ओ.एम.आर. उत्तर पत्रक अलग से दिया गया है। अपना रोल नम्बर और केंद्र का नाम लिखने से पहले यह जांच लीजिए कि पुस्तिका में पृष्ठ पूरे और सही हैं तथा कहीं से कटे-फटे नहीं हैं। यदि ऐसा है तो आप इन्विजीलेटर से उसी कोड की पुस्तिका बदलने का निवेदन कर सकते हैं। इसी तरह से ओ.एम.आर. उत्तर पत्र को भी जांच लें। इस पुस्तिका में रफ काम करने के लिए अतिरिक्त पन्ने संलग्न हैं।
3. ओ.एम.आर. उत्तर पत्रक के पृष्ठ 1 में दिए गए स्थान पर अपना रोल नम्बर, नाम तथा इस परीक्षा पुस्तिका का क्रमांक लिखिए, साथ ही अपना हस्ताक्षर भी अवश्य करें।
4. आप अपनी ओ.एम.आर. उत्तर पत्रक में रोल नंबर, विषय कोड, पुस्तिका कोड और केंद्र कोड से संबंधित समुचित वृत्तों को काले बॉल पेन से अवश्य काला करें। यह एक मात्र परीक्षार्थी की जिम्मेदारी है कि वह ओ.एम.आर. उत्तर पत्रक में दिए गए निर्देशों का पूरी सावधानी से पालन करें, ऐसा न करने पर कम्प्यूटर विवरणों का सही तरीके से अकृषित नहीं कर पाएगा, जिससे अंततः आपकी हानि, जिससे आपकी ओ.एम.आर. उत्तर पत्रक की अस्वीकृति भी शामिल हो सकती है।
5. भाग 'A' तथा 'B' में प्रत्येक प्रश्न के 2 अंक और भाग 'C' में प्रत्येक प्रश्न 4 अंक का है। भाग 'A' तथा 'B' में प्रत्येक गलत उत्तर का ऋणात्मक मूल्यंक / 0.50 अंक तथा भाग 'C' में / 1.32 अंक किया जाएगा।
6. प्रत्येक प्रश्न के नीचे चार विकल्प दिए गए हैं। इनमें से केवल एक विकल्प ही 'सही' अथवा 'सर्वोत्तम हल' है। आपको प्रत्येक प्रश्न का सही अथवा सर्वोत्तम हल चुनना है।
7. नकल करते हुए या अनुचित तरीकों का प्रयोग करते हुए पाए जाने वाले परीक्षार्थियों का इस और अन्य भावी परीक्षाओं के लिए अयोग्य ठहराया जा सकता है।
8. परीक्षार्थी को उत्तर या रफ पन्नों के अतिरिक्त कहीं और कुछ भी नहीं लिखना चाहिए।
9. कैलकुलेटर का उपयोग करने की अनुमति नहीं है।
10. परीक्षा समाप्ति पर छिद्र बिन्दु चिह्नित स्थान से OMR उत्तर पत्रक को विभाजित करें। इन्विजीलेटर को मूल OMR उत्तर पत्रक सौंपने के पश्चात आप इसकी कार्बनलेस प्रतिलिपि ले जा सकते हैं।
11. हिन्दी माध्यम/संस्करण के प्रश्न में विसंगति होने/पाये जाने पर अंग्रेजी संस्करण प्रमाणिक होगा।
12. केवल परीक्षा की पूरी अवधि तक बैठने वाले परीक्षार्थी को ही परीक्षा पुस्तिका साथ ले जाने की अनुमति दी जाएगी।

रोल नंबर :


परीक्षार्थी द्वारा भरी गई जानकारी को मैं सत्यापित करता हूँ।

नाम :

2-A-H

.....
इन्विजीलेटर के हस्ताक्षर

FOR ROUGH WORK



2-A-H

S/11 RISE/18—2AH—1B

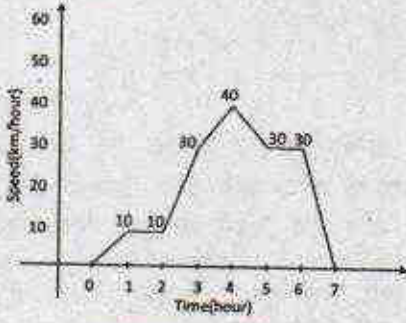
भाग/PART A

- A और B एक साथ एक स्थान O से दक्षिणवर्त दिशा में वृत्ताकृति चलना प्रारम्भ करते हैं। A को एक चक्कर लगाने में 9 मिनट लगते हैं और वह एक मिनट रुक कर दोबारा चलना प्रारम्भ करता है। B को एक चक्कर लगाने में 13 मिनट लगते हैं और वह 2 मिनट रुक कर दोबारा चलना प्रारम्भ करता है। चलना शुरू करने के कितने मिनट बाद वे दोनों पुनः O पर मिलेंगे?
 - 30
 - 29
 - 31
 - 28
- A and B move clockwise around a circle, starting from a common point O. A takes 9 minutes to complete a round but re-starts after a delay of 1 minute. B takes 13 minutes to complete the round but restarts after a delay of 2 minutes. How many minutes after they began would they meet again at O?
 - 30
 - 29
 - 31
 - 28
- किसी कक्षा में चौदह विद्यार्थी लड़कियाँ हैं। उस कक्षा में आठ विद्यार्थी नीला कमीज पहनते हैं। दो ऐसे हैं जो न तो लड़कियाँ हैं, न नीला कमीज पहनते हैं। नीला कमीज पहनने वाले विद्यार्थियों में पाँच लड़कियाँ हैं। कक्षा में कुल कितने विद्यार्थी हैं?
 - 19
 - 29
 - 17
 - 24
- Fourteen of the students in a class are girls. Eight students in the class wear blue shirts. Two are neither girls nor wear blue shirts. Five students who wear blue shirts are girls. How many students are there in the class?
 - 19
 - 29
 - 17
 - 24
- L लम्बाई की एक छड़ी को यादृच्छिक रूप से दो भागों में तोड़ा गया है। छोटे टुकड़े की औसत लम्बाई क्या है?
 - L/6
 - L/4
 - L/3
 - L/2
- A stick of length L is broken into two pieces at random. What is the average length of the smaller piece?
 - L/6
 - L/4
 - L/3
 - L/2
- एक लम्बी-दूरी के धावक को पूर्ण दूरी के $\frac{1}{7}$ भाग के बाद जल-केन्द्र मिलता है। $\frac{1}{6}$ भाग दूरी और तय करने के बाद, उसे चिकित्सा केन्द्र मिलता है। चिकित्सा केन्द्र के 4 कि.मी. के बाद उसे दूसरा धावक मिलता है। पूर्ण दूरी का आधा भाग तय करने के बाद दूसरा धावक, पहले धावक की दौड़ समाप्ति से 4 कि.मी. पहले रुक जाता है। कुल दूरी कितनी है?
 - 21 कि.मी.
 - 30 कि.मी.
 - 42 कि.मी.
 - 50 कि.मी.
- A long-distance runner finds a water station after completing $\frac{1}{7}$ th of the total distance. After covering another $\frac{1}{6}$ th of the total distance he gets medical-aid. Another runner joins him 4 km after the medical-aid station. The second runner stops 4 km before the completion of run, covering $\frac{1}{2}$ of the total distance. What is the total distance?
 - 21 km
 - 30 km
 - 42 km
 - 50 km
- एक कार की गति समय के साथ नीचे दर्शायी गयी है।

कार की औसत चाल क्या है?

- 30.42
- 20.43
- 10.43
- 21.43

5. Movement of a car with respect to time is given below:



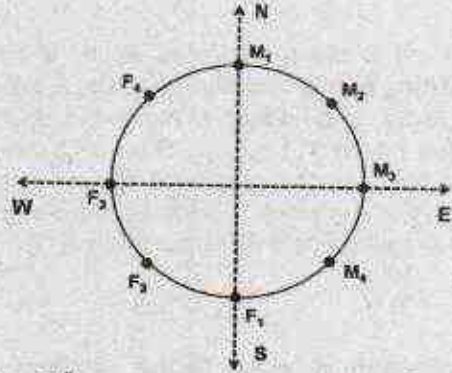
The average speed of the car is

1. 30.42 2. 20.43
3. 10.43 4. 21.43
6. एक ईंधन केन्द्र एक दिन में 150 लोगों को ₹15000 का डीजल बेचता है। यदि प्रत्येक व्यक्ति को कम से कम ₹50 का डीजल खरीदना अनिवार्य है, तो किसी व्यक्ति ने अधिकतम उस दिन कितने रुपये का डीजल खरीदा?
1. 7450 2. 7500
3. 7550 4. 7600
6. A fuel station sold diesel costing ₹15000 to 150 persons on a day. If the lower limit of sale to a person is ₹50, what is the maximum amount in rupees for which one person could have purchased diesel on that day?
1. 7450 2. 7500
3. 7550 4. 7600
7. बिन्दुओं (2017, 2017), (2027, 2027) और (2037, 2017) से बने त्रिभुज का क्षेत्रफल है
1. 2017 2. 100
3. $100\sqrt{10}$ 4. $100\sqrt{20}$
7. The area of the triangle formed by joining the points (2017, 2017), (2027, 2027) and (2037, 2017) is
1. 2017 2. 100
3. $100\sqrt{10}$ 4. $100\sqrt{20}$
8. यदि संगीता की पुत्री मेरी पुत्री की माँ है, तो मेरा संगीता से क्या रिश्ता है?
1. केवल पुत्र होना ही सम्भावना है।
2. केवल दामाद होना ही सम्भावना है।
3. केवल पुत्री होना ही सम्भावना है।
4. दामाद या पुत्री

8. If Sangeeta's daughter is my daughter's mother, then how am I related to Sangeeta?

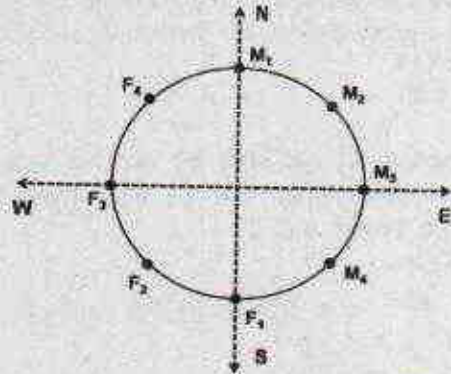
1. Son is the only possibility
2. Son-in-law is the only possibility
3. Daughter is the only possibility
4. Son-in-law or daughter

9. चार पुरुष M_1, M_2, M_3, M_4 और चार महिलाएँ F_1, F_2, F_3, F_4 एक गोलाकार मेज के किनारे एक-दूसरे से उल्टी तरफ चेहरा किये हुए बैठे हैं, जैसे कि नीचे के चित्र में दर्शाया गया है। यदि प्रत्येक अपने से तीन कदम दक्षिण चलता है और फिर एक कदम वामावर्त चलता है, तब F_4 का चेहरा किस दिशा में है?



1. पूर्व 2. उत्तर-पूर्व
3. उत्तर-पश्चिम 4. उत्तर

9. Four males M_1, M_2, M_3, M_4 and four females F_1, F_2, F_3 and F_4 are sitting around a round table facing away from the table, as shown in the figure. If each one moves three positions to his/her right and then one position to the left, then in which direction does F_4 face?



1. East 2. North-East
3. North-West 4. North

10. प्रो. मूर्ति अपने विद्यार्थियों को अपना साथी चुनने की अनुमति देती हैं। लेकिन विद्यार्थियों का कोई भी जोड़ा एक साथ लगातार सात कक्षाओं से ज्यादा में काम नहीं कर सकता है। एलिस और बॉब ने सात कक्षाओं में एक साथ काम किया। केल्विन और डेनी ने तीन कक्षाओं में लगातार एक साथ काम किया। केल्विन, एलिस के साथ काम नहीं करना चाहता है। किसको बॉब के साथ काम करने के लिए नियुक्त करना चाहिए?

1. केल्विन
2. एलिस
3. डेनी
4. कोई नहीं

10. Prof. Murthy likes to let her students choose who their partners will be; however, no pair of students may work together for more than seven class periods in a row. Alice and Bob have worked together for seven class periods in a row. Calvin and Denny have worked together for three class periods in a row. Calvin does not want to work with Alice. Who should be assigned to work with Bob?

1. Calvin
2. Alice
3. Denny
4. None

11. 44 खिलाड़ियों के समूह में, 26 खिलाड़ी हॉकी, 24 खिलाड़ी फुटबॉल और 24 खिलाड़ी क्रिकेट खेलते हैं। उनमें से, 8 हॉकी और फुटबॉल दोनों, 12 फुटबॉल और क्रिकेट दोनों, और 5 तीनों खेल खेलते हैं। कितने खिलाड़ी हॉकी और क्रिकेट दोनों खेलते हैं?

1. 10
2. 15
3. कोई नहीं
4. 7

11. In a group of 44 players, 26 play hockey, 24 play football and 24 play cricket. Eight of them play both hockey and football, 12 play both football and cricket, and 5 play all the three games. How many play both hockey and cricket?

1. 10
2. 15
3. None
4. 7

12. दिया गया है,

$$(a)^* = \begin{cases} a & \text{if } a > 0 \\ 0 & \text{if } a \leq 0 \end{cases} \text{ कोई वास्तविक अंक } a \text{ के लिए}$$

मानें कि दो वास्तविक अंक x और y के लिए $(xy)^* = (x)^*(y)^*$. तब निम्न में कौन सा अनिवार्य रूप से सत्य है?

1. $x > 0$ और $y > 0$
2. $\{x < 0 \text{ and } y < 0\}$ or $\{x > 0 \text{ and } y > 0\}$
3. $\{x \leq 0 \text{ and } y \leq 0\}$ or $\{x \geq 0 \text{ and } y \geq 0\}$
4. $\{x \geq 0\}$ or $\{y \geq 0\}$ or $\{x \geq 0 \text{ and } y \geq 0\}$


12. It is given that

$$(a)^* = \begin{cases} a & \text{if } a > 0 \\ 0 & \text{if } a \leq 0 \end{cases} \text{ for any real number } a$$

Suppose for two real numbers x and y , $(xy)^* = (x)^*(y)^*$. Then which of the following is necessarily true?

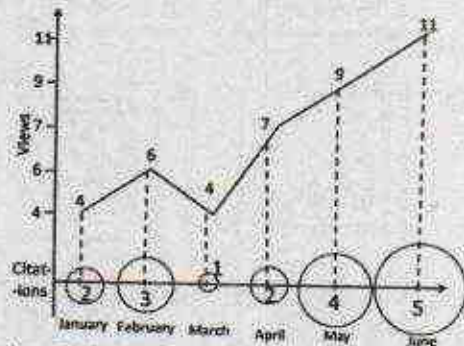
1. $x > 0$ and $y > 0$
2. $\{x < 0 \text{ and } y < 0\}$ or $\{x > 0 \text{ and } y > 0\}$
3. $\{x \leq 0 \text{ and } y \leq 0\}$ or $\{x \geq 0 \text{ and } y \geq 0\}$
4. $\{x \geq 0\}$ or $\{y \geq 0\}$ or $\{x \geq 0 \text{ and } y \geq 0\}$

13. एक अनुसंधान पत्र का अवलोकन और उसके उद्धरण की गणना चित्र में दर्शायी गयी है। उद्धृत प्रतिशत बढ़त किस मास में अवलोकन प्रतिशत बढ़त की दो गुनी ज्यादा है?



1. फरवरी
2. अप्रैल
3. मई
4. जून

13. Number of times a research paper is viewed and cited is shown in the plot. In which month was the percentage increase in citation more than the double of the percentage increase in view?



1. February
2. April
3. May
4. June

14. रिक्त स्थान में कौन सा विकल्प सबसे सटीक है?

0.1, 0.25, 0.3, 0.2, 0.5, 0.6, 0.3, ____, 0.9, 0.4, 1.0, 1.2

1. 1.05 2. 0.85
3. 0.75 4. 0.65

14. Which of the following options is the best choice for the missing number?

0.1, 0.25, 0.3, 0.2, 0.5, 0.6, 0.3, ____, 0.9, 0.4, 1.0, 1.2

1. 1.05 2. 0.85
3. 0.75 4. 0.65

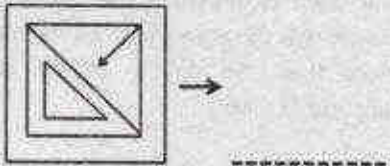
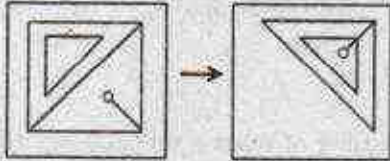
15. संख्या 54 को आधार-10 छोड़कर किसी और आधार से व्यक्त किया गया है। इस संख्या पद्धति का आधार क्या है, यदि इसका तुलनात्मक मान दशमलव पद्धति में 49 है?

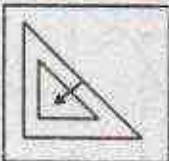
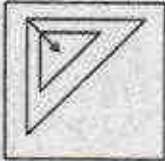
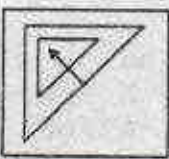
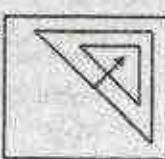
1. 1 2. 3
3. 6 4. 9

15. Consider a number 54 expressed in a base different from ten. What is the base of this number system if its equivalent value in the decimal system is 49?

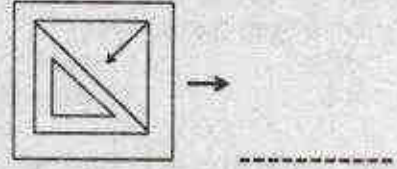
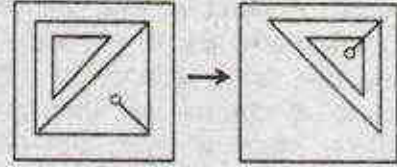
1. 1 2. 3
3. 6 4. 9

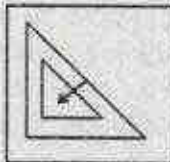
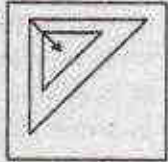
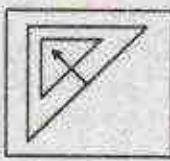
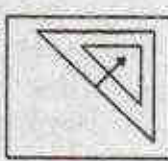
16. रिक्त स्थान के लिये उपयुक्त विकल्प क्या है?



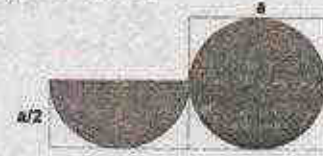
1.  2. 
3.  4. 

16. Which of the options is appropriate for the blank space?



1.  2. 
3.  4. 

17. चित्र में, कुल छायांकित क्षेत्रफल (वर्तुल तथा अर्धवर्तुल) तथा कुल क्षेत्रफल (वर्ग एवं आयत) का अनुपात क्या है?



1. $\frac{5}{6}\pi$ 2. $\frac{6}{5}\pi$
3. $\frac{5}{12}\pi$ 4. $\frac{\pi}{4}$

17. In the diagram, what is the ratio of the total shaded area (of the circle and semi-circle) to the total area of the square and the rectangle?



1. $\frac{5}{6}\pi$ 2. $\frac{6}{5}\pi$
3. $\frac{5}{12}\pi$ 4. $\frac{\pi}{4}$

18. दो विद्यार्थी एक प्रश्न को स्वतंत्रतः हल कर रहे हैं। यदि पहले की प्रश्न हल करने की प्रायिकता $\frac{3}{5}$ है और दूसरे की $\frac{4}{5}$ है, तो कम से कम एक विद्यार्थी के प्रश्न हल करने की प्रायिकता क्या है?

1. $\frac{17}{25}$ 2. $\frac{19}{25}$
3. $\frac{21}{25}$ 4. $\frac{23}{25}$

18. Two students are solving the same problem independently. If the probability that the first one solves the problem is $\frac{3}{5}$ and the probability that the second solves the problem is $\frac{4}{5}$, what is the probability that at least one of them solves the problem?

1. $\frac{17}{25}$ 2. $\frac{19}{25}$
3. $\frac{21}{25}$ 4. $\frac{23}{25}$

19. एक गेंद को 100मी. से गिराया जाता है। प्रत्येक उछाल के बाद गेंद अपनी पूर्व उछाल की आधी ऊँचाई तक उछलती है (अर्थात् पहली उछाल के बाद गेंद 50मी. उछलती है, दूसरी उछाल के बाद 25मी. उछलती है, इत्यादि)। पहली और पाँचवी उछाल के बीच में गेंद द्वारा तय की गयी अर्ध्व दूरी क्या है?

1. $\frac{355}{2}$ मी. 2. $\frac{365}{2}$ मी.
3. $\frac{375}{2}$ मी. 4. $\frac{385}{2}$ मी.

19. A ball is dropped from a height of 100 m. The ball after each bounce rises vertically by half its previous height (This means at the first bounce it rises by 50 m, by 25 m at the second bounce and so on). What is the vertical distance travelled by the ball between the first and the fifth bounces?

1. $\frac{355}{2}$ m 2. $\frac{365}{2}$ m
3. $\frac{375}{2}$ m 4. $\frac{385}{2}$ m

20. दीर्घवृत्त में तीन अर्धवृत्तों को दर्शाया गया है। यदि दो छोटे अर्धवृत्तों की त्रिज्या दीर्घवृत्त की त्रिज्या की एक-चौथाई है और बड़े अर्धवृत्त की त्रिज्या छोटे अर्धवृत्त की त्रिज्या की दो गुनी है तो दीर्घवृत्त का कितना अंश छायांकित है?



1. $\frac{11}{12}$ 2. $\frac{12}{16}$
3. $\frac{13}{16}$ 4. $\frac{13}{14}$

20. Three semi-circles are drawn inside a big circle as shown in the figure. If the radius of the two identical smaller semi-circles is $\frac{1}{4}$ th of that of the big circle and the radius of the bigger semi-circle is twice that of the small semi-circle, what proportion of the big circle's area is shaded?



1. $\frac{11}{12}$ 2. $\frac{12}{16}$
3. $\frac{13}{16}$ 4. $\frac{13}{14}$

भाग PART B

21. निम्न में से कौन सा समस्थानिक काल निर्धारण विधि जनक समस्थानिक मात्रा पर आधारित है, न की दुहिता समस्थानिक मात्रा पर?

1. K - Ar काल निर्धारण
2. U - Pb काल निर्धारण
3. रेडियो कार्बन काल निर्धारण
4. Rb - Sr काल निर्धारण

21. Which one of the following isotope dating methods is based on the parent isotope abundances and not on the daughter isotope abundances?

1. K - Ar dating
2. U - Pb dating
3. Radiocarbon dating
4. Rb - Sr dating

22. निम्न में से कौन सा SiO_2 बहुरूपक उल्कापिंड प्रभाव से बन सकता है?

1. क्वार्ट्ज
2. ट्रायडायमाइट
3. ओपल
4. स्टीशोवाइट

22. Which one of the following SiO_2 polymorphs may form because of meteorite impact?

1. Quartz
2. Tridymite
3. Opal
4. Stishovite

23. भूघटनाओं के काल निर्धारण में उपयोग आने वाले खनिज समूहों एवम् उनसे संबंधित खनिजों का उचित मिलान करें।

A.	फॉस्फेट	P.	गैलेना
B.	सिलीकेट	Q.	मोनाजाइट
C.	आक्साइड	R.	ज़िरकॉन
D.	सल्फाइड	S.	बैडेलाइट

1. A-P, B-Q, C-R, D-S
2. A-Q, B-R, C-S, D-P
3. A-R, B-Q, C-S, D-P
4. A-S, B-Q, C-R, D-P

23. Correctly match the mineral group and corresponding minerals that are used for dating geological events

A.	Phosphate	P.	Galena
B.	Silicate	Q.	Monazite
C.	Oxide	R.	Zircon
D.	Sulphide	S.	Baddeleyite

1. A-P, B-Q, C-R, D-S
2. A-Q, B-R, C-S, D-P
3. A-R, B-Q, C-S, D-P
4. A-S, B-Q, C-R, D-P

24. प्रक्रियाओं का उनके उपयुक्त खनिज समूहों से मिलान करें।

प्रक्रिया	समूह	खनिज
A.	अवशिष्ट समृद्धि	P. Mn-आक्साइड ग्रन्थिक
B.	रसायनिक अवसादन	Q. टाल्क
C.	कार्यांतरी	R. क्रोमाइट
D.	आग्नेय	S. बाक्साइट

1. A-Q, B-P, C-S, D-R
2. A-S, B-R, C-P, D-Q
3. A-Q, B-R, C-P, D-S
4. A-S, B-P, C-Q, D-R

24. Correctly match the processes with the corresponding mineral concentrations

Processes		Mineral concentration	
A.	Residual enrichment	P.	Mn-oxide nodule
B.	Chemical sedimentation	Q.	Talc
C.	Metamorphic	R.	Chromite
D.	Magmatic	S.	Bauxite

1. A-Q, B-P, C-S, D-R
2. A-S, B-R, C-P, D-Q
3. A-Q, B-R, C-P, D-S
4. A-S, B-P, C-Q, D-R

25. बढ़ते कठोरता क्रम (मोह मापक्रम) के आधार पर निम्न खनिजों का कौन सा क्रम सही है?

1. टाल्क, कैल्साइट, जिप्सम, एपाटाइट
2. आर्थोक्लेज, टोपॉज, क्वार्ट्ज, हीरा
3. कैल्साइट, एपाटाइट, आर्थोक्लेज, क्वार्ट्ज
4. जिप्सम, टाल्क, कैल्साइट, एपाटाइट

25. Which one of the mineral sequences, arranged in the order of increasing hardness (in Mohs scale) is correct?

1. Talc, calcite, gypsum, apatite
2. Orthoclase, topaz, quartz, diamond
3. Calcite, apatite, orthoclase, quartz
4. Gypsum, talc, calcite, apatite

26. एक दिये गये विसर्जन के लिये, एक धारा के प्रवाह को प्रेषण किया जा सकता है, या तो एक गहरी और धीमीगत — प्रवाह द्वारा अथवा एक उथला और तीव्रगत — प्रवाह द्वारा।

1. अधः क्रांतिक, शिखर क्रांतिक
2. शिखर क्रांतिक, अधः क्रांतिक
3. क्रांतिक, अधः क्रांतिक
4. शिखर क्रांतिक, क्रांतिक

26. For a given discharge, flow can be transmitted along a stream either as deep and slow moving ----- flow or as a shallow and rapid ----- flow.


1. subcritical, supercritical
2. supercritical, subcritical
3. critical, subcritical
4. supercritical, critical

27. पृथ्वी का प्रारंभिक पृथ्वीकीकरण का पहला परिणाम — है।


1. महाद्वीपीय पर्पटी
2. क्रोड
3. ऑक्सीजन बहुल वायुमंडल
4. महासागरों

27. The first consequence of earliest differentiation of the Earth is the formation of the _____
 1. continental crust
 2. core
 3. oxygen rich atmosphere
 4. oceans
28. सौर मंडल में इनमें से कौन अधिकतम मात्रा (H एवम् He के बाद) में पाया जाने वाला तीसरा तत्व है?
 1. O
 2. Fe
 3. Si
 4. Ni
28. What is the third most abundant element (after H and He) in the solar system?
 1. O
 2. Fe
 3. Si
 4. Ni
29. इनमें से कौन सा उल्का पिंड वर्ग अपने सौर मंडल का एक अत्यंत आदिकालीन वस्तु है?
 1. एखोन्डाइटे
 2. लौह उल्कापिंडे
 3. पत्थर-लौह उल्कापिंडे
 4. खोन्डाइटे
29. Which of the following classes of meteorites is one of the most primitive objects of our solar system?
 1. Achondrites
 2. Iron meteorites
 3. Stony-iron meteorites
 4. Chondrites
30. इनमें से कौन सी प्रक्रिया प्लेट विवर्तनों से संबंधित नहीं है?
 1. अंतःग्रसन
 2. पर्वत निर्माण
 3. प्रावार पिच्छ उत्थान
 4. समुद्र अधस्थल विस्तारण
30. Which of the following processes is not related to plate tectonics?
 1. Subduction
 2. Mountain building
 3. Rise of mantle plume
 4. Sea floor spreading
31. गोलाभ अपक्षय के दौरान पत्थर का एक टुकड़ा गोलाभ में रूपांतरित होता है, इस कारण से,
 1. सपाट फलकों के बजाय कोनों पर तीव्र भौतिक अपक्षय
 2. सपाट फलकों के बजाय कोनों पर तीव्र रसायनिक अपक्षय
 3. टुकड़े पर भौतिक एवम् रसायनिक अपक्षय का बराबर प्रभाव
 4. वहन के दौरान कोनों का टूटना
31. During spheroidal weathering, a block of rock converts to a spheroid due to
 1. rapid physical weathering at the corners than at the smooth faces
 2. rapid chemical weathering at the corners than at the smooth faces
 3. physical and chemical weathering acting equally on the block
 4. breaking of corners during transport
32. वृहत् अपरदन में एक पत्थर या उसका अपक्षायित मलबा पहाड़ी से नीचे की ओर एक वक्र अपरूपण तल से आने को — कहा जाता है।
 1. घूर्णन भूस्खलन
 2. स्थानांतरीय भूस्खलन
 3. लाहार
 4. खंड विसर्पण
32. Mass wasting wherein a mass of rock or weathered debris moves downhill along a curved shear surface is defined as
 1. Rotational landslide
 2. Translational landslide
 3. Lahar
 4. Block glide
33. जमाव द्वारा तटरेखा के पुरःक्रमण या समुद्र की तरफ जाने को सबसे बेहतर ढंग से — प्रदर्शित करता है
 1. पुलिन कटक
 2. तटीय बालू टिब्बे
 3. तरंग कटित वेदी एवम् स्तंभ
 4. कंकड़ पुलिन
33. Progradation or seaward migration of the shoreline by deposition is best represented by
 1. beach ridges
 2. coastal sand dunes
 3. wave-cut platforms and stacks
 4. shingle beaches

34. शैल सतह वेदिका जो एक पुराघाटी सतह के भाग को परिरक्षण करता है उसे — कहते हैं।
 1. अपघर्षण ढाल
 2. जलोढ़ वेदिका
 3. भराव वेदिका
 4. स्ट्रेथ वेदिका
34. Rock-floored terraces, preserving part of the former valley flat are called
 1. abrasion ramps
 2. alluvial terraces
 3. fill terraces
 4. strath terraces
35. इनमें से कौन सा आदर्श रूप में तटिलंब सर्पण भ्रंश से संबंधित नहीं है?
 1. ऑफसेट अपवाह
 2. विमुखी अपवाह
 3. कपाट कटक
 4. अवनमन ताल
35. Which one of the following is not typically associated with strike-slip faults?
 1. Offset drainage
 2. Barbed drainage
 3. Shutter ridge
 4. Sag pond
36. पाईरोक्सिन के अपक्षय के समय इनमें से कौनसी रसायनिक क्रिया/क्रियायें घटित होती हैं?
 1. हाइड्रोलायसिस
 2. आक्सिडेशन
 3. हाइड्रोलायसिस एवम् आक्सिडेशन दोनों
 4. विलयन एवम् आक्सिडेशन दोनों
36. Which type(s) of chemical reactions occur(s) during the weathering of pyroxene?
 1. Hydrolysis
 2. Oxidation
 3. Hydrolysis and oxidation both
 4. Solution and oxidation both
37. वायु अपघर्षण प्रदर्शन करते अनेक-वाह्य आकृति वाले कोबल एवम् पेबल को — कहते हैं।
 1. इररेटिक्स
 2. यारडांग
 3. वेन्टिफेक्ट्स
 4. नबिन
37. Multi-faceted cobbles and pebbles that show wind abrasion are called
 1. erratics
 2. yardangs
 3. ventifacts
 4. nubbins
38. एक लाल रंग वाले मृण्मय मृदा संस्तर स्थिति को — कहते हैं।
 1. O संस्तर स्थिति
 2. A संस्तर स्थिति
 3. E संस्तर स्थिति
 4. B संस्तर स्थिति
38. A red coloured and clayey soil horizon is termed as
 1. O horizon
 2. A horizon
 3. E horizon
 4. B horizon
39. वह तरंग दैर्घ्य/रंग जिस पर सौर विकिरण अपने उत्कर्ष पर होता है — है।
 1. नीला
 2. हरा
 3. लाल
 4. पराबैंगनी
39. The wavelength/colour at which solar radiation peaks is
 1. blue
 2. green
 3. red
 4. ultraviolet
40. इनमें से किस परिस्थितिक तंत्र के पास सर्वाधिक जैवमात्रा होती है?
 1. महासागर
 2. घास के मैदान एवम् शस्यभूमि
 3. जंगल
 4. स्वच्छ जल
40. Which of the following ecosystems has the greatest biomass?
 1. Oceans
 2. Grasslands & Croplands
 3. Forests
 4. Freshwater
41. एक स्वतन्त्र तल वाले समांग समानुवर्ती माध्यम में —
 1. केवल रैले तरंग ही विद्यमान हो सकती हैं।
 2. केवल लव तरंग ही विद्यमान हो सकती हैं।
 3. रैले एवम् लव दोनों तरंगे विद्यमान हो सकती हैं।
 4. रैले एवम् लव दोनों तरंगे विद्यमान नहीं हो सकती।
41. In a homogeneous isotropic medium with a free surface
 1. only Rayleigh waves can exist
 2. only Love waves can exist
 3. both Rayleigh waves and Love waves can exist
 4. neither Rayleigh waves nor Love waves can exist

42. मध्य महासागरी विस्तार कटक का अभिलक्षण — से होता है।
 1. नति सर्पण भ्रंश
 2. सामान्य भ्रंश
 3. नति लंब सर्पण भ्रंश
 4. क्षेप भ्रंश
42. Mid Oceanic spreading ridges are characterized by
 1. dip slip faults
 2. normal faults
 3. strike slip faults
 4. thrust faults
43. घनत्व भेद — के आर-पार बहुतग होता है।
 1. पर्पटी-प्रावार सीमा
 2. प्रावार-बाहरी क्रोड़ सीमा
 3. बाहरी क्रोड़ एवम् आन्तरिक क्रोड़ सीमा
 4. ऊपरी पर्पटी एवम् निम्न पर्पटी सीमा
43. Density contrast is the maximum across the
 1. crust - mantle boundary
 2. mantle - outer core boundary
 3. outer - core and inner - core boundary
 4. upper crust and lower crust boundary
44. पृथ्वी की सन्दर्भ गोलाभ —
 1. महासागर भाग में भू-आम के अनुरूप होता है।
 2. भूमि भाग में भू-आम के अनुरूप होता है।
 3. महासागर भाग में भू-आम के नीचे होता है।
 4. महासागर भाग में भू-आम के ऊपर होता है।
44. Earth's reference spheroid
 1. coincides with the geoid in the oceanic region
 2. coincides with the geoid in the land region
 3. is below the geoid in the oceanic region
 4. is above the geoid in the oceanic region
45. ग्रह A एवम् B दोनों सूर्य के चक्कर लगाते हैं। सूर्य से A की अपेक्षा B चार गुना दूरी पर स्थित है। इस अवस्था में A की अपेक्षा B के वर्ष की अवधि — होगी।
 1. समान
 2. दोगुना
 3. चार गुना
 4. आठ गुना
45. Two planets A and B orbit around their Sun, B being four times farther away than A from their Sun. Then the length of the year on B, compared to that A, would be
1. the same
 2. twice
 3. four times
 4. eight times
46. अंतः सतह भूकंप मुख्यतया — की गहराई पर होते हैं।
 1. 0-40 km
 2. 40-100 km
 3. 100-300 km
 4. 300-700 km
46. Intraplate earthquakes predominantly occur in the depth range
 1. 0-40 km
 2. 40-100 km
 3. 100-300 km
 4. 300-700 km
47. पृथ्वी के सतह पर पृथ्वी का सामान्य चुंबकीय क्षेत्र —
 1. ऊँचाई और गहराई दोनों के साथ घटता है।
 2. ऊँचाई के साथ घटता है, परन्तु गहराई के साथ बढ़ता है।
 3. ऊँचाई के साथ बढ़ता है, परन्तु गहराई के साथ घटता है।
 4. ऊँचाई और गहराई दोनों के साथ बढ़ता है।
47. On the Earth's surface, the Earth's normal magnetic field
 1. decreases both with elevation and depth
 2. decreases with elevation, but increases with depth
 3. increases with elevation, but decreases with depth
 4. increases both with elevation and depth
48. चार स्टेशनों A, B, C एवम् D, जो क्रमशः विभिन्न ऊँचाईयों h_A, h_B, h_C एवम् h_D पर हैं। इन स्टेशनों पर मापा गया गुरुत्व सारता बराबर पाये जाने पर निम्न में कौन सा सही है?
- 
1. $h_A > h_B > h_D > h_C$
 2. $h_C > h_B > h_A > h_D$
 3. $h_B > h_C > h_D > h_A$
 4. $h_D > h_A > h_B > h_C$

48. Gravity values measured at four stations A, B, C and D (see in the figure) of different elevations h_A, h_B, h_C and h_D are found to be equal. Then,



1. $h_A > h_B > h_D > h_C$
 2. $h_C > h_B > h_A > h_D$
 3. $h_B > h_C > h_D > h_A$
 4. $h_D > h_A > h_B > h_C$
49. स्फैलेराइट (ZnS) एवम् सीनाबार (HgS) विद्युत प्रकृति के अनुसार —
1. दोनों अच्छे चालक हैं।
 2. दोनों खराब चालक हैं।
 3. क्रमशः अच्छे व खराब चालक हैं।
 4. क्रमशः खराब व अच्छे चालक हैं।
49. Electrically, sphalerite (ZnS) and cinnabar (HgS) are
1. both good conductors
 2. both bad conductors
 3. good and bad conductors, respectively
 4. bad and good conductors, respectively
50. एक भूकंप से क्रोण-प्रावार सीमा पर आती हुई P एवम् S तरंगों का क्रांतिक प्रत्यवर्तन
1. एक ही स्थान पर होगा।
 2. विभिन्न स्थानों पर होगा, P का क्रांतिक प्रत्यवर्तन अधिकेन्द्र के पास होगा।
 3. विभिन्न स्थानों पर होगा, S का क्रांतिक प्रत्यवर्तन अधिकेन्द्र के पास होगा।
 4. कहीं नहीं होगा।
50. P and S waves, from an earthquake, incident on the core-mantle boundary are critically refracted
1. at the same location
 2. at different locations, P being critically refracted closer to the epicentre
 3. at different locations, S being critically refracted closer to the epicentre
 4. nowhere

51. गर्मी के महीनों में उत्तर पश्चिम भारत में होने वाले वायुयान संकट का सामान्य कारण — होता है।

1. कुहरा
2. ऊष्मा निम्नता
3. चक्रवात
4. धूल-आंधी

51. Aviation hazards in North West India in the summer months are generally due to
1. fog
 2. heat low
 3. cyclones
 4. dust-storms

52. नीचे दिये गये वायुमंडल सतह समुच्चयों में से किस में ऊँचाई के साथ तापमान की वृद्धि होती है?

1. वाह्य वायु मंडल एवम् क्षोभ मंडल
2. समताप मंडल एवम् क्षोभ मंडल
3. मध्य मंडल एवम् क्षोभ मंडल
4. समताप मंडल एवम् वाह्य वायु मंडल

52. In which set of the following atmospheric layers, the temperature increases with altitude?

1. Thermosphere and troposphere
2. Stratosphere and troposphere
3. Mesosphere and troposphere
4. Stratosphere and thermosphere

53. समताप मंडल में ओजोन नष्ट होने के प्रभाव से —

1. ग्रीन हाउस प्रभाव बढ़ता है।
2. पृथ्वी-वायुमंडल ठंडा होता है।
3. क्षोभ मंडल में अवरक्त विकिरण बढ़ता है।
4. क्षोभ मंडल में पराबैंगनी विकिरण बढ़ता है।

53. Ozone depletion in the stratosphere causes

1. increase in greenhouse effect
2. cooling of the earth-atmosphere system
3. increase of infrared radiation in the troposphere
4. increase of ultraviolet radiation in the troposphere

54. दिसंबर संक्राति के दौरान

1. उत्तरी गोलार्ध में दिन बढ़ा एवम् रात छोटी होती है।
2. दिन और रात के समय बराबर होते हैं।
3. सूर्य की दोपहर की किरणें $23\frac{1}{2}^\circ S$ पर होती हैं।
4. सूर्य की दोपहर की किरणें $23\frac{1}{2}^\circ N$ पर होती हैं।

54. During the December solstice,
 1. days are long and nights are short in the northern hemisphere
 2. days and nights are of equal duration
 3. noon rays of the Sun are over $23\frac{1}{2}^{\circ}$ S
 4. noon rays of the Sun are over $23\frac{1}{2}^{\circ}$ N
55. निम्न में से किस का NINO3 INDEX के साथ घनात्मक सहसंबंध होता है, जो कि ENSO परिवर्तन दिखाता है?
 1. भारत की ग्रीष्म मानसून वर्षा
 2. पूर्वोत्तर मानसून के समय तमिलनाडु के ऊपर वर्षा
 3. पूर्वोत्तर मानसून के समय तमिलनाडु में तापमान
 4. ऑस्ट्रेलिया में ग्रीष्म मानसून के समय वर्षा
55. Which one of the following has a positive correlation with the NINO3 INDEX, which represents ENSO variability?
 1. Indian summer monsoon rainfall
 2. Rainfall over Tamil Nadu during northeast monsoon
 3. Temperature in Tamil Nadu during northeast monsoon
 4. Rainfall in Australia during summer monsoon
56. ग्रीष्म काल में दुर्बल मानसून अवस्था के समय मानसून द्रोणी — बढ़ता है।
 1. दक्षिण हिमालय गिरिपाद के समीप
 2. हिमालय के आगे उत्तर की तरफ
 3. चेन्नई के समीप
 4. कोलकाता के ऊपर
56. During a break-monsoon condition in summer, the monsoon trough moves
 1. closer to the southern foot hills of Himalaya
 2. northward beyond Himalaya
 3. closer to Chennai
 4. over Kolkata
57. कोरियोलिस एवम् अपकेन्द्रीय बल के सामंजस्य से संबंधित प्रवाह को — जाना जाता है।
 1. चक्रगतिक प्रवाह
 2. जड़त्वीय प्रवाह
 3. भूविक्षेपी प्रवाह
 4. प्रवणता प्रवाह
57. A flow associated with a balance between Coriolis and centrifugal forces is known as
 1. cyclostrophic flow 2. inertial flow
 3. geostrophic flow 4. gradient flow
58. इनमें से किस परिघटना में विशेष समय मापक्रम कुछ घंटों से ज्यादा नहीं होता?
 1. अग्र रचना
 2. महासागरीय भंवर
 3. ऊपरी सतह में महासागरी मिश्रण
 4. बहुतायत वाष्पिकरण को रोकने में वनस्पतियों का प्रभाव
58. For which of the following phenomena, the typical timescale does not exceed a few hours?
 1. Frontal system
 2. Ocean eddy
 3. Ocean mixing in the surface layer
 4. response of vegetation to oppose excess evaporation
59. एक प्राकृतिक वायुमंडल जिसमें अति संतृप्ति विरले ही 1% से ऊपर है, वाष्प से तरल परिवर्तन से संबंधित सबसे सामान्य नाभिकन — है।
 1. समांग नाभिकन
 2. असमांग नाभिकन
 3. स्वतः नाभिकन
 4. सम्पर्क नाभिकन
59. In the natural atmosphere with supersaturation rarely more than 1%, the most common form of nucleation associated with change of vapour to liquid is
 1. homogeneous nucleation
 2. heterogeneous nucleation
 3. spontaneous nucleation
 4. contact nucleation
60. इनमें से कौन सा तापीय चालित सीधा परिसंचरण नहीं है?
 1. दक्षिण गोलार्ध में ध्रुवीय सेल
 2. हैडले सेल
 3. फेर्रेल सेल
 4. उत्तरी गोलार्ध में ध्रुवीय सेल
60. Which one of the following is NOT a thermally driven direct circulation?
 1. Polar Cell in the southern hemisphere
 2. Hadley Cell
 3. Ferrel Cell
 4. Polar Cell in the northern hemisphere

61. गलत वक्तव्य को चुने : महासागर में
 1. मुख्य तत्व संरक्षी हैं।
 2. कुछ लघु तत्व संरक्षी हैं।
 3. असंरक्षी तत्व कम निवास काल वाले होते हैं।
 4. सारे असंरक्षी तत्व जीव व्यवहारी होते हैं।
61. Pick out the wrong statement : In the ocean,
 1. major elements are conservative
 2. a few minor elements are conservative
 3. non-conservative elements have short residence times
 4. all non-conservative elements are bioactive
62. Mn, Cr, U एवम् V की उच्चतमता/ निम्नता मध्य गभीर आक्सीजन लघुतम क्षेत्र से संबंधित होती हैं। इनमें से कौन सही संबंध हैं?
 1. Mn की निम्नता और Cr, U, V की उच्चतमता
 2. Mn की उच्चतमता और Cr, U, V की निम्नता
 3. Mn, Cr की उच्चतमता और U, V की निम्नता
 4. Mn, Cr की निम्नता और U, V की उच्चतमता
62. The mid-depth oxygen minimum zones are associated with maxima/minima of the elements Mn, Cr, U and V. Which of the following is the correct association?
 1. Minima of Mn and maxima of Cr, U and V.
 2. Maxima of Mn and minima of Cr, U and V.
 3. Maxima of Mn and Cr and minima of U and V.
 4. Minima of Mn and Cr and maxima U and V.
63. पृथ्वी के वायुमंडल में सबसे कम पायी जानी वाली गैस — है।
 1. नाइट्रोजन
 2. ऑक्सीजन
 3. कार्बन डाईऑक्साईड
 4. आर्गन
63. The least abundant gas in the Earth's atmosphere is
 1. nitrogen 2. oxygen
 3. carbon dioxide 4. argon
64. जल संग्रह पहचान के लिये कौन से दो प्राचल आवश्यक हैं?
 a) स्व-स्थाने तापमान
 b) स्व-स्थाने लवणता
 c) तापमान विभव
 d) घनत्व विभव
 1. a एवम् b 2. a एवम् d
 3. b एवम् c 4. c एवम् d
64. For water mass identification, which of the two parameters are essential?
 a) *in situ* temperature
 b) *in situ* salinity
 c) potential temperature
 d) potential density
 1. a and b 2. a and d
 3. b and c 4. c and d
65. इनमें से कौन सा महासागरीय संवाहक पट्टिका परिसंचरण का भाग नहीं है?
 1. उत्तरी अटलांटिक गभीर जल
 2. अंटार्कटिक तलीय जल
 3. उपोष्ण जलवायु वृत्ताकार गति
 4. इंडोनेशीयन ट्रोपी प्रवाह
65. Which one of the following does not form a part of the oceanic conveyor belt circulation?
 1. North Atlantic deep water
 2. Antarctic bottom water
 3. Subtropical gyre
 4. Indonesian through flow
66. दक्षिण से उत्तर की तरफ भारत के पश्चिमी तट पर ज्वारीय आयाम के बढ़ने का कारण
 1. दक्षिण से उत्तर की तरफ महाद्वीपीय शैल्फ की चौड़ाई है।
 2. दक्षिण से उत्तर की तरफ कोइरियालिस बल है।
 3. दक्षिण से उत्तर की तरफ महाद्वीपीय ढाल का अतिप्रवण है।
 4. दक्षिण से उत्तर की तरफ वायु प्रणोदन का प्रभाव।
66. Tidal amplitude increases from south to north along the west coast of India because of the increase in the
 1. width of the continental shelf from south to north
 2. Coriolis force from south to north
 3. steepness of the continental slope from south to north
 4. wind forcing from south to north

67. जब एक सतही गुरुत्वीय तरंग गहरे जल से उथले जल क्षेत्र में आगे बढ़ती है तब इनमें से कौन सी दो बहुत सामान्य प्रक्रियाएँ होती हैं?
- a) अपवर्तन b) परावर्तन
c) विवर्तन d) प्रघात
1. a एवम् b 2. a एवम् c
3. a एवम् d 4. b एवम् d

67. Which two of the following processes most commonly occur when a surface gravity wave propagates into a shallow water region from deep water?

- a) refraction b) reflection
c) diffraction d) shoaling
1. a and b 2. a and c
3. a and d 4. b and d

68. स्वपोशी पादप प्लवक — में अनुपस्थित होते हैं।

1. अति अल्पपोशी समुद्री क्षेत्र
2. ठंडे, कम प्रकाशयुक्त सतही जल
3. समुद्री बर्फ सहित सुप्रकाशित परत
4. सभी महासागरों के डेडल क्षेत्र

68. Autotrophic phytoplankton are absent in the

1. ultra oligotrophic marine regions
2. cold, lowly illuminated surface waters
3. euphotic layers laden with marine snow
4. hadal region of all the major oceans

69. इनमें से कौन समुद्री नितलस्थ पॉलीकीटों द्वारा किया कार्य पारिस्थितिकीय लाभप्रद है?

1. अग्लीकरण
2. विऑक्सीजनीकरण
3. निराविषिकरण
4. बायोटर्बेशन

69. Which one of the functions performed by marine benthic polychaetes is ecologically advantageous?

1. Acidification
2. Deoxygenation
3. Detoxification
4. Bioturbation

70. अंटार्कटिक जल में इनमें से कौन सारभूत तत्व डायटम के विकास एवम् उत्पादन के लिये बहुत अनिवार्य है?

1. सिलिकॉन 2. आयरन
3. वैनैडियम 4. मॉलिब्डेनम

70. Which one of the essential elements is the most critical for the growth and production of diatoms in the Antarctic waters?
1. Silicon 2. Iron
3. Vanadium 4. Molybdenum

भाग/PART C

71. शैल खनिजों का उनके भारत में पाये जाने वाले स्थानों से मिलान करें।

शैल खनिज	भारत में पाये जाने का स्थल
A. कोमटीआईट	P. झामरकोटरा
B. इक्लोगाईट	Q. खरीजार
C. नेफेलीन सायनाईट	R. नग्गीहल्ली
D. फास्फोरायट	S. लदाख

1. A-P, B-R, C-S, D-Q
2. A-R, B-Q, C-P, D-S
3. A-R, B-S, C-Q, D-P
4. A-P, B-Q, C-S, D-P

71. Match the rocks/minerals with their Indian occurrences.

Rock/Mineral	Indian Occurrences
A. Komatiite	P. Jhamarkotra
B. Eclogite	Q. Khariar
C. Nepheline Syenite	R. Nuggihalli
D. Phosphorite	S. Ladakh

1. A-P, B-R, C-S, D-Q
2. A-R, B-Q, C-P, D-S
3. A-R, B-S, C-Q, D-P
4. A-P, B-Q, C-S, D-P

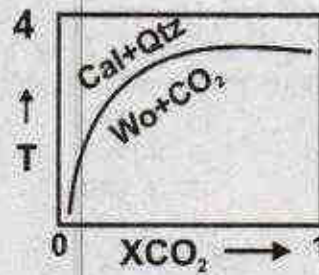
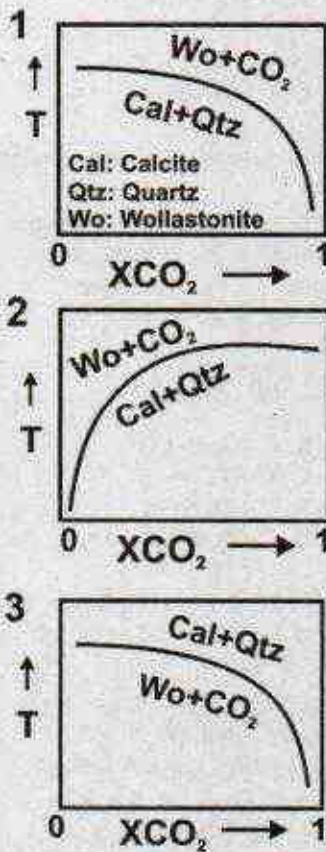
72. एक शैल जो 2Ga पर रिक्तीकृत प्रावार उद्गम के गलने से बना, आज के दिन उसके $^{143}\text{Nd}/^{144}\text{Nd}$ एवम् $^{87}\text{Sr}/^{86}\text{Sr}$ समस्थानिक अनुपात माये गये। इनमें से कौन सबसे ज्यादा संभव है?

1. शैल में $^{143}\text{Nd}/^{144}\text{Nd}$ एवम् $^{87}\text{Sr}/^{86}\text{Sr}$ अनुपात उद्गम प्रावार के बराबर है।
2. उद्गम प्रावार की अपेक्षा $^{143}\text{Nd}/^{144}\text{Nd}$ ज्यादा है, एवम् $^{87}\text{Sr}/^{86}\text{Sr}$ कम है।
3. उद्गम प्रावार की अपेक्षा $^{143}\text{Nd}/^{144}\text{Nd}$ कम एवम् $^{87}\text{Sr}/^{86}\text{Sr}$ ज्यादा है।
4. दोनों, $^{143}\text{Nd}/^{144}\text{Nd}$ एवम् $^{87}\text{Sr}/^{86}\text{Sr}$ अनुपात उद्गम से कम है।

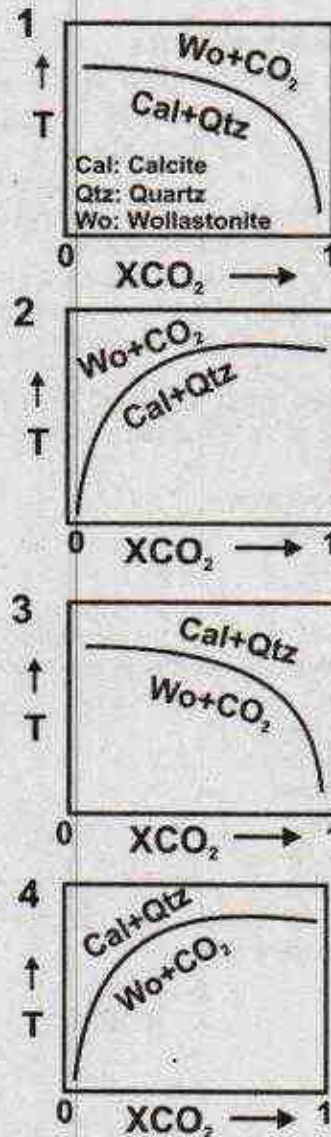
72. Isotope ratios $^{143}\text{Nd}/^{144}\text{Nd}$ and $^{87}\text{Sr}/^{86}\text{Sr}$ are measured today in a rock that formed at 2Ga by melting of a depleted mantle source. Which of the following is most likely?

1. $^{143}\text{Nd}/^{144}\text{Nd}$ and $^{87}\text{Sr}/^{86}\text{Sr}$ ratios in the rock are the same as in the source mantle
2. $^{143}\text{Nd}/^{144}\text{Nd}$ ratios is higher and $^{87}\text{Sr}/^{86}\text{Sr}$ is lower than the source mantle
3. $^{143}\text{Nd}/^{144}\text{Nd}$ ratios is lower and $^{87}\text{Sr}/^{86}\text{Sr}$ is higher than the source mantle
4. Both $^{143}\text{Nd}/^{144}\text{Nd}$ and $^{87}\text{Sr}/^{86}\text{Sr}$ ratios are lower than that of the source

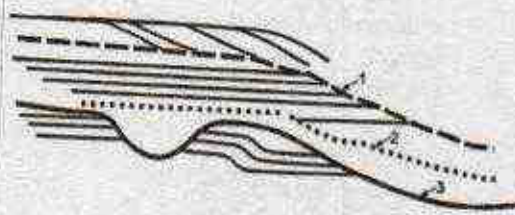
73. अगर उष्मागतिय समिकरण $\left(\frac{\delta T}{\delta X_{\text{CO}_2}}\right)_p = \frac{RT}{\Delta S_r} \left(\frac{n}{X_{\text{CO}_2}} - \frac{m}{X_{\text{H}_2\text{O}}}\right)$ का संबंध एक स्थिर दाब पर तापमान-द्रव संयोजन संबंध से है, जो की एक प्रतिरूप विवाष्पिकरण प्रक्रिया $A = B + m\text{H}_2\text{O} + n\text{CO}_2$ के लिये है। इनमें से कौन चित्र सही रूप से डीकार्बोनेशन प्रक्रिया प्रदर्शित करता है।



73. If the thermodynamic equation, $\left(\frac{\delta T}{\delta X_{\text{CO}_2}}\right)_p = \frac{RT}{\Delta S_r} \left(\frac{n}{X_{\text{CO}_2}} - \frac{m}{X_{\text{H}_2\text{O}}}\right)$ relates the temperature - fluid composition relationship at constant pressure for a model devolatilization reaction, $A = B + m\text{H}_2\text{O} + n\text{CO}_2$, which of the following diagrams correctly depicts a decarbonation reaction




74. नीचे दिया गया चित्र एक अवसादी अनुक्रम में 3 मुख्य अनुक्रम स्तरित तल (1,2,3) दिखा रहा है, जो नाम से अनुक्रम परिसीमा (SB), परम् बाढ़ तल (MFS) एवम् अतिक्रमण तल (TS) हैं। इनमें से नीचे दिया गया कौन संयोग सही है?



1. 1 - SB, 2 - MFS, 3 - TS
2. 1 - TS, 2 - SB, 3 - MFS
3. 1 - MFS, 2 - TS, 3 - SB
4. 1 - MFS, 2 - SB, 3 - TS

74. The diagram below shows 3 important sequence stratigraphic surfaces (1, 2, 3) in a sedimentary sequence, namely sequence boundary (SB), maximum flooding surface (MFS) and transgressing surface (TS). Which one of the combinations below is correct?



1. 1 - SB, 2 - MFS, 3 - TS
2. 1 - TS, 2 - SB, 3 - MFS
3. 1 - MFS, 2 - TS, 3 - SB
4. 1 - MFS, 2 - SB, 3 - TS

75. महाद्वीपीय शेल्फ में इनमें से कौन मापदंड के संयोग गैस हाईड्रेट की उपस्थिति की सर्वोत्तम व्याख्या करता है? (V_p एवम् V_s भूतरंगों के वेग हैं)

1. $\delta^{13}C$ कार्बोनेट $< -40\%$ - V_p एवम् V_s दोनों में अचानक वृद्धि
2. $\delta^{13}C$ कार्बोनेट $\sim 0\%$ - V_p एवम् V_s दोनों में अचानक गिरावट
3. $\delta^{13}C$ कार्बोनेट $\sim +5\%$ - V_p में अचानक वृद्धि परन्तु V_s में गिरावट
4. $\delta^{13}C$ कार्बोनेट $\sim +10\%$ - V_p में अचानक गिरावट परन्तु V_s में वृद्धि

75. Which one of the following combinations of parameters best explains the presence of gas hydrates in the continental shelf? (V_p and V_s are velocities of seismic waves)

1. $\delta^{13}C$ Carbonate $< -40\%$ - abrupt increase in both V_p and V_s
2. $\delta^{13}C$ Carbonate $\sim 0\%$ - abrupt decrease in both V_p and V_s
3. $\delta^{13}C$ Carbonate $\sim +5\%$ - abrupt increase in V_p but decrease in V_s
4. $\delta^{13}C$ Carbonate $\sim +10\%$ - abrupt decrease in V_p but increase in V_s

76. इनका मिलान करें :

A. स्पैरिटिक चूना पत्थर	P. एलीनाइट
B. एरेनाइट	Q. फ्लोटिंग क्लारट
C. डेब्राइट	R. अधिक बढ़ा हुआ क्वार्ट्ज
D. कार्बनिक शैल	S. आइसोपैकस सीमेन्ट

1. A - S, B - R, C - Q, D - P
2. A - R, B - Q, C - P, D - S
3. A - Q, B - P, C - S, D - R
4. A - P, B - S, C - R, D - Q

76. Match the following:

A. Sparitic Limestone	P. Alginite
B. Arenite	Q. Floating clast
C. Debrite	R. Quartz overgrowth
D. Organic shale	S. Isopachous cement

1. A - S, B - R, C - Q, D - P
2. A - R, B - Q, C - P, D - S
3. A - Q, B - P, C - S, D - R
4. A - P, B - S, C - R, D - Q

77. एक पिक्राइट बैसाल्ट के ओलीविन (Ol) लक्ष्यक्रिस्टल एवम् आघात्रिका (gm) में मापा गया La एवम् Co सांद्रता इस प्रकार है।

$$La^{Ol} = 10\text{ppb}; La^{gm} = 2\text{ppm}$$

$$Co^{Ol} = 4\text{ppm}; Co^{gm} = 2\text{ppm}$$

ऊपर दिये गये सूचना के अनुसार दिये हुए La एवम् Co के खनिज-गलित वितरण गुणांक के बारे में इनमें से कौन सा वक्तव्य सही है? (K_d वितरण गुणांक है)

1. $K_d^{La} = 0.005$ एवम् $K_d^{Co} = 2$; La असंगत एवम् Co संगत है।
2. $K_d^{La} = 5$ एवम् $K_d^{Co} = 2$; दोनों संगत हैं।
3. $K_d^{La} = 0.5$ एवम् $K_d^{Co} = 0.5$; दोनों असंगत हैं।
4. $K_d^{La} = 0.005$ एवम् $K_d^{Co} = 2$; La संगत है एवम् Co असंगत है।

77. Concentration of La and Co, measured in olivine (Ol) phenocryst and ground mass (gm) of a picritic basalt, are:

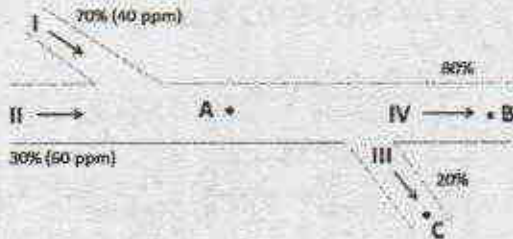
$$La^{Ol} = 10\text{ppb}; La^{gm} = 2\text{ppm}$$

$$Co^{Ol} = 4\text{ppm}; Co^{gm} = 2\text{ppm}$$

Given the above information which of the following statements on the mineral-melt partitioning behaviour of La and Co is correct? (K_d is partition coefficient)

1. $K_d^{La} = 0.005$ and $K_d^{Co} = 2$; La is incompatible and Co is compatible
2. $K_d^{La} = 5$ and $K_d^{Co} = 2$; both are compatible
3. $K_d^{La} = 0.5$ and $K_d^{Co} = 0.5$; both are incompatible
4. $K_d^{La} = 0.005$ and $K_d^{Co} = 2$; La is compatible and Co is incompatible

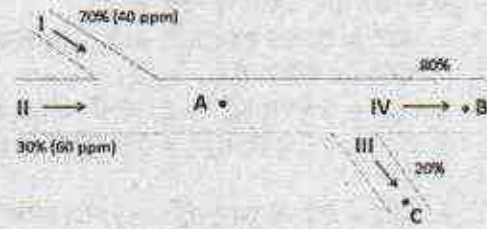
78.



ऊपर दिया गया चित्र एक नदी तंत्र के साथ उसके सहायक (I एवम् II) एवम् वितरण (III एवम् IV) नदियों का खाका है। यह उनके द्वारा लाये गये पानी की मात्रा को प्रतिशत में भी बतलाता है। अगर Ca की सांद्रता I एवम् II में क्रमशः 40ppm एवम् 60ppm है तब इनमें से कौन सा वस्तु Ca की सांद्रता के लिए सही है? (Ca की सांद्रता A, B एवम् C पर क्रमशः Ca_A , Ca_B एवम् Ca_C है)

1. $Ca_A = Ca_B = Ca_C$
2. $Ca_A > Ca_B > Ca_C$
3. $Ca_A > Ca_B < Ca_C$
4. $Ca_A = Ca_B > Ca_C$

78.

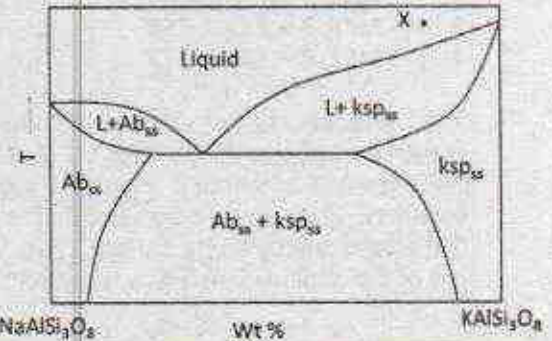


2-A-H

The diagram above shows a schematic of a river system with its tributaries (I & II) and distributaries (III & IV). It also shows the amount of water carried by them in percentage of the total. If the concentrations of Ca in I and II are 40ppm and 60ppm, respectively then which of the following statements about the concentration of Ca is correct? (Ca concentrations at A, B and C are, respectively, Ca_A , Ca_B and Ca_C).

1. $Ca_A = Ca_B = Ca_C$
2. $Ca_A > Ca_B > Ca_C$
3. $Ca_A > Ca_B < Ca_C$
4. $Ca_A = Ca_B > Ca_C$

79.



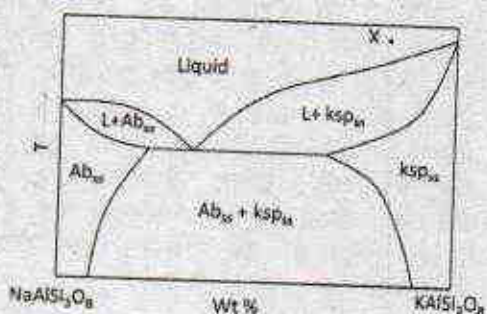
Abbreviations: L: Liquid; ksp_{ss} : K-feldspar solid solution; Ab_{ss} : Albite solid solution

साम्य अवस्था में (घटना A) एवम् एक X संयोजन का गलित जो की सालीडस के नीचे ठंडा हो रहा है का प्रभाजी क्रिस्टलन (घटना B) के दौरान ऊपर दिये गये प्रावस्था चित्र के अनुसार इनमें से कौन सही क्रम में सालीडस(s) एवम् सबसालीडस(ss) प्रावस्था विकास का वर्णन करता है?

1. A: $ksp_{ss}(s) \rightarrow$ अपविलयन(ss), B: $ksp_{ss}(s) \rightarrow$ अपविलयन(ss) $\rightarrow Ab_{ss} + ksp_{ss}(s)$
2. A: $ksp_{ss}(s) \rightarrow Ab_{ss}(s) + ksp_{ss}(s) \rightarrow$ अपविलयन(ss), B: $ksp_{ss}(s) \rightarrow$ अपविलयन(ss)
3. A: $ksp_{ss}(s) \rightarrow$ अपविलयन(ss) $\rightarrow Ab_{ss}(s) + ksp_{ss}(s)$, B: $ksp_{ss}(s) \rightarrow Ab_{ss}(s) + ksp_{ss}(s)$
4. A: $ksp_{ss}(s) \rightarrow$ अपविलयन(ss), B: $ksp_{ss}(s) \rightarrow Ab_{ss}(s) + ksp_{ss}(s) \rightarrow$ अपविलयन(ss)

S/11 RISE/18—2AH—2B

79.



Abbreviations: L: Liquid, ksp_{ss} : K-feldspar solid solution; Ab_{ss} : Albite solid solution

Based on the above phase diagram, which of the following sequences correctly describes solidus(s) and subsolidus(ss) phase evolution during equilibrium (case A) and fractional crystallization (case B) of a melt of composition X cooling below solidus

1. A: $ksp_{ss}(s) \rightarrow \text{exsolution}(ss)$, B: $ksp_{ss}(s) \rightarrow \text{exsolution}(ss) \rightarrow Ab_{ss} + ksp_{ss}(s)$
 2. A: $ksp_{ss}(s) \rightarrow Ab_{ss}(s) + ksp_{ss}(s) \rightarrow \text{exsolution}(ss)$, B: $ksp_{ss}(s) \rightarrow \text{exsolution}(ss)$
 3. A: $ksp_{ss}(s) \rightarrow \text{exsolution}(ss) \rightarrow Ab_{ss}(s) + ksp_{ss}(s)$, B: $ksp_{ss}(s) \rightarrow Ab_{ss}(s) + ksp_{ss}(s)$
 4. A: $ksp_{ss}(s) \rightarrow \text{exsolution}(ss)$, B: $ksp_{ss}(s) \rightarrow Ab_{ss}(s) + ksp_{ss}(s) \rightarrow \text{exsolution}(ss)$
80. 3.8 \AA के d -अंतरण वाले क्रिस्टल प्लेन (121) से एक्स रे विवर्तन का क्या अधिकतम कोटि होगा? एक्स रे का तरंग दैर्घ्य 1.54 \AA है।
1. 2
 2. 3
 3. 4
 4. 5
80. What is the maximum order of X-ray diffraction possible from (121) plane of a crystal with d -spacing of 3.8 \AA . Wavelength of the X-ray is 1.54 \AA .
1. 2
 2. 3
 3. 4
 4. 5
81. एक क्रिस्टल जिसमें दो समतल 2-वलन अक्ष सममिति का विभाजन लाम्बिक दिशा वाले खड़े दर्पण करते हैं का बिंदु समूह सममिति — है।
1. $42m$
 2. $2mm$
 3. $3\frac{2}{m}$
 4. $\frac{2}{m}\bar{3}$
81. The point group of symmetry of a crystal having two horizontal 2-fold axes of symmetry that are bisected by two vertical mirror planes of orthogonal orientation is

1. $42m$
2. $2mm$
3. $3\frac{2}{m}$
4. $\frac{2}{m}\bar{3}$

82. एक द्विअक्षिय खनिज में अगर X, Y एवम् Z कंपन दिशाओं के तुल्य α, β एवम् γ प्रत्यावर्तन अक्षांक है, दिर्घ वृत्तज के मूल खंड में सबसे बड़े अंतरलक्ष रंगों वाले सही ऊत्तर को चुनें। यह मान लें कि खनिजों के पास बराबर की मोटाई है।

1. $\alpha = 1.633, \beta = 1.639, \gamma = 1.644$
2. $\alpha = 1.633, \beta = 1.651, \gamma = 1.670$
3. $\alpha = 1.751, \beta = 1.784, \gamma = 1.797$
4. $\alpha = 1.550, \beta = 1.594, \gamma = 1.600$

82. If α, β, γ are refractive indices corresponding to X, Y and Z vibration directions in a biaxial mineral, choose the option with the highest order of interference colour in its principal section of ellipsoid. Assume the minerals have a uniform thickness.

1. $\alpha = 1.633, \beta = 1.639, \gamma = 1.644$
2. $\alpha = 1.633, \beta = 1.651, \gamma = 1.670$
3. $\alpha = 1.751, \beta = 1.784, \gamma = 1.797$
4. $\alpha = 1.550, \beta = 1.594, \gamma = 1.600$

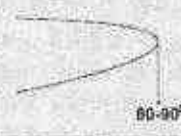



83. इन प्रतिस्थापन सदिशों में से कौन एक एम्फीबोल समूह के खनिजों में उच्च दबाव/निम्न ताप कार्यांतरण की सबसे अच्छी व्याख्या करते हैं? कोष्ट में दिये गये मान धनायन के समन्वय संख्या है।

1. $Ca(VIII) + Mg(VI) \rightarrow Na(VIII) + Al(VI)$
2. $\square(XII) + Si(IV) \rightarrow Na(XII) + Al(IV)$
3. $Mg(VI) + Si(IV) \rightarrow Al(VI) + Al(IV)$
4. $\square(XII) + Mg(IV) + Si_2(IV) \rightarrow Na(XII) + Al(VI) + Al_2(IV)$

83. Which one of the following substitution vectors in amphibole group of minerals best explains high pressure/low-temperature metamorphism? Values under parenthesis refer to co-ordination number of cations.

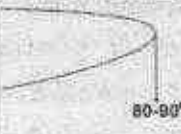



1. $Ca(VIII) + Mg(VI) \rightarrow Na(VIII) + Al(VI)$
2. $\square(XII) + Si(IV) \rightarrow Na(XII) + Al(IV)$
3. $Mg(VI) + Si(IV) \rightarrow Al(VI) + Al(IV)$
4. $\square(XII) + Mg(IV) + Si_2(IV) \rightarrow Na(XII) + Al(VI) + Al_2(IV)$

84. वलनों के अंशदर्शन रूपों को उनके तुल्य प्रकारों से मिलान करें।

अंशदर्शन रूप	वलन
A.  60-90°	P. अवनमनी अपनति रूप
B.  0-10°	Q. अवनमनी अभिनत रूप
C.  20°	R. रिक्लाईड
D.  20°	S. शयान

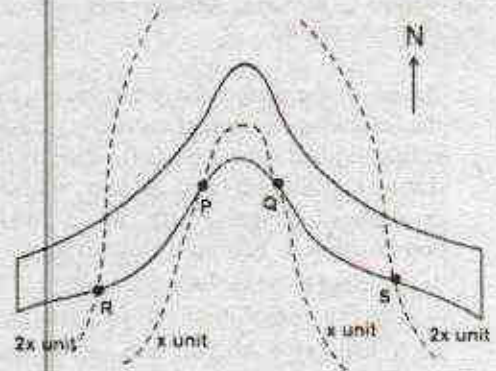
1. A - P, B - Q, C - R, D - S
2. A - R, B - S, C - P, D - Q
3. A - R, B - S, C - Q, D - P
4. A - S, B - R, C - P, D - Q

84. Match the outcrop patterns of folds with corresponding types.

Outcrop Patterns	Fold
A.  80-90°	P. Plunging antiform
B.  0-10°	Q. Plunging synform
C.  20°	R. Reclined
D.  20°	S. Recumbent

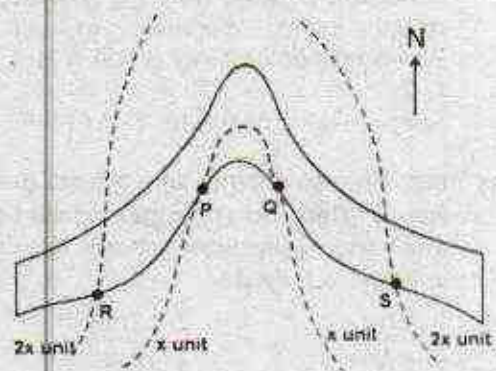
1. A - P, B - Q, C - R, D - S
2. A - R, B - S, C - P, D - Q
3. A - R, B - S, C - Q, D - P
4. A - S, B - R, C - P, D - Q

85. दिये गये चित्र में एक नत संस्तर (छायांकित) का अंशदर्शन रूप स्थलाकृतिक सम्मोच्च रेखा (दूटी रेखाओं द्वारा चिह्नित, एवम् समुद्री सतह से x एवम् 2x यूनिट की ऊँचाई पर) के साथ P, Q, R एवम् S पर प्रतिच्छेदन दिखाती है। यह मानते हुए कि नति की ओर विभिन्न ऊँचाईयों पर दो नतिलंब रेखाओं के बीच समतल पर दूरी 1.732x यूनिट है, तब नतिमान एवम् दिशा की गणना — पर होगी।



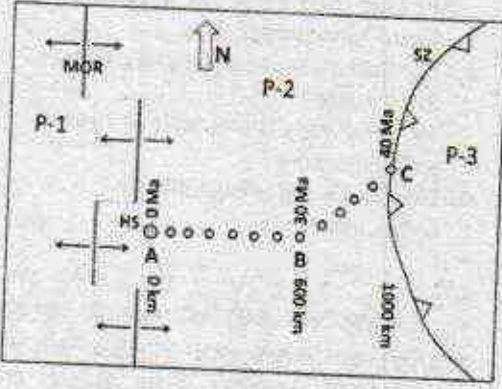
1. 30°N
2. 60°S
3. 60°N
4. 30°S

85. The outcrop pattern of a dipping bed (shaded) showing intersections with topographic contours (marked by dashed lines, and at altitudes x and 2x units above MSL) at P, Q, R and S is given in the diagram below. Assuming the horizontal distance between two strike lines at different altitudes, and in the direction of dip is 1.732x units, the dip amount and direction is calculated at

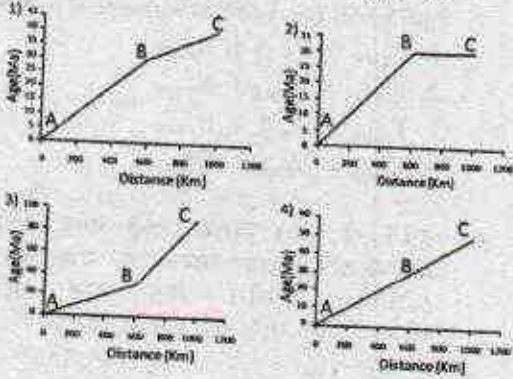


1. 30°N
2. 60°S
3. 60°N
4. 30°S

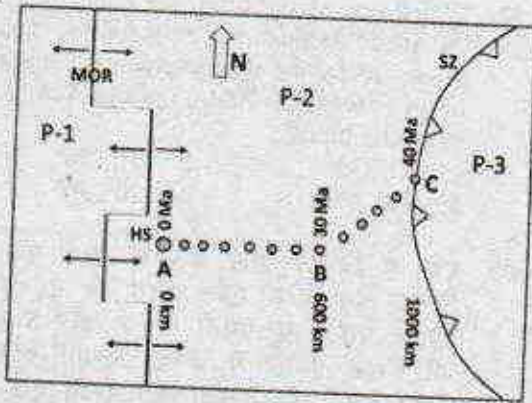
86.



ऊपर दिया गया चित्र तीन विवर्तन प्लेट P-1, P-2 एवम् P-3 की रूपरेखा खाका चित्र में दिखाता है एवम् जिसमें दो प्लेट परिसीमायें मध्य समुद्री कटक एवम् अंतःग्रसन क्षेत्र हैं। एक तप्त स्थान के ऊपर 40 Myr अन्तराल में बना 1000km लंबा तप्त स्थान पथचिन्ह A-B-C है। पथचिन्ह पर ज्वालामुखियों के उम्र के लिये नीचे दिये गये में से कौन इनके वर्तमान तप्त स्थान स्थिति से दूरीयों के संबंध में बताता है?

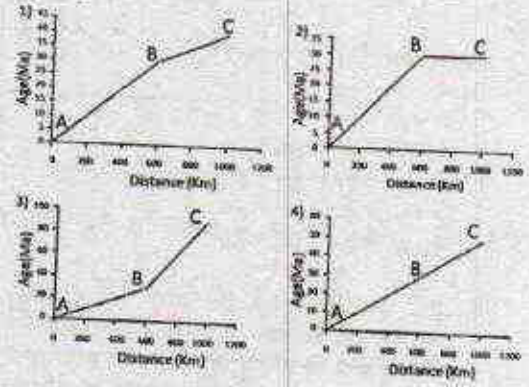


86.



The above diagram shows a schematic planar configuration of three tectonic plates P-1, P-2 and P-3 and two plate boundaries at a

spreading ridge (MOR) and subduction zone. A - B - C is a 1000km long hot spot track formed over a hot spot (HS) and for a period of 40 Myr. The ages of the volcanoes on the track would yield which one of the following relationships against their distances from the current location of the hot spot?



87. बराबर एवम् विभिन्न चौड़ाई वाले दो बाक्स-कार फलनों संवलित हैं। उत्पन्न फलन का रूप — है।
 1. बाक्स-कार 2. रैम्प
 3. समलंबाभ 4. त्रिकोण

87. Two box-car functions of equal height and unequal width are convolved. The output function has the shape of a
 1. box-car 2. ramp
 3. trapezoid 4. triangle

88. कुछ x एवम् y के मानों को नीचे सूचिबद्ध किया गया है जो $y = ax$ के संबंध का सम्मान करते हैं।

x	1	2	3	4
y	3	7	8	11

अनुपातिकता स्थिरांक का इष्टतम मान — है।
 1. 2.98 2. 2.90
 3. 2.83 4. 2.76

88. The following are some tabulated values of x and y which obey the relation $y = ax$.

x	1	2	3	4
y	3	7	8	11

The optimum value of the proportionality constant is
 1. 2.98 2. 2.90
 3. 2.83 4. 2.76

89. जैसा चित्र में दर्शाया गया है, चार दूरस्थित माप स्थलों A, B, C एवम् D जो एक पू-प. प्रोफाइल के साथ-साथ एवम् कगार स्थलाकृति के आर-पार है पर गुरुत्वीय मान g_A , g_B , g_C एवम् g_D मापे गये। तब — है।



1. $g_A > g_B > g_D > g_C$
2. $g_D > g_C > g_B > g_A$
3. $g_D > g_C > g_A > g_B$
4. $g_A > g_B > g_C > g_D$

89. g_A , g_B , g_C and g_D are the gravity values measured at four widely separated stations A, B, C and D along an E - W profile across an escarpment like topography as shown in the following figure. Then



1. $g_A > g_B > g_D > g_C$
2. $g_D > g_C > g_B > g_A$
3. $g_D > g_C > g_A > g_B$
4. $g_A > g_B > g_C > g_D$

90. एक 1.0 km मोटी चँची भू-भाग पर मापा गया गुरुत्वीय मान सामान्य गुरुत्वीय बल से 310 मिलीगाल कम पाया गया। इनमें कौन वक्तव्य गलत है।

1. आकणों की कमी से भूभाग के समस्थितिक प्रतिकार की तुल्यता नहीं जाँची जा सकती।
2. भूभाग समस्थितिक के लिये कम प्रतिकारित है।
3. भूभाग समस्थितिक के लिये ज्यादा प्रतिकारित है।
4. भूभाग समस्थितिक के लिये प्रतिकारित है।

90. The gravity value measured over a 1.0 km thick elevated land mass is found to be smaller than the normal gravity value by 310 milligals. Which of the following statements is TRUE?

1. The level of isostatic compensation of the land mass cannot be ascertained due to inadequate data
2. The land mass is isostatically under-compensated
3. The land mass is isostatically over-compensated
4. The land mass is isostatically compensated

91. यदि (F_{max}, F_{min}) , (V_{max}, V_{min}) एवम् (H_{max}, H_{min}) भूतल पर पृथ्वी की सामान्य चुम्बकत्व क्षेत्र की अधिकतम एवम् न्यूनतम मान एवम् क्रमशः इसके उर्ध्वाधर एवम् क्षैतिज घटक हैं। तब — है।

1. $F_{max}^2 = V_{max}^2 + H_{max}^2$
2. $F_{max}^2 = V_{max}^2 + H_{min}^2$
3. $F_{min}^2 = V_{min}^2 + H_{max}^2$
4. $F_{min}^2 = V_{max}^2 + H_{min}^2$

91. If (F_{max}, F_{min}) , (V_{max}, V_{min}) and (H_{max}, H_{min}) are the maximum and minimum values of the Earth's normal magnetic field on the Earth's surface, and its vertical and horizontal components respectively, then

1. $F_{max}^2 = V_{max}^2 + H_{max}^2$
2. $F_{max}^2 = V_{max}^2 + H_{min}^2$
3. $F_{min}^2 = V_{min}^2 + H_{max}^2$
4. $F_{min}^2 = V_{max}^2 + H_{min}^2$

92. इनमें से कौन क्रमशः नति एवम् डेक्लिनेशन का संयोग मध्य भारत में एक कृटीसियस (~70Ma) आग्नेय शैल वाले तापवशिष्ट चुम्बकत्व के पास हो सकता है?

1. $30^\circ, 330^\circ$
2. $40^\circ, 150^\circ$
3. $-20^\circ, 150^\circ$
4. $-30^\circ, 30^\circ$

92. Which one of the following combinations of dip and declination, respectively, can be possessed by the thermoremanent magnetism of a Cretaceous (~70Ma) igneous rock located in central India?

1. $30^\circ, 330^\circ$
2. $40^\circ, 150^\circ$
3. $-20^\circ, 150^\circ$
4. $-30^\circ, 30^\circ$

93. एक R त्रिज्या वाले ग्रह के पास एक R, त्रिज्या द्रव क्रॉड एवम् बहुत ही नगण्य के बराबर पतली भू-पर्पटी है। P और S तरंगों जो इसके प्राकार में क्रमशः समान गति से चलन करती हैं, उसका अभिलेखन एक 90° वाले अगिकेन्द्र दूरी से परे नहीं हो सकता है। तब R/R — होगा।

1. 2 km and 2 km/s
2. 2 km and 4 km/s
3. 3 km and 2 km/s
4. 3 km and 4 km/s
99. एक n -वलन, 12-चैनल CDP सर्वेक्षण किया गया जिसका स्रोत अंतराल (S) अभिग्रहण अंतराल (R) के बराबर है। एक $2n$ वलन के लिये उपयुक्त स्रोत अंतराल अभिग्रहण अंतराल के यूनिट में ——— होगी।
1. $S = 0.5 R$ 2. $S = 0.75 R$
3. $S = R$ 4. $S = 2R$
99. An n -fold, 12 channel CDP survey was carried out with the source spacing (S) equal to the receiver spacing (R). The source spacing required in units of receiver spacing, to obtain a $2n$ foldage is
1. $S = 0.5 R$ 2. $S = 0.75 R$
3. $S = R$ 4. $S = 2R$
100. एक उर्ध्वनति अपवर्तन सर्वेक्षण में यात्रा समय रेखा खंडों के क्रमशः 0.6666 से./कि.मी. एवम् 0.3333 से./कि.मी. प्रवणताये हैं। अगर क्रांतिककोण 60° है, तब अपवर्तक का नतिकोण ——— है।
1. 10° 2. 15°
3. 30° 4. 45°
100. The travel time line segments in an up-dip seismic refraction survey have gradients of 0.6666 sec/km and 0.3333 sec/km respectively. If the critical angle is 60° , the dip angle of the refractor is
1. 10° 2. 15°
3. 30° 4. 45°
101. निम्न आंकणों के लिए प्राप्त निर्माण घटक ——— है।
बाढ़ क्षेत्र प्रतिरोधकता = $1.30 \Omega m$
पंकनिस्पंद प्रतिरोधकता = $0.65 \Omega m$
अवशिष्ट तेल संतृप्ति = 25%
संतृप्ति घातांक = 2
1. 0.125 2. 1.125
3. 2.125 4. 3.125
101. The Formation factor obtained for the data given below is
Resistivity of the flushed zone = $1.30 \Omega m$.
Resistivity of the mudfiltrate = $0.65 \Omega m$.
Residual oil saturation = 25%
Saturation exponent = 2
1. 0.125 2. 1.125
3. 2.125 4. 3.125
102. γ -रे संलेखन में एक मोटे बालू पत्थर संस्तर एवम् एक मोटे शैल संस्तर के लिये प्राप्त गान क्रमशः 15 API यूनिट एवम् 115 API यूनिट है। एक निर्माण जिसका γ -रे सूचकांक 0.2 है, γ -रे पठन (API यूनिट में) ——— है।
1. 35 2. 45
3. 55 4. 65
102. In γ -ray logging, the values observed for a thick sandstone bed and a thick shale bed are 15 API units and 115 API units, respectively. The γ -ray reading (in API units) of a formation with a γ -ray index of 0.2 is
1. 35 2. 45
3. 55 4. 65
103. एक मोटे बालू जलभर जिसकी पारगम्यता 60 मी./दिन, संरघता 30% एवम् चलजलीय प्रवणता 1 मी. प्रति 1000 मी. है, अगर इसमें से एक रसायनिक रिसाव होता है तब किस गति से रसायन चलेगा?
1. 0.2 से.मी./दिन
2. 0.2 मी./दिन
3. 2 मी./दिन
4. 2 से.मी./दिन
103. If a chemical leak occurs in a coarse sand aquifer with a permeability of 60 m/day, a porosity of 30% and a hydraulic gradient of 1m per 1000 m, with what speed does the chemical move?
1. 0.2 cm/day 2. 0.2 m/day
3. 2 m/day 4. 2 cm/day
104. विकिरण प्रतिलोमन या तल प्रतिलोमन होता है जब ———
1. आसमान साफ हो एवम् हवा हल्की हों।
2. आसमान में बादल हों एवम् हवा हल्की हों।
3. आसमान में बादल हों एवम् हवा तेज हों।
4. आसमान साफ हो एवम् हवा तेज हों।
104. Radiation inversion or surface inversion takes place when
1. the sky is clear and winds are light
2. the sky is cloudy and winds are light
3. the sky is cloudy and the winds are strong
4. the sky is clear and winds are strong

105. चतुर्थ महाकल्प की शुरुआत मोटे रूप में — से समान है।

1. गाउस-मातुयामा ध्रुवणीयता सीमा
2. जारामिल्लो ध्रुवणीयता घटना
3. मातुयामा ब्रन्हेस ध्रुवणीयता सीमा
4. ओल्डुवाई ध्रुवणीयता घटना

105. The beginning of the Quaternary period broadly coincides with the

1. Gauss-Matuyama polarity boundary
2. Jaramillo polarity event
3. Matuyama-Brunhes polarity boundary
4. Olduvai polarity event

106. अगर हिन्द महासागर की गहराई औसतन 3900 मी. है, एक उथली तरंग की तक़रिबन आगे की तरफ़ चाल क्या होगी?

1. 904 किमी./घंटा
2. 704 किमी./घंटा
3. 504 किमी./घंटा
4. 204 किमी./घंटा

106. If the depth of the Indian Ocean averages 3900 m, what would be the approximate forward speed of a shallow wave

1. 904 km/hr
2. 704 km/hr
3. 504 km/hr
4. 204 km/hr

107. निम्न का मिलान करें

प्रमाण	कोपेन वर्गीकरण
A. उष्ण कटिबंध स्टेप; अर्धशुष्क; गर्म	E. Aw
B. उष्ण कटिबंध उच्चभूमि हल्की शीत; अल्प गर्म ग्रीष्म	F. Cwb
C. उष्ण कटिबंध सवाना; गर्म सूखा मौसम (सामान्यता शीत)	G. Cfa
D. आद्र उष्ण कटिबंध हल्की शीत; सर्वमौसम आद्र; लंबी गर्म ग्रीष्म	H. BSh
	I. Cwa

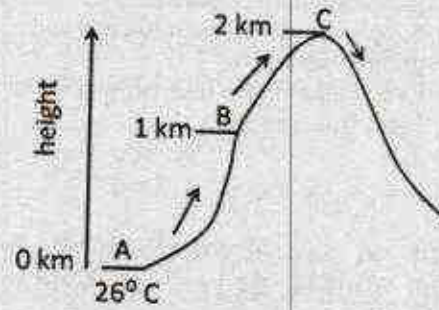
1. A-H, B-I, C-E, D-G
2. A-F, B-H, C-E, D-I
3. A-I, B-F, C-E, D-G
4. A-H, B-F, C-E, D-G

107. Match the following

Criteria	Koppen's Classification
A. Tropical steppe; semi-arid; hot	E. Aw
B. Tropical upland. Mild winter; dry winter; short warm summer	F. Cwb
C. Tropical Savanna. Hot, seasonally dry (usually winter)	G. Cfa
D. Humid subtropical. Mild winter; moist all season; long hot summer	H. BSh
	I. Cwa

1. A-H, B-I, C-E, D-G
2. A-F, B-H, C-E, D-I
3. A-I, B-F, C-E, D-G
4. A-H, B-F, C-E, D-G

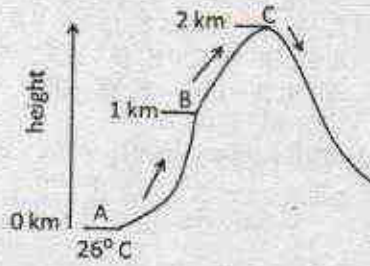
108.



वायु बिन्दु A से C को चढ़ती है। बिन्दु C पर यह ओसांक पर पहुँचती है और प्रतिपवन की तरफ अवतलित होना शुरू करती है क्योंकि यह अपने चारों तरफ से उँडी है। अवतलित वायु के तापमान का क्या होगा?

1. समान रहेगा
2. बढ़ना शुरू होगा
3. घटना शुरू होगा
4. ओसांक को घटेगा

108.



Air rises from point A to C. At point C it reaches dew point and starts subsiding on the leeward side because it is cooler than the surroundings. What happens to the temperature of subsiding air?

1. remain the same
2. starts rising
3. starts decreasing
4. decreases to dew point

109. लोनार ज्वालामुखी विवर झील की लवणता के क्या मुख्य कारण हैं?

- a. समुद्री लवण की वायु जनिता पूर्ति
- b. धाराओं एवम् भौमजल द्वारा लवणों की पूर्ति
- c. बिना निकास वाले झील में वाष्पन
- d. वाहित मल की पूर्ति

1. a, b
2. b, c
3. c, d
4. a, d

109. What could be the dominant reasons of salinity in the Lonar Crater Lake?

- a. Aeolian supply of sea salts
- b. Supply of salts through streams and groundwater
- c. Evaporation in the lake without outlet
- d. Input from sewage

1. a, b
2. b, c
3. c, d
4. a, d

110. दिये गये प्लेट सीमायें, विवर्तनिकी क्रियाएँ एवम् भौगोलिक उदाहरणों का मिलान करें।

प्लेट सीमायें	विवर्तनिकी क्रियायें	उदाहरण
A अपसारी	D अतःप्रसन / टकराव	G सैन आइयास ग्रेश
B अभिसारी	E रूपान्तरित ग्रेश	H पूर्व अफ्रिकन रिफ्ट घाटी
C रूपान्तरित	F समुद्र तली विस्तारण / महाद्वीपीय रिफ्टीकरण	I हिमालय

1. A-D-G; B-F-H; C-E-I
2. A-F-G; B-D-H; C-E-I
3. A-E-H; B-D-I; C-F-G
4. A-F-H; B-D-I; C-E-G

110. Match the following plate boundaries, tectonic processes and geographic examples

Plate boundary	Process	Example
A Divergent	D Subduction/collision	G San Andreas Fault
B Convergent	E Transform faulting	H East African rift valley
C Transform	F Sea floor spreading / continental rifting	I Himalaya

1. A-D-G; B-F-H; C-E-I
2. A-F-G; B-D-H; C-E-I
3. A-E-H; B-D-I; C-F-G
4. A-F-H; B-D-I; C-E-G

111. मृदा-जल एवम् उष्णता का जीवों के बीच सही मिलान प्राप्त करें।

मृदा-जल एवम् उष्णता की प्राप्तता	जीवों
A अपर्याप्त उष्णता	I जंगल
B मृदा-जल की थोड़ी कमी, उपयुक्त उष्णता	II मरुस्थल
C मृदा-जल की बहुत कमी, उपयुक्त उष्णता	III घास के मैदान
D भरपूर मृदा-जल एवम् उष्णता	IV दुन्डा

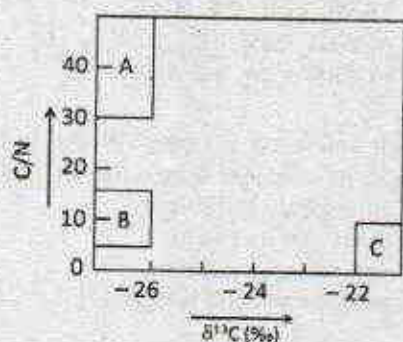
1. A-II, B-I, C-III, D-IV
2. A-IV, B-III, C-II, D-I
3. A-III, B-IV, C-I, D-II
4. A-I, B-II, C-IV, D-III

111. Find the correct match between soil water and heat with biomes

Availability of soil water and heat	Biomes
A Insufficient heat	I Forest
B Moderate shortage of soil water, adequate heat	II Desert
C Extreme shortage of soil water; adequate heat	III Grassland
D Ample soil water and heat	IV Tundra

1. A-II, B-I, C-III, D-IV
2. A-IV, B-III, C-II, D-I
3. A-III, B-IV, C-I, D-II
4. A-I, B-II, C-IV, D-III

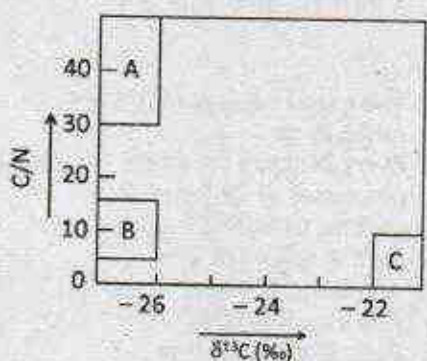
112. दिये हुए C/N अनुपात एवम् $\delta^{13}\text{C}$ के आबंटन वाले चित्र से A, B एवम् C संग्रहों के जैव कार्बन के संभव स्रोत को पहचानें।



(संवहनी पादप मलबा- VD, मृदा जैव वस्तु- SM, समुद्री प्लवक- MP)

1. A - VD, B - MP, C - SM
2. A - SM, B - MP, C - VD
3. A - MP, B - SM, C - VD
4. A - VD, B - SM, C - MP

112.



From the given diagram of C/N ratio and $\delta^{13}\text{C}$ distribution, identify the likely sources of organic carbon for the reservoirs A, B and C (Vascular plant debris - VD, Soil organic matter - SM, Marine plankton - MP)

1. A - VD, B - MP, C - SM
2. A - SM, B - MP, C - VD
3. A - MP, B - SM, C - VD
4. A - VD, B - SM, C - MP

113. दिये गये भूमि एवम् समुद्री समीर के बारे में वक्तव्यों को पढ़ें एवम् सही उत्तर दें।

- I. भूमि समीर उध्वाधर एवम् क्षैतिज दोनों तरफ समुद्री समीर की अपेक्षा कम विस्तारित है।
- II. भूमि एवम् समुद्री समीर के बीच का तापमान अंतर रात में शायद ही दिन की तरह अत्यधिक होता है।

1. I एवम् II दोनों सही हैं, एवम् I की सही व्याख्या II है।
2. I एवम् II दोनों सही हैं, परन्तु I की सही व्याख्या II नहीं है।
3. I एवम् II दोनों गलत हैं।
4. I सही है, परन्तु II गलत है।

113. Read the following statements about land and sea breeze and choose the CORRECT answer

- I. The land breeze is less extensive both vertically and horizontally than the sea breeze
- II. Temperature differences between land and sea are rarely as great at night as in the day time.

1. Both I and II are correct and II is the correct explanation of I
2. Both I and II are correct, but II is not the correct explanation of I
3. Both I and II are incorrect
4. I is correct, but II is incorrect

114. दिये गये वक्तव्यों को पढ़ें एवम् सही उत्तर दें।

- I. नदी में निलंबित अवसाद की सांद्रता पूर्ण सीमित है बजाय की जल गतिकीय सीमित।
- II. अधिकतम निलंबित पदार्थ पहाड़ी ढाल अपवरदन से ऊपरी भूमी बहाव द्वारा है।
- III. निलंबित पदार्थ पूरी तरह से जलमार्ग तल से प्रक्षुब्ध विसरण द्वारा लाये गये हैं।

1. II की सही व्याख्या I है।
2. I की सही व्याख्या II है।
3. II की सही व्याख्या III है।
4. III की सही व्याख्या II है।

114. Read the following statements and choose the CORRECT answer

- I. The suspended sediment concentration in rivers is supply-limited rather than hydraulically-limited, when
- II. Much suspended material is contributed by overland flow from hillslope erosion

III. Suspended material is entirely derived by turbulent diffusion from the channel bed

1. I is the correct explanation of II
2. II is the correct explanation of I
3. III is the correct explanation of II
4. II is the correct explanation of III

115. दिये गये विचारों में से एक को संक्षिप्त वचन "वर्तमान भूत की कुंजी है" संक्षेपित करता है।

1. एकरूपतावाद
2. अपरदन चक्र
3. भूआकृतिक देहली
4. श्रेणी

115. One of the following concepts is best summarized by the phrase "the present is the key to the past"

1. Uniformitarianism
2. Cycle of Erosion
3. Geomorphic Thresholds
4. Grade

116. दिये गये का मिलान करें।

A. कैल्सीकरण	E. गर्म एवम् आर्द्र मौसम
B. लॉटेराइटभवन	F. चूना पत्थर में घुलन
C. कार्स्टभवन	G. वाष्पन वाष्पोत्सर्जन विभव की वर्षा से बराबरी या अधिक होना
D. पॉडजोलाईभवन	H. ठंड एवम् आर्द्र मौसम

1. A-G, B-F, C-E, D-H
2. A-F, B-E, C-H, D-G
3. A-G, B-E, C-F, D-H
4. A-E, B-H, C-F, D-G

116. Match the following

A. Calcification	E. Warm and humid climate
B. Laterization	F. Solution in carbonate rocks
C. Karstification	G. Potential evapotranspiration equal or greater than precipitation
D. Podzolization	H. Cool and moist climate

1. A-G, B-F, C-E, D-H
2. A-F, B-E, C-H, D-G
3. A-G, B-E, C-F, D-H
4. A-E, B-H, C-F, D-G

117. जल चक्र के सन्दर्भ में, जल का अधिकतम निवास समय — में है।

1. वायुमंडल एवम् नदीयों
2. नदीयों एवम् बर्फ चादरों
3. भूमिजल एवम् मृदा
4. भूमिजल एवम् बर्फ चादरों

117. With reference to water in the hydrologic cycle, its residence time is the maximum in

1. atmosphere and rivers
2. rivers and ice sheets
3. groundwater and soils
4. groundwater and ice sheets

118. दिया है:

- A. वृहत्-लघु-वृहत् ज्वारभाटा चक्र में 14.8 दिन हैं।
- B. प्रति 24 घंटे में उच्च ज्वार का समय 29.5 मिनट से बढ़ जाता है।

सही उत्तर चुनें

1. A एवम् B, दोनों गलत हैं।
2. A गलत है, B सही है।
3. A सही है, B गलत है।
4. A एवम् B, दोनों सही हैं।

118. Given:

- A. There are 14.8 days in spring-neap-spring cycle
- B. Every 24 hours the timing of high tide progresses by 29.5 minutes

Choose the CORRECT answer:

1. Both A and B are false
2. A is false, B is true
3. A is true, B is false
4. Both A and B are true

119. आंतरिक घनत्व असांतत्व या स्वतंत्र तल — के होने के लिये आवश्यक है।

1. तटीय केल्विन तरंगों
2. विषुवतीय केल्विन तरंगों
3. सथली जल गुरुत्वीय तरंगों
4. रॉस्बी तरंगों

119. Internal density discontinuity or free surface is necessary for the existence of

1. coastal Kelvin waves
2. equatorial Kelvin waves
3. shallow water gravity waves
4. Rossby waves

120. मध्य अक्षांस वायुमंडल में मंवर गति — के द्वारा उत्पन्न होते हैं।
 1. बैरोट्रोपिक अस्थिरता
 2. बैरोक्लिनिक अस्थिरता
 3. एक्मान पंपींग
 4. CISK
120. Eddy motions in the mid-latitude atmosphere are generated due to
 1. Barotropic instability
 2. Baroclinic instability
 3. Ekman pumping
 4. CISK
121. इनमें से कौन घटना उष्णकटिबंध में प्रेक्षित नहीं की जाती?
 1. मैडडेन-जूलीयन दोलन
 2. ENSO
 3. सहसा समतापमंडलीय कोष्णीकरण
 4. भारतीय महासागर द्विध्रुव
121. Which of the following phenomena is NOT observed in the tropics?
 1. Madden - Julian Oscillation
 2. ENSO
 3. Sudden Stratospheric warming
 4. Indian Ocean Dipole
122. दिये गये में से कौन स्पेक्ट्रगी प्रतिकरूप के लिये गलत है?
 1. जहाँ कोई सार्थक अभिकलन विसरण न हो।
 2. द्विघात अरैखिक पद का उपघटन न हो।
 3. मौलिक प्रक्रियाओं पर सभी कारकों को स्पेक्ट्रल दिक्स्थान में अभिव्यक्त किया जा सकता हो।
 4. स्थानिक रुंडन त्रुटि न हो।
122. Which of the following about spectral models is FALSE?
 1. There is no significant computational diffusion
 2. No aliasing of quadratic non-linear terms
 3. All forcings on the physical processes can be expressed in spectral space
 4. No spatial truncation error
123. दिया गया पद/पदें भ्रमिलता समीकरणों के समदाब निर्देशांक वर्णन में नहीं दिखती।
 1. अपसरण पद
 2. परिनालिकीय पद
 3. घ्यावर्तन पदें
 4. परिनालिकीय एवं व्यावर्तन, दोनों पदें
123. The following term(s) do(es) NOT appear in the isobaric coordinate version of the vorticity equations
 1. Divergence term
 2. Solenoidal term
 3. Twisting terms
 4. Both solenoidal and twisting terms
124. दिये गये में से कौन सही है?
 1. गतिकीय मीटर 100 MKS यूनिटों के बराबर है।
 2. गतिकीय मीटर ऊर्जा की एक यूनिट नहीं है।
 3. गतिकीय मीटर लंबाई की एक यूनिट है।
 4. गतिकीय मीटरों में भूविभव ज्यामितीय ऊँचाई का लगभग 98% है।
124. Which of the following is correct?
 1. Dynamical meter is equal to 100 MKS units
 2. Dynamical meter is not a unit of energy
 3. Dynamical meter is a unit of length
 4. Geopotential in dynamical meters is about 98% of geometric height in meters
125. अगर उत्तरी गोलार्ध के कम दबाव केन्द्र में, कम दबाव केन्द्र के 250 कि.मी. दूरी पर हवायें उत्तर दिशा से 10 मी.से. से चल रही हैं, वायु का अपकेन्द्र बल प्रति यूनिट द्रव्यमान — है।
 1. $-4 \times 10^{-5} m.s^{-2}$
 2. $-4 \times 10^{-4} m.s^{-2}$
 3. $-4 \times 10^{-3} m.s^{-2}$
 4. $-4 \times 10^{-6} m.s^{-2}$
125. If in low pressure centre of the Northern Hemisphere, winds are from the north at $10 m.s^{-1}$ at a distance 250 km from the low pressure centre, the centrifugal force per unit mass of air is
 1. $-4 \times 10^{-5} m.s^{-2}$
 2. $-4 \times 10^{-4} m.s^{-2}$
 3. $-4 \times 10^{-3} m.s^{-2}$
 4. $-4 \times 10^{-6} m.s^{-2}$
126. एक उच्च श्रेणी चार्ट में, हम सामान्यतया गर्म हवा को — दबाव के साथ एवम् ठंडी हवा को — दबाव के साथ पाते हैं।
 1. उच्च, उच्च
 2. निम्न, निम्न
 3. उच्च, निम्न
 4. निम्न, उच्च

126. On an upper-level chart, normally we find warm air associated with _____ pressure and cold air associated with _____ pressure
 1. high, high 2. low, low
 3. high, low 4. low, high
127. उपोष्ण कटिबंधीय पश्चिमी जेट को भारत के ऊपर — कि.मी. ऊँचाई पर — के समय — पर पाया जाता है।
 1. 16; ग्रीष्म मानसून; $5^{\circ} - 10^{\circ}\text{N}$
 2. 12; शीतकाल; $5^{\circ} - 10^{\circ}\text{N}$
 3. 16; शीतकाल; $25^{\circ} - 30^{\circ}\text{N}$
 4. 12; शीतकाल; $25^{\circ} - 30^{\circ}\text{N}$
127. The subtropical westerly jet over India is observed at a height of _____ km during _____ period over _____
 1. 16; Summer monsoon; $5^{\circ} - 10^{\circ}\text{N}$
 2. 12; Winter; $5^{\circ} - 10^{\circ}\text{N}$
 3. 16; Winter; $25^{\circ} - 30^{\circ}\text{N}$
 4. 12; Winter; $25^{\circ} - 30^{\circ}\text{N}$
128. व्यापारिक पवन प्रतिलोमनों के लिये कौन दिया गया वक्तव्य सही नहीं है?
 1. मोटाई में प्रतिलोमन बढ़ता है एवम् निम्न अक्षांशों की तरफ ऊँचाई प्राप्त करता है।
 2. प्रबलतम प्रतिलोमन को शीतकाल में महासागरों के पश्चिमी भागों पर पाया जाता है।
 3. प्रतिलोमन स्तर के नीचे बहुतायत में बादल बन सकते हैं।
 4. उपोष्ण कटिबंधीय उच्चता से संबंधित अवतलन के कारण प्रतिलोमन।
128. Which of the following statements about trade wind inversions is NOT true?
 1. The inversion increases in thickness and gains height towards the lower latitudes
 2. The strongest inversions are observed over the western portion of the oceans in winter
 3. Considerable cloud development can take place below the inversion layer
 4. The inversion is due to the subsidence associated with the sub-tropical highs
129. इन्द्रधनुष के निर्माण का कारण
 1. प्रकाश के असमान माध्यम से गुजरना
 2. वर्षा बूंद में प्रकाश का विवर्तन एवम् प्रकीर्णन
 3. वर्षा में प्रकाश का अपवर्तन एवम् आंतरिक परावर्तन
 4. बादलों में अपवर्तन एवम् विवर्तन
129. Rainbows are formed due to
 1. passage of light in a non-uniform medium
 2. diffraction and dispersion of light in a raindrops
 3. refraction and internal reflection of light in raindrops
 4. refraction and diffraction in clouds
130. बूंद विकास की बर्गेरान-फाइन्डेसेन प्रक्रिया से — संबंधित है।
 1. संघट्ट एवम् सम्मिलन क्रियाविधि
 2. विसरण एवम् संघनन
 3. मिश्र प्रावस्था बादलों में बर्फ-क्रिस्टल विकास
 4. सम्मिलन एवम् संघनन
130. The Bergeron-Findeisen process of droplet growth involves
 1. collision and coalescence mechanisms
 2. diffusion and condensation
 3. ice-crystal growth in mixed phase clouds
 4. coalescence and condensation
131. बादलों के उपग्रह प्रक्षेपण के बारे में सही वक्तव्य को पहचानें (दृश्य में बादल के प्रकाशचित्र)
 1. पुर्वानुमानक बादल की मोटाई की सूचना प्राप्त कर सकता है परन्तु ऊँचाई की नहीं
 2. पुर्वानुमानक बादल की ऊँचाई की सूचना प्राप्त कर सकता है परन्तु मोटाई की नहीं
 3. पतले बादलों की तुलना में मोटे बादलों के एल्बिडो कम होते हैं
 4. अवरक्त बादल प्रकाशचित्र बादल की ऊँचाई की खोज के लिये उपयुक्त नहीं होते
131. Identify the correct statement regarding satellite observations of clouds (cloud photographs in the visible)
 1. The forecaster can obtain information on cloud thickness but not height
 2. The forecaster can obtain information on cloud height but not thickness
 3. Thick clouds have lower albedo than thin clouds
 4. Infrared cloud pictures are not helpful in detecting cloud height

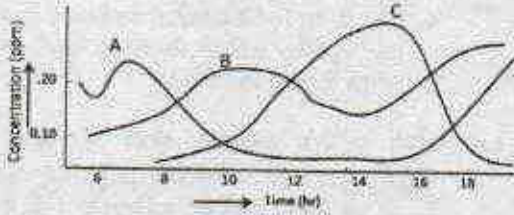
132. जब पृथ्वी सूर्य के निकटतम हो तब पृथ्वी के वायुमंडल के ऊपर आपतित सौर विकिरण में प्रतिशत परिवर्तन की गणना करें, अर्थात् जब पृथ्वी-सूर्य दूरी 147×10^6 कि.मी. है। औसत दूरी 149.6×10^6 कि.मी. है।

1. कोई परिवर्तन नहीं
2. 3.6% की वृद्धि
3. 3.6% का हास
4. 1.8% की वृद्धि

132. Calculate the percentage change in the solar radiation incident on top of the Earth's atmosphere when the Earth is closest to the Sun, i.e., when the Earth - Sun distance is 147×10^6 km. The mean distance is 149.6×10^6 km.

1. No change
2. 3.6% increase
3. 3.6% decrease
4. 1.8% increase

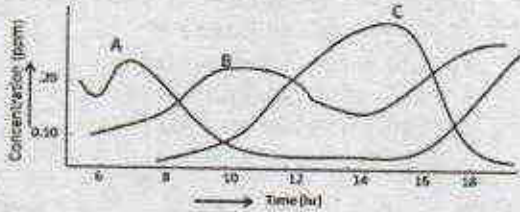
133.



ऊपर दिये चित्र में A, B एवं C क्रमशः
— क्षोभमंडलीय सांद्रता का वर्णन है

1. NO, O₃, NO₂
2. NO₂, O₃, NO
3. NO, NO₂, O₃
4. NO₂, NO, O₃

133.



In the above diagram, A, B and C represent, respectively, the tropospheric concentrations of

1. NO, O₃, NO₂
2. NO₂, O₃, NO
3. NO, NO₂, O₃
4. NO₂, NO, O₃

134. तड़ित झंझा विद्युतीकरण पूरे अच्छे से उन बादलों में होते हैं जो — से बने होते हैं।

1. पूरी तरह से बर्फ क्रिस्टल
2. अतिशीतलित बूंदें एवम् बर्फ क्रिस्टल
3. पूरी तरह से अतिशीतलित बूंदें
4. बर्फ क्रिस्टल, बूंद, कव्वा आला, आला

134. Thunder storm electrification occurs efficiently in clouds that are composed

1. entirely of ice crystals
2. of super cooled droplets and ice crystals
3. entirely of super cooled droplets
4. of ice crystals, droplets, graupel and hail

135. दिया गया :

- a) पश्चिमी हिन्द महासागर की तुलना में पूर्वी हिन्द महासागर गर्म है
- b) पश्चिमी हिन्द महासागर की तुलना में पूर्वी हिन्द महासागर ठंडा है
- c) पूर्वी अफ्रिका में बहुतायत असंगत वर्षा
- d) पूर्वी हिन्द महासागर में पश्चिमी पवन असंगति है

घनात्मक हिन्द महासागर द्विध्रुव के साथ ऊपर दिये हुए में से कौन साथ-साथ होंगे?

1. a एवम् c
2. b एवम् c
3. a एवम् d
4. b एवम् d

135. Given:

- a) The Eastern Indian Ocean is warmer than the Western Indian Ocean
- b) The Eastern Indian Ocean is colder than the Western Indian Ocean
- c) Excess anomalous rainfall in the East Africa
- d) The westerly wind anomaly is in the Eastern Indian Ocean

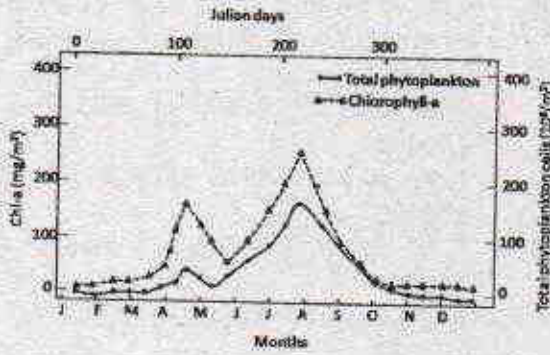
Which of the above conditions co-occur with the positive Indian Ocean Dipole?

1. a and c
2. b and c
3. a and d
4. b and d

136. उस भूमंडलीय पवन तंत्र को पहचानें जो महासागरीय उपध्रुवीय वृत्ताकार गति को चलाता है।

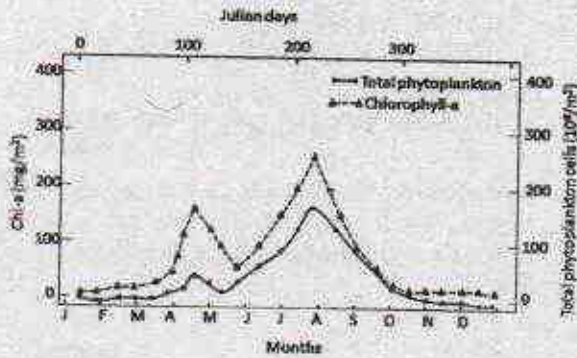
1. उपोष्ण कटिबंधीय पूर्वी पवनें एवम् ध्रुवीय पश्चिमी पवनें
2. उपोष्ण कटिबंधीय पश्चिमी पवनें एवम् ध्रुवीय पूर्वी पवनें
3. उष्ण कटिबंधीय पूर्वी पवनें एवम् ध्रुवीय पश्चिमी पवनें
4. उष्ण कटिबंधीय पश्चिमी पवनें एवम् ध्रुवीय पूर्वी पवनें

136. Identify the global wind system that drives the oceanic sub polar gyre
1. Sub tropical easterlies and polar westerlies
 2. Sub tropical westerlies and polar easterlies
 3. Tropical easterlies and polar westerlies
 4. Tropical westerlies and polar easterlies
137. तापीय प्रतिलोमन — में होता है
1. शीतकाल में एक प्रबल हैलोक्लाइन की उपस्थिति के कारण अरब सागर
 2. ग्रीष्मकाल में प्रबल उत्थवण की उपस्थिति के कारण अरब सागर
 3. शीतकाल में प्रबल हैलोक्लाइन की उपस्थिति के कारण बंगाल की खाड़ी में
 4. ग्रीष्मकाल में प्रबल विशुद्ध जल अंतर्वाह उत्थवण के कारण बंगाल की खाड़ी में
137. Thermal inversion occurs in the
1. Arabian Sea during winter due to the presence of a strong halocline
 2. Arabian Sea during summer due to the presence of strong upwelling
 3. Bay of Bengal during winter due to the presence of a strong halocline
 4. Bay of Bengal during summer due to the presence of strong fresh water influxes
138. उन बल-युग्मों का पहचानें जो महासागरीय भंवरो एवम् भूविक्षेपी धाराओं दोनों के लिए सामान्य हैं।
1. दाब प्रवणता बल-कोरियालिस बल
 2. कोरियालिस बल-अभिकेन्द्रिय बल
 3. अभिकेन्द्रिय बल-गुरुत्वकार्षण बल
 4. गुरुत्वकार्षण बल-दाब प्रवणता बल
138. Choose the pair of forces that are common to oceanic eddies and geostrophic currents
1. Pressure gradient force - Coriolis force
 2. Coriolis force - Centrifugal force
 3. Centrifugal force - gravitational force
 4. Gravitational force - pressure gradient force
139. भारत के पूर्वी एवम् पश्चिमी तटों के साथ तटीय धाराओं के बारे में गलत वक्तव्य को चुनें।
1. शीतकाल मानसून के समय पूर्वी भारत तटीय धारा उच्च लवणता जल को दक्षिण से उत्तर की तरफ प्रवाहित करता है।
 2. ग्रीष्मकाल मानसून के समय पूर्वी भारत तटीय धारा उच्च लवणता जल को उत्तर की तरफ प्रवाहित करता है।
 3. ग्रीष्मकाल मानसून के समय पश्चिमी भारत तटीय धारा उच्च लवणता जल को उत्तर की तरफ प्रवाहित करता है।
 4. शीतकाल मानसून के समय पश्चिमी भारत तटीय धारा निम्न लवणता जल को दक्षिण से उत्तर की तरफ प्रवाहित करता है।
139. Pick out the INCORRECT statement regarding the coastal currents along the east and west coasts of India
1. The East India coastal current transports high salinity waters from the south to the north during the winter monsoon
 2. The East India coastal current transports low salinity waters from the south to the north during the summer monsoon
 3. The West India coastal current transports high salinity waters to the north during the summer monsoon
 4. The West India coastal current transports low salinity waters from the south to the north during the winter
140. उष्ण जलीय निकास क्षेत्रों में जैवों द्वारा समुद्री रसायनी संश्लेषण आधारित उत्पादन — के लिये सर्वोच्च अभिप्राय पूर्ण है।
1. नालकुमि, *Riftia pachyptila*
 2. युफाजिड, *Euphausia brevis*
 3. केकड़ा, *Charybdis cruciata*
 4. बाईवाल्व, *Meretrix casta*
140. Marine chemosynthesis based production by biomass in the hydrothermal vent regions is of the greatest significance to
1. Tube worm, *Riftia pachyptila*
 2. Euphausiid, *Euphausia brevis*
 3. Crab, *Charybdis cruciata*
 4. Bivalve, *Meretrix casta*
141. निम्न चित्र में क्लारोफिल *a* के वार्षिक परिवर्तन एवम् कुल पादप-प्लवक कोशिका बाहुल्य को दर्शाया गया है। बसंत ऋतु के उत्थान के (अप्रैल) समय इन दिये प्राचलों के बीच "असामान्य" कुमेलन को सबसे अच्छा — से समझाया जा सकता है।



1. सूर्य के प्रकाश का कम आपतन
2. बड़े कोशिका आयतन
3. उच्च चारण दबाव
4. आकस्मिक फुल्लिका गिरावट

141. In the figure below, annual variations of chlorophyll *a* and total phytoplankton cell abundance are depicted. The 'unusual' mismatch between these two parameters during peak spring time (April) can be best explained by



1. low incidence of sunlight
2. larger cell volumes
3. high grazing pressure
4. sudden bloom crash

142. डायटोमायट का आदर्शभूत संयोजन — है।

1. 80 – 90% सीलीका, 2 से 4% एलुमिना, 0.5 से 2% आयरन आक्साईड
2. 60 – 70% सीलीका, 5 से 20% एलुमिना, 2 से 6% आयरन आक्साईड
3. 50 – 60% सीलीका, 30 से 35% एलुमिना, 2 से 5% आयरन आक्साईड
4. 70 – 80% सीलीका, 0.5 से 3% एलुमिना, 3 से 4% आयरन आक्साईड

142. Typical composition of diatomite is
1. 80 – 90% silica, 2 to 4% alumina, 0.5 to 2% Iron oxide
 2. 60 – 70% silica, 5 to 20% alumina, 2 to 6% Iron oxide
 3. 50 – 60% silica, 30 to 35% alumina, 2 to 5% Iron oxide
 4. 70 – 80% silica, 0.5 to 3% alumina, 3 to 4% Iron oxide

143. उष्ण कटिबंधीय सागरों में ऊर्जा के परिवहन का सबसे अच्छा उदाहरण — है।

1. *Acartia tonsa* → *Calanus indicus* → *Nitzschia longissima* → *Rastrelliger kanagarta*
2. *Rastrelliger kanagarta* → *Acartia tonsa* → *Calanus indicus* → *Nitzschia longissima*
3. *Nitzschia longissima* → *Calanus indicus* → *Acartia tonsa* → *Rastrelliger kanagarta*
4. *Calanus indicus* → *Acartia tonsa* → *Rastrelliger kanagarta* → *Nitzschia longissima*

143. In the tropical seas, transfer of energy is best exemplified by

1. *Acartia tonsa* → *Calanus indicus* → *Nitzschia longissima* → *Rastrelliger kanagarta*
2. *Rastrelliger kanagarta* → *Acartia tonsa* → *Calanus indicus* → *Nitzschia longissima*
3. *Nitzschia longissima* → *Calanus indicus* → *Acartia tonsa* → *Rastrelliger kanagarta*
4. *Calanus indicus* → *Acartia tonsa* → *Rastrelliger kanagarta* → *Nitzschia longissima*

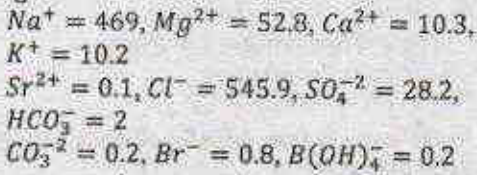
144. सागर तल पर CaCO_3 एवम् ओपल के निक्षेपण को सतह (उत्पाद) से पूर्ति एवम् घुलन, जो कि जल स्तंभ के गहराई से प्रभावित है, नियंत्रित करता है। दिये गये में से सही उत्तर चुनें।

1. CaCO_3 एवम् ओपल दोनों ऊपरी जल में घुलते हैं परन्तु गहरे जल में नहीं।
2. CaCO_3 एवम् ओपल दोनों ऊपरी जल में नहीं घुलते परन्तु गहरे जल में घुलते हैं।
3. ऊपरी जल में CaCO_3 घुलता है परन्तु ओपल नहीं घुलता है, एवम् इसका उल्टा गहरे जल में होता है।
4. ऊपरी जल में CaCO_3 नहीं घुलता है परन्तु ओपल घुलता है, एवम् इसका उल्टा गहरे जल में होता है।

144. CaCO_3 and opal deposition on seafloor is controlled by addition from surface (productivity) and dissolution which is influenced by the depth of the water column. Pick the correct answer from the following

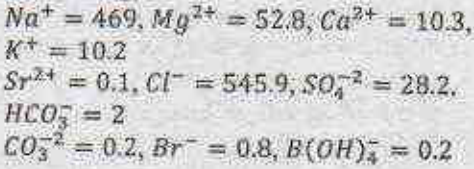
- Both CaCO_3 and opal dissolve in upper water and don't dissolve in deeper water
- Both CaCO_3 and opal don't dissolve in upper water and dissolve in deeper water
- CaCO_3 dissolves but opal does not dissolve in upper water and *vice versa* in deeper water
- CaCO_3 does not dissolve but opal dissolves in upper water and *vice versa* in deeper water

145. दिये गये तत्व संयोजन (मी.मोल/ कि.ग्राम) से समुद्र जल का सही आयनिक सामर्थ्य चुनें।



- 1.4
- 0.7
- 0.88
- 1.76

145. Choose the correct ionic strength of seawater, given the elemental composition (m mol/kg):



- 1.4
- 0.7
- 0.88
- 1.76

146. लवणता (S) एवम् गहराई (Z) के सन्दर्भ में समुद्र जल (T_f) अवस्थिति के हिमांक का सही समीकरण — हो सकता है।

- $T_f = -0.0137 - 0.052S - 0.00007S^2 - 0.0008Z$
- $T_f = 0.0137 - 0.052S - 0.00007S^2 - 0.0008Z$
- $T_f = -0.0137 + 0.052S + 0.00007S^2 - 0.0008Z$
- $T_f = -0.0137 - 0.052S - 0.00007S^2 + 0.0008Z$

146. The correct equation for the freezing point of sea water (T_f) *in situ* in terms of salinity (S) and depth (Z) can be

- $T_f = -0.0137 - 0.052S - 0.00007S^2 - 0.0008Z$
- $T_f = 0.0137 - 0.052S - 0.00007S^2 - 0.0008Z$
- $T_f = -0.0137 + 0.052S + 0.00007S^2 - 0.0008Z$
- $T_f = -0.0137 - 0.052S - 0.00007S^2 + 0.0008Z$

147. उष्माजलीय निकासों में घुला आक्सीजन नहीं होता है। निकासों एवम् अर्नोक्सी क्षेत्रों से प्राप्त जल नमूनों की तुलना निम्न की सहायता से की गयी।

i) $\text{SO}_4^{2-}/\text{Cl}^-$

ii) Ge/Si

iii) Mg/Ca

iv) Mn/Fe ratios

निकासों के लिये सही विवेचनाओं को चुनें।

- (ii) एवम् (iv) में कमी हुई जब की (i) एवम् (iii) बढ़े
- (i) एवम् (iii) में कमी हुई जब की (ii) एवम् (iv) बढ़े
- (i) (ii) एवम् (iii) में कमी हुई जब की (iv) बढ़ा
- (i) (ii) (iii) एवम् (iv) सभी में कमी हुई

147. Hydrothermal vents do not have dissolved oxygen. Water samples from vents and anoxic regions were compared with the help of

i) $\text{SO}_4^{2-}/\text{Cl}^-$

ii) Ge/Si

iii) Mg/Ca

iv) Mn/Fe ratios

Pick out the correct descriptor of the vents.

- (ii) and (iv) are decreased while (i) and (iii) are increased
- (i) and (iii) are decreased while (ii) and (iv) are increased
- (i), (ii) and (iii) are decreased while (iv) is increased
- (i), (ii), (iii) and (iv) are all decreased

148. दिये हुए समुद्री जिवाणु संघों में से किसका मध्यजीवी काल को बांटने में विस्तृत उपयोग किया गया?

- ब्रेकियोपॉड
- गेस्ट्रोपॉड
- सिर्फैलोपॉड
- ट्राइलोबाइट

148. Which of the following marine fossil groups has been extensively utilized for subdividing Mesozoic?
1. Brachiopods
 2. Gastropods
 3. Cephalopods
 4. Trilobites
149. भारत के किस भाग में गहरे समुद्री संलक्षणी शैल विस्तृत में पाये जाते हैं?
1. विन्ध्यन द्रोणी
 2. कुडप्पा द्रोणी
 3. अन्धमान निकोबार
 4. कच्छ द्रोणी
149. In which part of India do the rocks of deep marine facies extensively occur?
1. Vindhyan basin
 2. Cuddapah basin
 3. Andaman Nicobar
 4. Kutch basin
150. महासागरीय पश्चिमी सीमा धारायें — हैं।
1. दोनों गोलार्ध में गर्म धारायें
 2. दोनों गोलार्ध में ठंडी धारायें
 3. उत्तरी में गर्म धारा एवम् दक्षिणी गोलार्ध में ठंडी धारायें
 4. उत्तरी में ठंडी धारा एवम् दक्षिणी गोलार्ध में गर्म धारायें
150. Ocean western boundary currents are
1. Warm currents in both the hemispheres
 2. Cold currents in both the hemispheres
 3. Warm currents in the Northern and cold currents in the Southern Hemisphere
 4. Cold currents in the Northern and warm currents in the Southern Hemisphere

FOR ROUGH WORK

FOR ROUGH WORK