



Q. B. No.

662027

Hall Ticket  
No.

--	--	--	--	--	--	--

Signature of  
The Candidate

--

Time : 2 Hrs.

Full Marks : 120

Note : Before answering the questions, read carefully the instructions given on the OMR sheet.

సశ్చలకు జవాబులు వ్రాయుటకు ముందు OMR జవాబు పత్రములో ఇవ్వబడిన సూచనలను జాగ్రత్తగా చదవండి.

**SECTION—I : MATHEMATICS**

1. The length of tangent from a point 15 cm away from the centre of a circle of radius 9 cm is

9 సెం.మీ. వ్యాసార్థం గల వృత్తకేంద్రం నుండి 15 సెం.మీ. దూరంలో గల బిందువు నుండి ఆ వృత్తానికి గీయగలిగిన స్పర్శరేఖ పొడవు

- (1) 12 cm                      (2) 9 cm                      (3) 10 cm                      (4) 15 cm  
12 సెం.మీ.                      9 సెం.మీ.                      10 సెం.మీ.                      15 సెం.మీ.

2. If two circles touch internally, then the number of their common tangents is

రెండు వృత్తాలు అంతర్గతంగా స్పృశించుకున్నట్లయితే వాటి ఉమ్మడి స్పర్శరేఖల సంఖ్య

- (1) 2                              (2) 3                              (3) 0                              (4) 1

3. If the radius of a sphere is tripled, then its volume will become

ఒక గోళం యొక్క వ్యాసార్థాన్ని 3 రెట్లు చేసిన దాని ఘనపరిమాణంలో పెరుగుదల

- (1) 27 times                      (2) 9 times                      (3)  $\frac{1}{3}$  times                      (4) double  
27 రెట్లు                      9 రెట్లు                       $\frac{1}{3}$  రెట్లు                      రెట్టింపు

4. A patient in a hospital is given soup daily in a cylindrical bowl of diameter 7 cm. If the bowl is filled with soup to a height of 4 cm, then how many litres of soup the hospital management has to prepare daily to serve 100 patients?

ఒక ఆసుపత్రిలోని రోగులకు ప్రతి రోజూ 7 సెం.మీ. వ్యాసం గల స్థూపాకార పాత్రలో 4 సెం.మీ. ఎత్తు వరకు సూప్ ఇవ్వబడుతుంది. అయితే ఆ ఆసుపత్రి సిబ్బంది ప్రతిరోజూ ఈ విధంగా 100 మంది రోగులకు ఇవ్వవల్సి వస్తే ఎన్ని లీటర్ల సూప్ తయారు చేయాలి?

- (1) 15                              (2) 15.2                              (3) 15.4                              (4) 15.6

SEAL

5. The total surface area of a cone with slant height 21 m and diameter of its base 24 m is  
 విలువలు ఎత్తు 21 మీ. మరియు భ్రా వ్యాసము 24 మీ. గల ఒక శంఖుపు యొక్క సంపూర్ణ తల వైశాల్యము

- (1)  $252\pi$  sq. m  
 252 $\pi$  చ. మీ.
- (2)  $504\pi$  sq. m  
 504 $\pi$  చ. మీ.
- (3)  $396\pi$  sq. m  
 396 $\pi$  చ. మీ.
- (4)  $1080\pi$  sq. m  
 1080 $\pi$  చ. మీ.

6.  $\cos(90^\circ - \theta)\sin(90^\circ - \theta) =$

- (1)  $\frac{\tan\theta}{1 - \tan^2\theta}$  (2)  $\frac{\tan\theta}{1 + \tan^2\theta}$  (3) 1 (4) 0

7. The value of  $\cos 1^\circ \cos 2^\circ \dots \cos 180^\circ$  is  
 $\cos 1^\circ \cos 2^\circ \dots \cos 180^\circ$  యొక్క విలువ

- (1) 1 (2) 0 (3) -1 (4) None of these  
 ఇవేవి కావు

8. The value of  $\frac{\tan 65^\circ}{\cot 25^\circ}$  is

- $\frac{\tan 65^\circ}{\cot 25^\circ}$  విలువ
- (1) 0 (2) 1 (3) -1 (4)  $\sqrt{3}$

9.  $\frac{2\tan 30^\circ}{1 - \tan^2 30^\circ} =$

- (1)  $\sin 60^\circ$  (2)  $\cos 60^\circ$  (3)  $\tan 60^\circ$  (4)  $\cot 60^\circ$

10. If  $\tan(A - B) = \frac{1}{\sqrt{3}}$  and  $\sin A = \frac{1}{\sqrt{2}}$ , then the value of B is

$\tan(A - B) = \frac{1}{\sqrt{3}}$  మరియు  $\sin A = \frac{1}{\sqrt{2}}$  అయిన B విలువ

- (1)  $45^\circ$  (2)  $15^\circ$  (3)  $30^\circ$  (4)  $60^\circ$

11. If  $x = a \sec \theta$  and  $y = b \tan \theta$ , then the value of  $b^2 x^2 - a^2 y^2$  is

$x = a \sec \theta$  మరియు  $y = b \tan \theta$  అయిన  $b^2 x^2 - a^2 y^2$  విలువ

- (1)  $ab$  (2)  $a^2 - b^2$  (3)  $a^2 + b^2$  (4)  $a^2 b^2$

12.  $\frac{\sin \theta}{1 + \cos \theta} =$

- (1)  $\frac{1 + \cos \theta}{\sin \theta}$  (2)  $\frac{1 - \cos \theta}{\cos \theta}$  (3)  $\frac{1 - \cos \theta}{\sin \theta}$  (4)  $\frac{1 - \sin \theta}{\cos \theta}$

13. A kite is flying at a height of 60 m above the ground. The string attached to the kite is temporarily tied to a point on the ground. The inclination of the string with the ground is  $60^\circ$ . Assuming that there is no slack in the string, the length of the string is

భూమి నుండి 60 మీ. ఎత్తులో ఎగురుతున్న ఒక గాలిపటం భూమికి క్షితిజ సమాంతరంగా  $60^\circ$ ల కోణం చేయుచున్న ఆ గాలిపటంను ఎగువేయుటకు ఉపయోగించిన దారం పొడవు (దారం వదులుగా లేదని భావించినట్లయితే)

- (1)  $40\sqrt{3}$  m (2)  $60\sqrt{3}$  m (3)  $120\sqrt{3}$  m (4)  $30\sqrt{3}$  m  
 $40\sqrt{3}$  మీ.  $60\sqrt{3}$  మీ.  $120\sqrt{3}$  మీ.  $30\sqrt{3}$  మీ.

14. What is the angle of elevation of the Sun, if the length of the shadow of a tower is  $\frac{1}{\sqrt{3}}$  times the height of the tower?

ఒక టవర్ యొక్క నీడ పొడవు దాని ఎత్తుకు  $\frac{1}{\sqrt{3}}$  రెట్లు అయితే ఆ సమయంలో సూర్యుని ఊర్ధ్వ కోణం

- (1)  $30^\circ$  (2)  $45^\circ$  (3)  $60^\circ$  (4) None of these  
 ఇవేవి కావు

15. The angle of elevation of the top of a tower standing on a horizontal plane from a point A is  $\alpha$ . After walking a distance  $d$  towards the foot of the tower, the angle of elevation is found to be  $\beta$ . Then the height of the tower is

భూమిపై గల ఒక బిందువు 'A' నుండి ఒక టవర్ పై భాగాన్ని చూసినపుడు ఏర్పడు ఊర్ధ్వ కోణము  $\alpha$ . ఆ బిందువు నుండి కొంత దూరము 'd' టవర్ వైపు నడవగా ఏర్పడిన ఊర్ధ్వకోణము  $\beta$  అయిన ఆ టవర్ ఎత్తు

- (1)  $\frac{d}{\tan \alpha - \tan \beta}$  (2)  $d(\cot \alpha - \cot \beta)$  (3)  $\frac{d}{\cot \alpha - \cot \beta}$  (4)  $d(\tan \alpha - \tan \beta)$

16. Two friends are born in the year 2000. The probability that they have the same birthday is

ఇద్దరు మిత్రులు 2000 సం॥ లో జన్మించిన వారిరువురి పుట్టిన రోజు ఒకే రోజు కావడానికి సంభావ్యత

- (1)  $\frac{1}{365}$  (2)  $\frac{364}{365}$  (3)  $\frac{365}{366}$  (4)  $\frac{1}{366}$

17. In a simultaneous toss of two coins, the probability of getting at least one head is

రెండు నాణెములను ఒకేసారి ఎగురవేసినపుడు కనీసం ఒక బొమ్మను పొందగల సంభావ్యత

- (1)  $\frac{1}{4}$  (2)  $\frac{3}{4}$  (3)  $\frac{1}{2}$  (4) 1

18. If a die is thrown once, then the probability of getting a prime number is

ఒక సాచికను ఒకసారి విసిరినపుడు ప్రధాన సంఖ్యను పొందగల సంభావ్యత

- (1)  $\frac{1}{6}$  (2)  $\frac{1}{3}$  (3)  $\frac{2}{3}$  (4)  $\frac{1}{2}$

19. If  $E$  and  $\bar{E}$  are the events of occurrence and non-occurrence of a random experiment respectively and  $P(E) = 0.05$ , then  $P(\bar{E}) =$

ఒక యాదృచ్ఛిక ప్రయోగంలో  $E$  మరియు  $\bar{E}$  లు ఒక ఘటన జరగడానికి మరియు జరుగకపోవడానికి సంబంధించిన ఘటనలు మరియు  $P(E) = 0.05$  అయితే  $P(\bar{E}) =$

- (1) -0.05 (2) 0.5 (3) 0.9 (4) 0.95

20. In a graphical representation of a frequency distribution, if the distance between mode and mean is  $k$  times the distance between median and mean, then the value of  $k$  is

ఒక పౌనపున్య విభజనము యొక్క రేఖాచిత్ర రూపంలో బాహుళికము మరియు అంకమధ్యమముల మధ్యదూరం, మధ్యగతము మరియు అంక మధ్యమముల మధ్య దూరానికి  $k$  రెట్లు అయినట్లయితే  $k$  విలువ

- (1) 2 (2) 3  
(3) 1 (4) Cannot be determined  
కనుక్కోలేము

21. The mean of 100 observations is 49. By an error 60, 70, 80 are registered as 40, 20, 50 respectively. The correct mean is

- 100 అంశముల సగటు 49. పొరపాటున 60, 70, 80లకు బదులుగా వరుసగా 40, 20, 50లను నమోదు చేశారు. అయిన సరియైన సగటు
- (1) 48 (2) 52 (3) 54 (4) 50

22. A car manufacturing company announced that most of the people are showing interest to purchase red colour cars. The measure of central tendency they selected for this observation is

- ఒక కార్ల తయారీ కంపెనీ తన యొక్క వరిశీలనలో ఎక్కువ మంది ఎరుపు రంగు కార్లను కొనటానికి ఇష్టపడుతున్నారని వెల్లడించింది. ఆ కంపెనీ తన వరిశీలనలో ఎంచుకున్న కేంద్రీయ స్థానవిలువ
- (1) median (2) mean (3) mode (4) None of these  
 మధ్యగతము అంక మధ్యమము (సగటు) బాహుళ్యము ఇవేవి కావు

23. If the median of 10 observations 20, 22, 27, 28, 32,  $x + 2$ , 39, 40, 41, 50 arranged in the ascending order is 34, then the value of  $x$  is

- అరోహణ క్రమంలో అమర్చిన 10 అంశాలైన 20, 22, 27, 28, 32,  $x + 2$ , 39, 40, 41, 50 ల మధ్యగతం 34 అయితే  $x$  విలువ
- (1) 32 (2) 34 (3) 35 (4) 36

24. If mean of first  $n$  natural numbers is 15, then the value of  $n$  is

- మొదటి  $n$  సహజ సంఖ్యల సగటు 15 అయితే  $n$  విలువ
- (1) 15 (2) 30 (3) 14 (4) 29

25. The difference between the maximum and minimum observations in the data is

- ఒక దత్తాంశంలోని గరిష్ఠ మరియు కనిష్ఠ విలువల భేదము
- (1) class interval (2) frequency  
 తరగతి అంతర పౌనపున్యం  
 (3) cumulative frequency (4) range  
 సంచిత పౌనపున్యం వ్యాప్తి

26. Which of the following is an irrational number?

ఈ క్రింది వానిలో ఏది కరణీయ సంఖ్య?

(1)  $0.\bar{2}$

(2)  $2\frac{3}{5}$

(3)  $1.212121 \dots \dots$

(4)  $\pi$

27. If  $a, b, c$  are real numbers, then which one of the following shows associative property w.r.t. addition?

$a, b, c$  లు వాస్తవ సంఖ్యలైన ఈ క్రింది వానిలో ఏది సంకలనం దృష్ట్యా సహచర ధర్మాన్ని సూచిస్తుంది?

(1)  $a + b = b + a$

(2)  $a + (b + c) = (a + b) + c$

(3)  $a(b + c) = ab + ac$

(4) None of the above

ఇవేవి కావు

28. Which of the following rational numbers has terminating decimal expansion?

ఈ క్రింది అకరణీయ సంఖ్యలలో ఏది అంతమయ్యే దశాంశ విస్తరణ?

(1)  $\frac{37}{3^2 \times 5}$

(2)  $\frac{21}{2^3 \times 5^2}$

(3)  $\frac{17}{7^2}$

(4)  $\frac{89}{2^2 \times 3^2}$

29. If  $p, q$  are co-prime numbers, then  $\text{HCF}(p, q) =$

$p, q$  లు రెండు సహ-ప్రధాన సంఖ్యలైతే, గ.సా.భా.  $(p, q) =$

(1)  $p$

(2)  $q$

(3)  $pq$

(4)  $1$

30. The smallest number which leaves remainders 8 and 12 when divided by 28 and 32 respectively is

28 మరియు 32 సంఖ్యలతో భాగించగా వరుసగా 8 మరియు 12 శేషాలు వచ్చే కనిష్ఠ సంఖ్య

(1) 224

(2) 244

(3) 204

(4) 214

31. Which one of the following statements is true?

ఈ క్రింది ప్రవచనాలలో ఏది సత్యం?

(1) Logarithm of 1 to any non-zero base is 0

ఏ శూన్యేతర ఆధారానికైనా 1 యొక్క సంవర్గమానం '0'

(2) Logarithm of any non-zero number to the same base is 1

ఏ శూన్యేతర ఆధారానికైనా ఒక సంఖ్య యొక్క సంవర్గమానం అదే సంఖ్య ఆధారానికి 1 అవుతుంది

(3) Logarithms of a number with different bases have different values

ఒక సంఖ్య యొక్క సంవర్గమానాలు వేర్వేరు ఆధారాలకు వేర్వేరుగా ఉంటాయి

(4) All of the above

పైవన్నియు

32. If the characteristic of logarithm of a number is  $n$ , then the number of digits in the number is

ఒక సంవర్గమానం యొక్క లాక్షణికం  $n$  అయిన ఆ సంఖ్యలో వుండే అంకెలు

(1)  $n$

(2)  $n-1$

(3)  $n+1$

(4)  $n^2$

33. If  $A = \{1, 2, 3, 4, 5\}$  and  $B = \{4, 5, 6, 7\}$ , then  $A - B =$

$A = \{1, 2, 3, 4, 5\}$  మరియు  $B = \{4, 5, 6, 7\}$ , అయితే  $A - B =$

(1)  $\{2, 3\}$

(2)  $\{4, 5\}$

(3)  $\{1, 2, 3\}$

(4)  $\{6, 7\}$

34. If

$A = \{x : x \text{ is an even number less than } 10\}$  and

$B = \{x : x \text{ is a prime number less than } 10\}$

then  $n(A \cap B)$  is

$A = \{x : x \text{ అనేది } 10 \text{ కంటే తక్కువైన సరిసంఖ్య}\}$  మరియు

$B = \{x : x \text{ అనేది } 10 \text{ కంటే తక్కువైన ప్రధాన సంఖ్య}\}$

అయితే  $n(A \cap B)$

(1) 0

(2) 1

(3) 2

(4) None of these

ఇవేవి కావు

35. If  $A \cap B = \phi$ , then which of the following is correct?

$A \cap B = \phi$  అయితే ఈ క్రింది వానిలో ఏది సత్యం?

(1) A and B are disjoint sets

A మరియు B లు వియుక్త సమితులు

(2)  $A \neq \phi$  and  $B = \phi$

$A \neq \phi$  మరియు  $B = \phi$

(3)  $A = \phi$  and  $B \neq \phi$

$A = \phi$  మరియు  $B \neq \phi$

(4) All of these

పైవన్నియు.

36. Which of the following is a factor of the polynomial  $x^3 + x^2 - 17x + 15$ ?

ఈ క్రింది వానిలో ఏది  $x^3 + x^2 - 17x + 15$  అను బహుపదికి ఒక కారణాంకము?

(1)  $x+3$

(2)  $x-3$

(3)  $2x+3$

(4)  $2x-3$

37. If  $\alpha, \beta$  are the zeros of the quadratic polynomial  $x^2 + x + 1$ , then  $\frac{1}{\alpha} + \frac{1}{\beta}$  is

$\alpha, \beta$  లు  $x^2 + x + 1$  అను వర్గ బహుపదికి శూన్యాలైతే  $\frac{1}{\alpha} + \frac{1}{\beta}$  విలువ

(1) 1

(2) -1

(3) 0

(4) None of these

ఇవేవి కావు

38. If a polynomial of degree 7 is divided by a polynomial of degree 4, then the degree of the quotient is

పరిమాణం 7 కలిగిన ఒక బహుపదిని పరిమాణం 4 కలిగిన మరొక బహుపదితో భాగించిన వచ్చు భాగఫలము యొక్క పరిమాణము

(1) less than 3

(2) 3

(3) more than 3

(4) 0

3 కంటే తక్కువ

3 కంటే ఎక్కువ

39. The number of solutions of the pair of linear equations  $x + 2y = 8$  and  $2x + 4y = 16$  are

$x + 2y = 8$  మరియు  $2x + 4y = 16$  రేఖీయ సమీకరణాల జత యొక్క సాధనల సంఖ్య

(1) 0

(2) 1

(3) 2

(4) infinitely many

అనంతమైన అనేకం

SPACE FOR ROUGH WORK / చిత్తుపనికి స్థానము

40. Five years ago, Ramu was thrice as old as Somu and ten years later, Ramu will be twice as old as Somu. Then the present ages of Ramu and Somu respectively are

5 సం॥ అ క్రితం రాము వయస్సు సోము వయస్సుకు 3 రెట్లు మరియు 10 సం॥ అ తరువాత రాము వయస్సు సోము వయస్సుకు 2 రెట్లుగానే రాము మరియు సోముల వయస్సులు వరుసగా

- (1) 35, 20                      (2) 20, 35                      (3) 20, 50                      (4) 50, 20

41. The pair of linear equations  $2x + y - 5 = 0$  and  $3x - 2y - 4 = 0$  intersect at the point

$2x + y - 5 = 0$  మరియు  $3x - 2y - 4 = 0$  రేఖీయ సమీకరణాల జత యొక్క ఖండన బిందువు

- (1) (1, 2)                      (2) (2, 1)                      (3) (1, 3)                      (4) (1, -1)

42. For what value of  $k$ , does the quadratic equation  $9x^2 + 3kx + 4 = 0$ , have equal roots?

$k$  యొక్క ఏ విలువకు  $9x^2 + 3kx + 4 = 0$  అనే వర్గ సమీకరణానికి సమాన మూలాలు వుంటాయి?

- (1)  $\pm 2$                       (2)  $\pm 3$                       (3)  $\pm 4$                       (4)  $\pm 9$

43. A takes 6 days less than the time taken by B to finish a piece of work. If both A and B together can finish it in 4 days, then the time taken by B to finish the work is

ఒక పనిని పూర్తి చేయుటకు A కు B కంటే 6 రోజులు తక్కువ సమయం వడుతుంది. A, B లు ఇద్దరు కలిసి ఆ పనిని 4 రోజులలో పూర్తి చేయగలిగితే, B అదే పనిని పూర్తి చేయగలిగే సమయం

- (1) 12 days                      (2) 14 days                      (3) 16 days                      (4) 18 days  
12 రోజులు                      14 రోజులు                      16 రోజులు                      18 రోజులు

44. If the product of two consecutive integers is 306, then the quadratic representation of this condition is

రెండు పరుస పూర్ణ సంఖ్యల లబ్ధం 306 అనే షరతును సూచించు వర్గ సమీకరణం

- (1)  $x^2 + x - 306 = 0$                       (2)  $x^2 + x + 306 = 0$   
(3)  $x^2 - x + 306 = 0$                       (4)  $x^2 - x - 306 = 0$

45. If  $x = 1$  is a common root of  $ax^2 + ax + 2 = 0$  and  $x^2 + x + b = 0$ , then the value of  $ab$  is

$x = 1$  అనేది  $ax^2 + ax + 2 = 0$  మరియు  $x^2 + x + b = 0$  ల ఉమ్మడి మూలమైతే  $ab$  విలువ

- (1) 1                      (2) 2                      (3) 3                      (4) 4

46. The missing term (?) of the Arithmetic Progression (AP) 3, ?, 33, 48, ... .. is

3, ?, 33, 48, ... .. అనే అంకశ్రేణిలో (?) బదులుగా వుండవల్సిన పదము

- (1) 18 (2) 16 (3) 20 (4) 22

47. If  $\frac{1+3+5+\dots \text{ to } n \text{ terms}}{2+5+8+\dots \text{ to } 8 \text{ terms}} = 9$ , then the value of  $n$  is

If  $\frac{1+3+5+\dots \text{ } n \text{ పదాల వరకు}}{2+5+8+\dots \text{ } 8 \text{ పదాల వరకు}} = 9$  అయితే  $n$  విలువ

- (1) 20 (2) 40 (3) 10 (4) 30

48. If the 6th term of a Geometric Progression (GP) is 243 and the 1st term is 32, then what will be the 5th term of the GP?

ఒక గుణకశ్రేణిలోని మొదటి మరియు 6వ పదాల వరుసగా 32 మరియు 243 అయితే ఆ శ్రేణిలోని 5వ పదము

- (1) 162 (2) 81 (3) 108 (4) 72

49. The arithmetic mean and geometric mean between two numbers are 75 and 21 respectively, then the numbers are

రెండు సంఖ్యల మధ్య అంక మధ్యమము మరియు గుణాత్మక మధ్యమములు వరుసగా 75 మరియు 21 అయితే ఆ సంఖ్యలు

- (1) 63, 87 (2) 73, 77 (3) 17, 133 (4) 3, 147

50. If the points  $(x, 9)$ ,  $(0, 1)$  and  $(-6, -7)$  are collinear, then the value of  $x$  is

$(x, 9)$ ,  $(0, 1)$  మరియు  $(-6, -7)$  బిందువులు సరేఖీయమైతే  $x$  విలువ

- (1) 4 (2) 5 (3) 6 (4) 7

51. The area of a triangle with vertices  $(a, b+c)$ ,  $(b, c+a)$  and  $(c, a+b)$  is

$(a, b+c)$ ,  $(b, c+a)$  మరియు  $(c, a+b)$  శీర్షాలు కలిగిన త్రిభుజ వైశాల్యము

- (1)  $\frac{1}{2}abc$  (2)  $\frac{1}{2}(ab+bc+ca)$

- (3)  $\frac{1}{2}(a^2+b^2+c^2)$  (4) 0

52. The slope of a line perpendicular to  $13x - 7y + 1 = 0$  is

$13x - 7y + 1 = 0$  నరళరేఖకు లంబంగా వుండు రేఖ వాలు

- (1)  $\frac{13}{7}$  (2)  $-\frac{13}{7}$  (3)  $\frac{7}{13}$  (4)  $-\frac{7}{13}$

53. The mid-point of the line joining the points (4, 5) and (-2, -1) is

(4, 5) మరియు (-2, -1) బిందువులను కలుపు రేఖ యొక్క మధ్యబిందువు

- (1) (1, 3) (2) (3, 1) (3) (1, 2) (4) (2, 1)

54. The ratio in which the X-axis divides the line segment joining the points (4, 6) and (3, -8) is

(4, 6) మరియు (3, -8) బిందువులను కలిపే రేఖా ఖండాన్ని X- అక్షం విభజించే నిష్పత్తి

- (1) 1:2 (2) 2:3 (3) 3:4 (4) 4:5

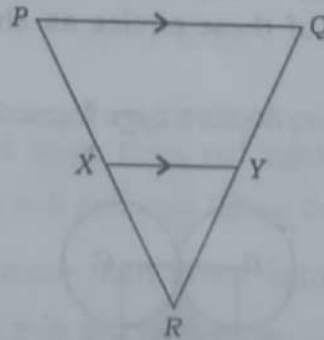
55. The point on the X-axis which is equidistant from the points (2, -5) and (-2, 9) is

X- అక్షం మీద వుంటూ (2, -5) మరియు (-2, 9) బిందువుల నుండి సమాన దూరంలో వుండే బిందువు

- (1) (-7, 0) (2) (0, -7) (3) (7, 0) (4) (0, 7)

56. In the given figure, if  $PX = 5$  cm,  $XR = 3$  cm,  $QR = 7.2$  cm and  $XY \parallel PQ$ , then the length of  $RY$  is

ఇచ్చిన పటంలో  $PX = 5$  cm,  $XR = 3$  cm,  $QR = 7.2$  cm మరియు  $XY \parallel PQ$  అయితే  $RY$  పొడవు



- (1) 2.7 cm  
2.7 సెం.మీ. (2) 3 cm  
3 సెం.మీ. (3) 2.9 cm  
2.9 సెం.మీ. (4) Cannot be determined  
నిశ్చయించబడదు

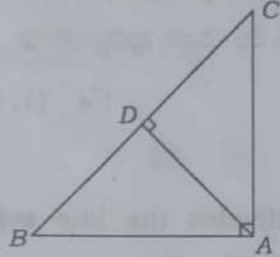
57. If the ratio of the corresponding sides of two similar triangles is 2 : 3, then the ratio of their corresponding altitudes is

రెండు సమరూప త్రిభుజాల అనురూప భుజాల నిష్పత్తి 2 : 3 అయితే వాటి అనురూప ఉన్నతుల నిష్పత్తి

- (1) 3:2 (2) 4:9 (3) 2:3 (4) 9:4

58. In the given figure, if  $AB = c$ ,  $AC = b$  and  $AD \perp BC$ , then  $AD =$

ఇచ్చిన చిత్రంలో  $AB = c$ ,  $AC = b$  మరియు  $AD \perp BC$  అయితే  $AD =$



- (1)  $\frac{bc}{\sqrt{b^2+c^2}}$  (2)  $\frac{bc}{b^2+c^2}$  (3)  $\frac{b^2c^2}{\sqrt{b^2+c^2}}$  (4) None of these

ఇవేవీ కావు

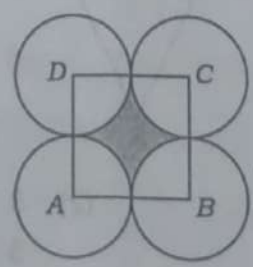
59. If the circumference of a circle is 22 cm, then the area of a quadrant of the circle is

ఒక వృత్తం యొక్క చుట్టుకొలత 22 సెం.మీ. అయిన ఆ వృత్తంలో నాలుగవ వంతు భాగం యొక్క వైశాల్యం

- (1) 8.625 sq. cm (2) 9.625 sq. cm  
8.625 చ. సెం.మీ. 9.625 చ. సెం.మీ.  
(3) 10.5 sq. cm (4) 12.825 sq. cm  
10.5 చ. సెం.మీ. 12.825 చ. సెం.మీ.

60. Four equal circles, each of radius 7 cm, touch each other and a square ABCD is formed through the centres, A, B, C, D of these circles as shown in the figure. Then the area of the shaded region is

చతుర్థంలో చూపినట్లుగా 7 సెం.మీ. వ్యాసార్థం గల నాలుగు సర్వసమాన వృత్తాల కేంద్రాలు A, B, C, D లతో ఏర్పడిన చతురస్రం ABCD అయిన, షేడ్ చేసిన ప్రాంత వైశాల్యము



- (1) 119 sq. cm (2) 42 sq. cm (3) 157.5 sq. cm (4) None of these  
119 చ. సెం.మీ. 42 చ. సెం.మీ. 157.5 చ. సెం.మీ. ఇవేవీ కావు

## SECTION—II : PHYSICS

61. For a person with myopia defect, the maximum focal length of the eye-lens is

ప్రాస్య దృష్టి దోషం కలిగిఉన్న ఒక వ్యక్తి కంటి కటక గరిష్ఠ నాభ్యాంతరము

- (1)  $< 2.5$  cm                      (2)  $> 2.5$  cm                      (3)  $= 2.5$  cm                      (4) None of these  
 $< 2.5$  సెం.మీ.                       $> 2.5$  సెం.మీ.                       $= 2.5$  సెం.మీ.                      ఇవే కావు

62. The sensation of vision on the retina is carried to the brain by

రెటీనాపై ఏర్పడు దృశ్య స్పందనను మెదడుకు చేరవేయునది

- (1) ciliary muscle                      (2) cornea                      (3) optic nerves                      (4) iris  
 సిలియరీ కండరాలు                      కార్నియా                      డ్రాక్ నాడులు                      ఐరీస్

63. Pick the correct answer from the following two statements :

- (A) In VIBGYOR, wavelength increases from violet to red.  
 (B) In VIBGYOR, refractive index increases from violet to red.

క్రింది రెండు వాక్యముల నుండి సరియైన సమాధానం ఎంపిక చేయండి :

- (A) VIBGYOR లో తరంగదైర్ఘ్యం ఊదారంగు నుండి ఎరుపురంగుకు పెరుగుతుంది  
 (B) VIBGYOR లో వక్రీభవన గుణకం ఊదారంగు నుండి ఎరుపురంగుకు పెరుగుతుంది

- (1) only (A) is true                      (2) only (B) is true  
 (A) మాత్రమే నిజం                      (B) మాత్రమే నిజం  
 (3) Both (A) and (B) are true                      (4) Both (A) and (B) are false  
 (A), (B) రెండూ నిజాలే                      (A), (B) రెండూ తప్పులే

64. In a glass prism

ఒక గాజు పట్టకంలో

- (1) green light is dispersed more than red light  
 ఆకుపచ్చరంగు కాంతి ఎరుపురంగు కాంతి కంటే ఎక్కువ విక్షేపణం చెందును  
 (2) red light is dispersed more than green light  
 ఎరుపురంగు కాంతి ఆకుపచ్చరంగు కాంతి కంటే ఎక్కువ విక్షేపణం చెందును  
 (3) both green and red light are equally dispersed  
 ఆకుపచ్చ మరియు ఎరుపురంగు కాంతులు సమానంగా విక్షేపణం చెందును  
 (4) None of the above

ఇవే కావు

65. A person cannot see objects clearly beyond 40 cm. The power of the lens to correct vision is

ఒక వ్యక్తి 40 cm కంటే దూరం ఉన్న వస్తువులను స్పష్టంగా చూడలేడు. ఈ దోషాన్ని సరిచేయుటకు వాడవలసిన కటక సామర్థ్యం

- (1) +2.5 D (2) -2.5 D (3) +4 D (4) -4 D

66. A bulb draws a current of 0.2 A from a 220 V source. The resistance of the filament of the bulb is

ఒక విద్యుత్ బల్బు 220 V సస్టై నుండి 0.2 A విద్యుత్తును వినియోగిస్తే, ఆ బల్బు ఫిలమెంట్ యొక్క నిరోధం

- (1) 1100 Ω (2) 110 Ω (3) 44 Ω (4) 222 Ω

67. Volt is the SI unit of

వోల్ట్ అనునది దేనికి SI ప్రమాణం

- (1) electric charge విద్యుద్దావేశం (2) specific resistance విశిష్టనిరోధం  
(3) electric current విద్యుత్ ప్రవాహం (4) None of these ఇవేవీ కావు

68. Four resistors each of 1.5 Ω are arranged in the form of a parallelogram. The equivalent resistance between any two opposite corners is

ఒక్కొక్కటి 1.5 Ω విలువ కలిగిన 4 నిరోధాలను ఒక సమాంతర చతుర్భుజం యొక్క 4 భుజాలుగా అమర్చినారు. ఏవేని రెండు వ్యతిరేక మూలల మధ్య ఫలిత నిరోధం

- (1) 6 Ω (2) 3 Ω (3) 0.66 Ω (4) 1.5 Ω

69. The material which has a resistivity value of about  $10 \times 10^{10} \Omega\text{-m}$  at 20 °C is

20 °C వద్ద విశిష్ట నిరోధము  $10 \times 10^{10} \Omega\text{-m}$  గా కలిగిన పదార్థము

- (1) Air గాలి (2) Glass గాజు (3) Rubber రబ్బరు (4) Iron ఇనుము

70. When both the length and area of cross-section of a wire are doubled, then the resistance will be

ఒక తీగ యొక్క పొడవు మరియు మధ్యచ్ఛేద వైశాల్యము రెండూ, రెండింతలు అయినపుడు ఆ తీగ నిరోధము

- (1) doubled రెండురెట్లు అగును (2) quadrupled నాలుగురెట్లు అగును (3) halved సగం అగును (4) remains same మారదు

71. The work done by an electric force in moving a unit positive charge from one point to another point in a circuit is called

ఒక ప్రమాణ ధనావేశాన్ని ఒక వలయంలో ఒక బిందువు నుండి మరొక బిందువుకు ప్రయాణింప చేయుటకు ఆ విద్యుత్ బలం వల్ల జరిగిన పని

- |                                   |  |
|-----------------------------------|--|
| (1) resistivity<br>వికల్ప నిరోధము | (2) potential difference<br>పొటెన్షియల్ తేడా |
| (3) drift speed<br>అవసరము         | (4) conductivity<br>వాహకత్వం                 |

72. Two currents 0.5 mA and 5 mA flow towards the junction in a circuit and three currents 1 mA, x and 2 mA flow away from the junction. The value of x (in mA) is

రెండు విద్యుత్ ప్రవాహాలు 0.5 mA మరియు 5 mA లు ఒక వలయంలోని జంక్షన్ వైపు గాను మరియు మూడు విద్యుత్ ప్రవాహాలు 1 mA, x మరియు 2 mA లు జంక్షన్ నుండి దూరంగా ప్రయాణిస్తే, x విలువ (mA) లో

- |         |         |       |       |
|---------|---------|-------|-------|
| (1) 5.5 | (2) 2.5 | (3) 3 | (4) 2 |
|---------|---------|-------|-------|

73. The magnetic force acting on a moving charge is given by the product of three quantities, namely

చలనంలో ఉన్న ఆవేశంపై పనిచేయు అయస్కాంత బలం మూడు రాశుల లబ్ధానికి సమానం. అవి

- (1) charge, speed, electromotive force  
ఆవేశం, వడి, విద్యుత్ చాలక బలం
- (2) charge, magnetic flux, magnetic flux density  
ఆవేశం, అయస్కాంత అభివాహం, అయస్కాంత అభివాహ సాంద్రత
- (3) charge, speed, magnetic flux density  
ఆవేశం, వడి, అయస్కాంత అభివాహ సాంద్రత
- (4) charge, speed, current  
ఆవేశం, వడి, విద్యుత్ ప్రవాహం

74. Lenz's law gives

లెంజ్ నియమం క్రింది వాటిలో దేనిని తెలియచేస్తుంది

- (1) direction of the magnetic field line at any point  
అయస్కాంత క్షేత్ర రేఖలపై ఏదైనా బిందువు వద్ద దాని దిశ
- (2) magnetic force acting on a current carrying wire in magnetic field  
అయస్కాంత క్షేత్రంలో విద్యుత్ ప్రవాహము కలిగి ఉన్న తీగపై పనిచేయు అయస్కాంత బలం
- (3) direction of induced current  
ప్రేరిత విద్యుత్ దిశ
- (4) pole strength of the bar magnet  
దండాయస్కాంతం యొక్క ద్వుపసత్వం

75. An auto driver has started his auto with the help of a rope by pulling. The device used by him to convert mechanical energy to electrical energy is

ఒక ఆటో డ్రైవర్ ఆటోని ఒక తాడు లాగడం ద్వారా స్టార్ట్ చేసినాడు. యాంత్రిక శక్తిని విద్యుత్ శక్తిగా మార్చుటలో అతను వాడిన సాధనం

- (1) battery                      (2) transformer              (3) fuse                      (4) dynamo  
బ్యాటరీ                      ట్రాన్స్‌ఫార్మర్              పూజ్                      డైనామో

76. The material more suitable for core of the electromagnet is

విద్యుదయస్కాంతం యొక్క కోర్‌గా ఉపయోగపడు సరియైన పదార్థం

- (1) Cu-Ni alloy              (2) nichrome              (3) soft iron              (4) steel  
Cu-Ni మిశ్రమలోహం              నైక్రోమ్              మృదు ఇనుము              ఉక్కు

77. A conductor moving with a speed of 20 m/s in the direction perpendicular to the direction of magnetic field of induction 0.5 T, induces an EMF of 5 V. The length of the conductor is

ఒక వాహకము 0.5 T ప్రేరణ కలిగిన అయస్కాంత క్షేత్రానికి లంబదిశలో 20 m/s వేగంతో ప్రయాణిస్తూ, 5 V ప్రేరిత విద్యుత్‌చాలక బలాన్ని కలుగచేసింది. ఆ వాహకం యొక్క పొడవు

- (1) 1 m                      (2) 5 m                      (3) 50 m                      (4) 0.5 m

78. The magnetic field lines due to the horseshoe magnet between its poles are

గుర్రపునాడ అయస్కాంత యొక్క ద్వువాల మధ్య ఏర్పడు అయస్కాంత క్షేత్ర రేఖల ఆకారము

- (1) straight lines                      (2) squares  
సరళ రేఖలు                      చతురస్రాకారాలు  
(3) circles                      (4) loops of irregular shape  
వృత్తాలు                      క్రమ ఆకారం లేని వలయాలు

79. A bar magnet is moved towards a coil (a) slowly, (b) quickly. The induced EMF is

ఒక దండాయస్కాంతాన్ని తీగచుట్ట లోపలికి (a) నెమ్మదిగాను, (b) వేగంగాను కదిపినారు. ప్రేరిత విద్యుత్‌చాలక బలం

- (1) same in both cases                      (2) large in case (a)  
రెండు సందర్భాల్లోనూ సమానం                      (a) సందర్భంలో ఎక్కువ  
(3) large in case (b)                      (4) dependent only on radius of the coil  
(b) సందర్భంలో ఎక్కువ                      తీగచుట్ట వ్యాసార్థంపై మాత్రమే ఆధారపడుతుంది

80. Which among the following pair of units measure the temperature?

క్రంది వానిలో ఉష్ణోగ్రతను కొలుచు జంట ప్రమాణాలు

(1) Degree Celsius, Joule

డిగ్రీ సెల్సియస్, జౌల్

(2) Degree Celsius, Calorie

డిగ్రీ సెల్సియస్, కెలోరీ

(3) Degree Celsius, Kelvin

డిగ్రీ సెల్సియస్, కెల్విన్

(4) Kelvin, Joule

కెల్విన్, జౌల్

81. Humidity means

ఆర్ద్రత అనగా

(1) Pressure difference in atmospheric air

వాతావరణంలోని గాలి పీడనం తేడా

(2) Amount of water vapour in atmospheric air

వాతావరణంలోని గాలినందు గల నీటి ఆవిరి పరిమాణం

(3) Temperature in the atmosphere

వాతావరణంలోని ఉష్ణోగ్రత

(4) Quantity of heat energy given by the Sun

సూర్యుని నుండి వచ్చు ఉష్ణశక్తి పరిమాణం

82. 40 g of water at 60 °C is added to 60 g of water at 30 °C. The final temperature of their mixture is

60 °C ఉష్ణోగ్రత కలిగిన 40 g నీటిని, 30 °C ఉష్ణోగ్రత కలిగిన 60 g నీటికి కలిపినారు. ఏర్పడు మిశ్రమం తుది ఉష్ణోగ్రత

(1) <50 °C

(2) >50 °C

(3) = 50 °C

(4) None of these

ఇవేవి కావు

83. Ghee is converted from liquid to solid state during winter season. This process is called

శీతాకాలంలో నెయ్యిని ద్రవపదార్థం నుండి ఘనపదార్థంకు మార్పు ప్రక్రియ

(1) Evaporation

భాష్పీభవనం

(2) Melting

ద్రవీభవనం

(3) Freezing

ఘనీభవనం

(4) Condensation

సాంద్రీకరణం

84. The total internal reflection in diamond makes it shine, because the critical angle of diamond is

వజ్రంలో జరుగు సంపూర్ణాంతర పరావర్తనం దానిని ప్రకాశింప చేస్తుంది. ఎందుకనగా వజ్రం యొక్క సందిగ్ధకోణం విలువ

(1) very high

చాలా ఎక్కువ

(2) very low

చాలా తక్కువ

(3) exactly 45°

ఖచ్చితంగా 45°

(4) None of these

ఇవేవి కావు

85. A rectangular tank of depth 4 m is full of water of refractive index  $4/3$ . When viewed from the top, the bottom of the tank is seen at a depth of

4m లోతు కలిగిన ఒక దీర్ఘ చతురస్రాకారపు ట్యాంకు నిండుగా  $4/3$  వక్రీభవన గుణకం కలిగిన నీటిలో నిండి ఉంది. పైనుండి చూసినపుడు, ట్యాంకు అడుగుభాగం కనిపించు లోతు

- (1) 3 m (2) 2 m (3) 0.38 m (4) 1.33 m

86. To examine the internal organs of a human body through light, the doctors use

మానవ శరీరం నందలి అంతర్గత అవయవాలను కాంతి ద్వారా పరీక్షించుటకు డాక్టర్లు వాడునది

- (1) stethoscope (2) centrifuge (3) sterilizer (4) optical fibre  
స్థెతస్కోప్ అవకేంద్ర యంత్రం స్టెరిలైజర్ ఆప్టికల్ ఫైబర్

87. A bird is flying vertically downwards the surface of water of a lake with constant speed. For a fish inside the water exactly below the bird, the bird appears to be

ఒక వక్షి ఒక నీటి నరస్సు ఉపరితలం దిశలో నిట్టనిలువుగా క్రిందకు సమవేగంతో ప్రయాణిస్తున్నది. ఆ వక్షి దిగువ దిశలో నీటియందు గల ఒక చేపకు వక్షి కనిపించు స్థానం

- (1) farther than actual distance (2) closer than actual distance  
యథార్థ దూరం కన్నా దూరంగా యథార్థ దూరం కన్నా దగ్గరగా  
(3) at the actual position (4) None of these  
యథా స్థానంలో ఇవేవీ కావు

88. The angle between the paraxial rays and principal axis is

పారాక్షియల్ కిరణాలకు, ప్రధాన అక్షానికి మధ్య గల కోణం

- (1)  $45^\circ$  (2)  $0^\circ$  (3)  $90^\circ$  (4)  $83^\circ$

89. A convex lens has a focal length of 10 cm. If  $u$  is the object distance, then the image distance is given by

ఒక కుంభాకార కటకం యొక్క నాభ్యాంతరం 10 cm.  $u$  వస్తుదూరం అయితే ప్రతిబింబ దూరము

- (1)  $\frac{u}{u-10}$  (2)  $\frac{10}{u-10}$  (3)  $\frac{10u}{u-10}$  (4)  $\frac{u-10}{10u}$

90. A double concave lens of refractive index 1.5 with its two spherical surfaces of radii  $R_1 = 30$  cm and  $R_2 = 45$  cm is kept in air. Its focal length is

1.5 వక్రీభవన గుణకం కలిగి  $R_1 = 30$  cm మరియు  $R_2 = 45$  cm వ్యాసార్థాలుగా ఉన్న రెండు గోళాకార ఉపరితలాలు కలిగిన ఒక ద్విస్పృతాకార కటకాన్ని గాలిలో ఉంచినారు. దాని నాభ్యాంతరము

- (1) 15 cm (2) 37.5 cm (3) -18 cm (4) -36 cm

### SECTION—III : CHEMISTRY

91. The maximum number of electrons that can be accommodated in the L-shell of an atom is

ఈ పరమాణువులోని కర్పరం L-నందు ఇమడగలిగే గరిష్ఠ ఎలక్ట్రానుల సంఖ్య

- (1) 16 (2) 8 (3) 2 (4) 4

92. If the atomic weights of lithium and potassium respectively are 7 and 39, then the atomic weight of sodium as per Dobereiner's law of triads is

లిథియం మరియు పొటాషియంల యొక్క పరమాణు భారాలు వరుసగా 7 మరియు 39 అయినచో, డాబెరీనర్ త్రిక సిద్ధాంతం ప్రకారము, సోడియం యొక్క పరమాణు భారము ఎంత?

- (1) 22 (2) 11 (3) 46 (4) 23

93. The correct order of electronegativity values of the following elements is

ఈ క్రింది మూలకాలకు ఖచ్చితమైన బుణవిద్యుదాత్మకత విలువల క్రమము

- (1)  $C < N < F < O$  (2)  $C < O < N < F$  (3)  $C < N < O < F$  (4)  $N < C < O < F$

94. The number of elements present in period 4th of long form of periodic table are

నూతన ఆవర్తన పట్టిక 4 వ పీరియడ్లో ఉన్న మూలకాల సంఖ్య

- (1) 2 (2) 8 (3) 18 (4) 32

95. The non-metal present in IVA (carbon family) is

IVA గ్రూప్ లేదా కార్బన్ కుటుంబములో ఉండే అలోపాము

- (1) C (2) Sn (3) Pb (4) Ge

96. The element with highest electron affinity value among halogens is

హలోజన్ మూలకాలలో ఏ మూలకమునకు అత్యధిక ఎలక్ట్రాన్ ఎఫినిటీ విలువ ఉంటుంది

- (1) Cl (2) F (3) Br (4) I

97. An element  ${}_{12}M^{24}$  forms ionic compound with another element 'Y'. Then the charge on the ion formed by M is

ఒక మూలకము  ${}_{12}M^{24}$  Y అనే మూలకముతో అయానిక బంధం ఏర్పరచును. అయితే M చే ఏర్పడే అయానుపై గల ఆవేశం

- (1) +1 (2) +3 (3) +2 (4) -2

98. The covalent bonds present in nitrogen molecule are

నైట్రోజన్ అణువులో ఉండే సమయోజనీయ బంధాలు

(1) one  $\sigma$  (sigma) bond and one  $\pi$  (pi) bond

ఒక  $\sigma$  బంధం మరియు ఒక  $\pi$  బంధము

(2) two  $\sigma$  (sigma) bonds and no  $\pi$  (pi) bond

రెండు  $\sigma$  బంధములు మరియు  $\pi$  బంధం లేదు

(3) one  $\sigma$  (sigma) bond and two  $\pi$  (pi) bonds

ఒక  $\sigma$  బంధం మరియు రెండు  $\pi$  బంధములు

(4) two  $\sigma$  (sigma) bonds and two  $\pi$  (pi) bonds

రెండు  $\sigma$  బంధములు మరియు రెండు  $\pi$  బంధములు

99. The type of hybrid orbital exist at Be atom in  $BeCl_2$  is

$BeCl_2$  అణువులో Be పరమాణువు వద్ద ఏ రకమైన సంకర ఆర్బిటాళ్ళు ఉంటాయి?

- (1)  $sp$  (2)  $sp^2$  (3)  $sp^3$  (4)  $sp^2-sp^2$

100. The shape of methane molecule is

మిథేన్ అణువు యొక్క ఆకృతి

- (1) pyramidal (2) trigonal planar (3) tetrahedral (4) linear  
పిరామిడల్ (గోళాకారము) త్రిభుజీయ త్రిభుజం చతుర్భుజీయం రేఖీయం

101. Which of the molecules has highest bond length (Å)?

ఈ క్రింది వాటిలో దేనికి బంధ దూరము అత్యధికము

- (1) H—F (2) H—Cl (3) H—Br (4) H—I

SPACE FOR ROUGH WORK / చిత్తుపనికి స్థానము

102. Match the following :

ఈ క్రింది వాటిని జతపర్చుము :

Ore	Formula
(a) $Fe_3O_4$	(i) Magnesite (మాగ్నెసిట్)
(b) $MgCO_3$	(ii) Magnetite (మాగ్నెటైట్)
(c) $ZnS$	(iii) Cinnabar (సిన్నబార్)
(d) $Hg_2S$	(iv) Zinc Blende (జింక్ బ్లెండ్)

(1) (a) (b) (c) (d)

(i) (ii) (iii) (iv)

(2) (a) (b) (c) (d)

(ii) (i) (iii) (iv)

(3) (a) (b) (c) (d)

(ii) (i) (iv) (iii)

(4) (a) (b) (c) (d)

(i) (ii) (iv) (iii)

103. The most suitable method for concentration of sulphide ore is

ఈ క్రింది వాటిలో ఏ పద్ధతి సల్ఫైడ్ ధాతువుని సాంద్రీకరణ చేయుటకు అనువుగా ఉంటుంది?

(1) washing

వేటితో కడగడం

(2) hand picking

చేతితో ఏరివేయడం

(3) froth floatation

ప్లవన ప్రక్రియ

(4) magnetic separation

అయస్కాంత వేర్పాటు పద్ధతి

104. The name of complex ion formed when  $Ag_2S$  is dissolved in KCN solution is

$Ag_2S$  ని KCN ద్రావణములో కరిగించినచో ఏర్పడే సంక్లిష్ట అయాను యొక్క నామము

(1) monocyanoargentate(I) ion

మెనోసైనార్జిన్‌బేట్ (I) అయాను

(2) dicyanoargentate(I) ion

డైసైనార్జిన్‌బేట్ (I) అయాను

(3) tricyanoargentate(I) ion

ట్రైసైనార్జిన్‌బేట్ (I) అయాను

(4) tetracyanoargentate(I) ion

టెట్రాసైనార్జిన్‌బేట్ (I) అయాను

105. Graphite is a good conductor of electricity because of

గ్రాఫైట్ ఒక మంచి విద్యుత్వాహకముగా వని చేయడానికి గల కారణము

- (1) it has localized  $\pi$  electron system  
స్థావరం చెందిఉన్న  $\pi$  ఎలక్ట్రానుల వ్యవస్థ
- (2) it has delocalized  $\pi$  electron system  
విస్తావనం చెందిఉన్న  $\pi$  ఎలక్ట్రానుల వ్యవస్థ
- (3) it has localized  $\sigma$  electron system  
స్థావరం చెందిఉన్న  $\sigma$  ఎలక్ట్రానుల వ్యవస్థ
- (4) it has delocalized  $\sigma$  electron system  
విస్తావనం చెందిఉన్న  $\sigma$  ఎలక్ట్రానుల వ్యవస్థ

106. The molecular formula of cyclopentane is

సైక్లోపెంటేన్ యొక్క అణు ఫార్ములా

- (1)  $C_5H_{10}$  (2)  $C_5H_{12}$  (3)  $C_5H_8$  (4)  $C_5H_{11}$

107. The IUPAC name of the compound  $CH_3-CH_2-CH=CH_2$  is

$CH_3-CH_2-CH=CH_2$  యొక్క IUPAC నామము

- (1) But-3-ene  
బ్యూట్-3-ఈన్
- (2) But-1-ene  
బ్యూట్-1-ఈన్
- (3) But-3-yne  
బ్యూట్-3-ఐన్
- (4) But-1-yne  
బ్యూట్-1-ఐన్

108.  $C_2H_5OH$  on oxidation with alkaline  $KMnO_4$  gives the compound A, which on further oxidation gives the compound B. The names of A, B respectively are

$C_2H_5OH$  ని క్షారయుత  $KMnO_4$  తో ఆక్సికరణము చేయగా 'A' అనే సమ్మేళనము ఏర్పడినది, మరలదానిని ఆక్సికరణము చేస్తే 'B' ఏర్పడినది. అయితే 'A', 'B' పేర్లు వరుసగా

- (1) methanal, methanoic acid  
మిథనాల్, మిథనోయిక్ ఆమ్లము
- (2) ethanal, ethanoic acid  
ఇథనాల్, ఇథనోయిక్ ఆమ్లము
- (3) ethene, propanoic acid  
ఇథేన్, ప్రొపనోయిక్ ఆమ్లము
- (4) ethyne, ethanoic acid  
ఇథైన్, ఇథనోయిక్ ఆమ్లము

109. Which one of the following compound hydrocarbons can show isomerism?

ఈ క్రింది ఏ హైడ్రోకార్బన్ అణు సాదృశ్యాన్ని ప్రదర్శిస్తుంది?

- (1)  $C_2H_4$  (2)  $C_2H_6$  (3)  $C_3H_8$  (4)  $C_4H_{10}$

110.  $CH_3COOH$  is an organic

$CH_3COOH$  అనునది ఒక కర్బన

- (1) weak base  
బలహీనమైన క్షారం
- (2) weak acid  
బలహీన ఆమ్లము
- (3) strong acid  
బలమైన ఆమ్లము
- (4) strong base  
బలమైన క్షారము



115. The chemical name of baking soda is

బేకింగ్ సోడా లేదా వంట సోడా యొక్క రసాయన నామము

(1) sodium carbonate

సోడియం కార్బోనేట్

(2) calcium hydrogen carbonate

కాల్షియం హైడ్రోజన్ కార్బోనేట్

(3) calcium carbonate

కాల్షియం కార్బోనేట్

(4) sodium hydrogen carbonate

సోడియం హైడ్రోజన్ కార్బోనేట్

116. The colour of methyl orange in alkaline medium (basic) is

క్షార ద్రావణంలో మిథైల్ ఆరంజ్ సూచిక యొక్క రంగు

(1) orange

ఆరంజ్

(2) yellow

పసుపు

(3) red

ఎరుపు

(4) blue

నీలము

117. Which one of the following types of medicine is used for treating indigestion?

ఈ క్రింది వానిలో ఏ మందును అజీర్ణంనకు ఉపయోగిస్తారు?

(1) Antibiotic

ఆంటిబయోటిక్

(2) Analgesic

ఎనాలజిసిక్

(3) Antacid

ఆంటాసిడ్

(4) Antiseptic

యాంటిసెప్టిక్

118. The number of water molecules present in one formula unit of gypsum is

ఒక ఫార్ములా యూనిట్ జిప్సంంలో ఉండే నీటి అణువుల సంఖ్య

(1) two

రెండు

(2) half ( $\frac{1}{2}$ )

సగము ( $\frac{1}{2}$ )

(3) five

ఐదు

(4) one

ఒకటి

119. The names of the sub-shells present in  $M$  shell ( $n = 3$ ) are

$M$  అనే కర్పరము ( $n = 3$ ) లో ఉండగల ఉపకర్పరాల పేర్లు

(1)  $2s, 2p, 2d$

(2)  $3s, 3p, 3d$

(3)  $3p, 3d, 3f$

(4)  $4s, 4p, 4d, 4f$

120. As per Moeller chart, the correct ascending order of their energies of the following orbitals is

మొయిల్లర్ చిత్రపటం ప్రకారము, ఈ క్రింది ఆర్బిటాళ్ళ యొక్క ఖచ్చితమైన శక్తి క్రమము ఆరోహణ క్రమములో ఎలా ఉంటుంది?

(1)  $3s < 3p < 4s < 3d$

(2)  $3s < 3p < 3d < 4s$

(3)  $3s < 4s < 3p < 3d$

(4)  $3s < 3d < 4s < 3p$

SPACE FOR ROUGH WORK / చిత్తుపనికి స్థానము