

Combined Graduate Level Examination Tier II 2023 PAPER I

Exam Date	26/10/2023
Exam Time	9:00 AM - 12:00 PM
Subject	CGLE 2023 Tier II Paper I

Section : Mathematical Abilities

Q.1 20%, 35% और 10% की तीन क्रमागत छूटों के बराबर एकल छूट कितनी होगी?

- Ans
- 1. 65.4%
 - 2. 48.7%
 - 3. 53.2%
 - 4. 42.3%

Question ID : 264330164051
Option 1 ID : 264330643455
Option 2 ID : 264330643456
Option 3 ID : 264330643457
Option 4 ID : 264330643458
Status : Answered
Chosen Option : 3

Q.2 ताश की एक गड्डी से प्रतिस्थापन के साथ एक के बाद एक तीन पत्ते निकाले जाते हैं। पहला पत्ता गुलाम, दूसरा पत्ता काला पत्ता (ब्लैक कार्ड) और तीसरा पत्ता सम संख्या वाला पत्ता होने की प्रायिकता क्या होगी?

- Ans
- 1. $\frac{25}{26}$
 - 2. $\frac{5}{338}$
 - 3. $\frac{20}{338}$
 - 4. $\frac{5}{169}$

Question ID : 264330172307
Option 1 ID : 264330675789
Option 2 ID : 264330675787
Option 3 ID : 264330675790
Option 4 ID : 264330675788
Status : Not Answered
Chosen Option : --

Q.3 किसी पार्क में एक निश्चित समय पर बंदरों और मानव आंगंतुकों के सिरों की संख्या और पैरों की संख्या की गिनती की गई और यह पाया गया कि 54 सिर और 148 पैर थे। पार्क में बंदरों की संख्या ज्ञात कीजिए।

- Ans 1. 20
 2. 16
 3. 14
 4. 18

Question ID : 264330164103
Option 1 ID : 264330643666
Option 2 ID : 264330643664
Option 3 ID : 264330643663
Option 4 ID : 264330643665
Status : Answered
Chosen Option : 1

Q.4 निम्नलिखित का मान ज्ञात कीजिए।

$$\frac{\sqrt{1.24} \times \sqrt{2.79}}{\sqrt{2.64} \times \sqrt{5.94}}$$

- Ans 1. $\frac{31}{44}$
 2. $\frac{31}{66}$
 3. $\frac{33}{31}$
 4. $\frac{33}{64}$

Question ID : 264330172972
Option 1 ID : 264330678400
Option 2 ID : 264330678401
Option 3 ID : 264330678399
Option 4 ID : 264330678402
Status : Answered
Chosen Option : 2

Q.5 2 पेंसिल और 3 पेन की कीमत ₹55 है तथा 7 पेंसिल और 2 पेन की कीमत ₹65 है। एक पेन और एक पेंसिल की कुल कीमत (₹ में) कितनी है?

- Ans 1. 25
 2. 20
 3. 15
 4. 12

Question ID : 264330163904
Option 1 ID : 264330642868
Option 2 ID : 264330642867
Option 3 ID : 264330642869
Option 4 ID : 264330642870
Status : Answered
Chosen Option : 2

Q.6 A six-digit number 11p9q4 is divisible by 24. Then the greatest possible value for pq is:

Ans 1. 68

2. 32

3. 56

4. 42

Question ID : 264330172341

Option 1 ID : 264330675918

Option 2 ID : 264330675915

Option 3 ID : 264330675916

Option 4 ID : 264330675917

Status : Answered

Chosen Option : 4

Q.7 $\left[\frac{1}{8} + \left\{ \frac{1}{6} \times \left(\frac{36}{45} \div \frac{24}{25} \right) - \left(\frac{12}{21} \times \frac{14}{15} \div \frac{24}{45} \right) \right\} + \frac{27}{36} \right]$ का मान क्या है?

Ans 1. $\frac{1}{36}$

2. $\frac{1}{27}$

3. $\frac{1}{72}$

4. $\frac{1}{108}$

Question ID : 264330172610

Option 1 ID : 264330676992

Option 2 ID : 264330676993

Option 3 ID : 264330676991

Option 4 ID : 264330676994

Status : Answered

Chosen Option : 3

Q.8 एक व्यापारी अपने माल का विक्रय मूल्य, क्रय मूल्य से 42% अधिक अंकित करता है। वह अपना माल अंकित मूल्य पर 15% छूट देकर बेचता है। उसका लाभ प्रतिशत (निकटतम पूर्णांक तक पूर्णांकित) कितना है?

Ans 1. 35%

2. 27%

3. 21%

4. 42%

Question ID : 264330166057

Option 1 ID : 264330651306

Option 2 ID : 264330651305

Option 3 ID : 264330651304

Option 4 ID : 264330651303

Status : Answered

Chosen Option : 3

Q.9 ₹10,000 पर 20% वार्षिक दर से चक्रवृद्धि ब्याज ₹4,641 है। यदि चक्रवृद्धि अर्धवार्षिक रूप से की गई हो, तो मूलधन कितने वर्षों के लिए निवेश किया गया?

- Ans
- 1. 3
 - 2. 4
 - 3. 6
 - 4. 2

Question ID : 264330163897
Option 1 ID : 264330642841
Option 2 ID : 264330642840
Option 3 ID : 264330642842
Option 4 ID : 264330642839
Status : Answered
Chosen Option : 4

Q.10 The average age of A, B and C is 20 years. Two years ago the sum of the ages of A and B was 6 more than that of C. Find the present age of C.

- Ans
- 1. 28 years
 - 2. 25 years
 - 3. 26 years
 - 4. 29 years

Question ID : 264330171874
Option 1 ID : 264330674089
Option 2 ID : 264330674087
Option 3 ID : 264330674088
Option 4 ID : 264330674090
Status : Answered
Chosen Option : 3

Q.11 25, 46 और 'y' का औसत 11 है। 'y' का मान क्या है?

- Ans
- 1. -38
 - 2. -37
 - 3. -34
 - 4. -36

Question ID : 264330171105
Option 1 ID : 264330671036
Option 2 ID : 264330671035
Option 3 ID : 264330671038
Option 4 ID : 264330671037
Status : Answered
Chosen Option : 1

Q.12 यदि $A = \frac{58^2 - 25^2}{46^2 - 37^2}$, $B = \frac{26^2 - 15^2}{56^2 - 15^2}$ है, तो $\frac{1}{B} - \frac{20}{A}$ का मान क्या होगा?

Ans 1. 1

2. 0

3. 2

4. -1

Question ID : 264330171945

Option 1 ID : 264330674361

Option 2 ID : 264330674360

Option 3 ID : 264330674362

Option 4 ID : 264330674359

Status : Answered

Chosen Option : 2

Q.13 एक ठोस घन, जिसके प्रत्येक कोर की लंबाई 48 cm है, को पिघलाया जाता है। इस पिघले हुए घन से बिना किसी अपव्यय के एक समान ठोस घन, जिनमें से प्रत्येक का आयतन 64 cm^3 है, बनाए जाते हैं। ऐसे कितने छोटे घन प्राप्त होंगे?

Ans 1. 1728

2. 1748

3. 1718

4. 1738

Question ID : 264330171148

Option 1 ID : 264330671210

Option 2 ID : 264330671208

Option 3 ID : 264330671207

Option 4 ID : 264330671209

Status : Answered

Chosen Option : 1

Q.14 One chord of a circle is given as 20.5 cm. Then the radius (r) of the circle must be:

Ans 1. $r = 10\text{cm}$

2. $r < 10.25$

3. $r \geq 10.25$

4. $r > 10.25$

Question ID : 264330172602

Option 1 ID : 264330676961

Option 2 ID : 264330676959

Option 3 ID : 264330676962

Option 4 ID : 264330676960

Status : Answered

Chosen Option : 4

Q.15 यदि $P(A \cup B) = \frac{5}{9}$, $P(\bar{A} \cup \bar{B}) = \frac{13}{27}$, $P(A) = \frac{11}{18}$ है, तो घटना B के प्रतिकूल संयोगानुपात ज्ञात कीजिए।

- Ans
- 1. $\frac{38}{17}$
 - 2. $\frac{7}{57}$
 - 3. $\frac{29}{25}$
 - 4. $\frac{47}{7}$

Question ID : 264330172352

Option 1 ID : 264330675959

Option 2 ID : 264330675961

Option 3 ID : 264330675962

Option 4 ID : 264330675960

Status : Not Answered

Chosen Option : --

Q.16 A and B can complete a job together in 12.5 days; B and C can complete the same job together in 18.75 days, while C and A can complete the same job together in 15 days. In how many days will A, B and C together be able to complete the same job alongside D, who is only 40% as efficient as C?

- Ans
- 1. $9\frac{7}{27}$
 - 2. $9\frac{17}{27}$
 - 3. $9\frac{1}{3}$
 - 4. $9\frac{2}{3}$

Question ID : 264330171134

Option 1 ID : 264330671153

Option 2 ID : 264330671152

Option 3 ID : 264330671154

Option 4 ID : 264330671151

Status : Not Answered

Chosen Option : --

Q.17 यदि $P : Q = 3 : 4$ और $Q : R = 4 : 7$ हैं, तो $(P + Q) : (Q + R) : (R + P)$ का मान ज्ञात कीजिए।

Ans 1. 7 : 11 : 10

2. 10 : 3 : 11

3. 11 : 4 : 7

4. 3 : 4 : 7

Question ID : 264330164089

Option 1 ID : 264330643608

Option 2 ID : 264330643610

Option 3 ID : 264330643609

Option 4 ID : 264330643607

Status : Answered

Chosen Option : 1

Q.18 A set of data presented in the form of a frequency distribution table with class intervals and their respective frequencies had a mode of 48.5. The lower boundary of the modal class was 46.5; the frequency of the modal class was 34; the frequency of the class interval just preceding the modal class was 32 and the frequency of the class interval just succeeding the modal class was 25. What was the width of the modal class?

Ans 1. 10.5

2. 11

3. 10

4. 12

Question ID : 264330171141

Option 1 ID : 264330671180

Option 2 ID : 264330671181

Option 3 ID : 264330671179

Option 4 ID : 264330671182

Status : Not Answered

Chosen Option : --

Q.19 एक संवृत घनाभ की लंबाई, चौड़ाई और ऊँचाई का अनुपात 6 : 3 : 2 दिया गया है। इस घनाभ का संपूर्ण पृष्ठीय क्षेत्रफल 1800 cm^2 दिया गया है। इस घनाभ का आयतन (cm^3 में) ज्ञात कीजिए।

Ans 1. 4650

2. 4200

3. 4500

4. 4800

Question ID : 264330171151

Option 1 ID : 264330671221

Option 2 ID : 264330671219

Option 3 ID : 264330671220

Option 4 ID : 264330671222

Status : Answered

Chosen Option : 3

Q.20 किसी टावर के शीर्ष से, 10 m ऊँची बिल्डिंग के शीर्ष का अवनमन कोण 60° है। यदि टावर और बिल्डिंग के बीच की दूरी $50\sqrt{3}$ m है, तो उस टावर की ऊँचाई ज्ञात कीजिए।

- Ans 1. 100 m
 2. 160 m
 3. 140 m
 4. 150 m

Question ID : 264330172607
Option 1 ID : 264330676979
Option 2 ID : 264330676982
Option 3 ID : 264330676980
Option 4 ID : 264330676981
Status : Answered
Chosen Option : 4

Q.21 B ने एक थोक विक्रेता से ₹180 प्रति kg की दर से 15 kg सेब खरीदे, जो एक kg वज़न के लिए 950 g के वज़न का उपयोग करता है। B ने इन सभी सेबों को ₹180 प्रति kg की दर से बेचा, लेकिन एक kg वज़न के लिए 750 g के वज़न का उपयोग किया। इस लेन-देन में B द्वारा अर्जित लाभ प्रतिशत (दो दशमलव स्थानों तक शुद्ध) ज्ञात कीजिए।

- Ans 1. 33.33%
 2. 25.75%
 3. 22.55%
 4. 26.67%

Question ID : 264330171866
Option 1 ID : 264330674055
Option 2 ID : 264330674057
Option 3 ID : 264330674058
Option 4 ID : 264330674056
Status : Marked For Review
Chosen Option : 4

Q.22 एक समबाहु त्रिभुज ABC एक वर्ग BCDE के ऊपर स्थित है। $\angle EAB + 3\angle AEB$ का मान कितना होगा?

- Ans 1. 280°
 2. 80°
 3. 240°
 4. 60°

Question ID : 264330173723
Option 1 ID : 264330681355
Option 2 ID : 264330681357
Option 3 ID : 264330681356
Option 4 ID : 264330681358
Status : Marked For Review
Chosen Option : 4

Q.23 हरि, कमल और ललित ने एक चुनाव लड़ा जिसमें 6050 वोट पड़े और कोई भी वोट अवैध नहीं था। कमल को हरि और ललित द्वारा प्राप्त कुल वोटों से 42% अधिक वोट प्राप्त हुए। यदि ललित को डाले गए कुल वोटों में से केवल 8% वोट प्राप्त हुए, तो हरि को प्राप्त वोटों की संख्या ज्ञात कीजिए।

Ans 1. 1556

2. 1668

3. 2016

4. 1912

Question ID : 264330171864

Option 1 ID : 264330674047

Option 2 ID : 264330674048

Option 3 ID : 264330674050

Option 4 ID : 264330674049

Status : Answered

Chosen Option : 3

Q.24 150 m चौड़ी एक सड़क के दोनों ओर समान ऊँचाई वाले दो खंभे लगे हुए हैं। इन खंभों के बीच, सड़क के एक बिंदु से खंभों के उन्नयन कोण x° और y° इस प्रकार हैं कि $\tan x^\circ = \frac{2}{5}$, $\tan y^\circ = \frac{3}{5}$, तो प्रत्येक खंभे की ऊँचाई होगी:

Ans 1. 39 m

2. 42 m

3. 33 m

4. 36 m

Question ID : 264330171729

Option 1 ID : 264330673521

Option 2 ID : 264330673522

Option 3 ID : 264330673520

Option 4 ID : 264330673519

Status : Answered

Chosen Option : 4

Q.25 दो मित्रों A और B ने क्रमशः ₹1,50,000 और ₹2,50,000 का निवेश करके एक व्यवसाय शुरू किया। वे अपनी आय को अपने निवेश के समान अनुपात में वितरित करने के लिए सहमत हुए। एक वर्ष के बाद, अर्जित लाभ ₹6,00,000 था। उनमें से प्रत्येक ने अपने संबंधित लाभ में ₹50,000 जोड़कर एक अलग परियोजना में निवेश किया। यदि इस परियोजना से ₹4,20,000 की आय हुई थी, तो अर्जित लाभ में A का हिस्सा कितना होगा?

Ans 1. ₹1,84,000

2. ₹1,97,000

3. ₹1,65,000

4. ₹2,35,000

Question ID : 264330171718

Option 1 ID : 264330673477

Option 2 ID : 264330673476

Option 3 ID : 264330673478

Option 4 ID : 264330673475

Status : Answered

Chosen Option : 3

Q.26 चौदह व्यक्तियों में से पहले तेरह व्यक्तियों का औसत वजन 78 kg है। 14वें व्यक्ति का वजन सभी चौदह व्यक्तियों के औसत वजन से 39 kg अधिक है। 14वें व्यक्ति का वजन ज्ञात कीजिए।

- Ans
- 1. 98 kg
 - 2. 110 kg
 - 3. 118 kg
 - 4. 120 kg

Question ID : 264330164084
Option 1 ID : 264330643587
Option 2 ID : 264330643588
Option 3 ID : 264330643589
Option 4 ID : 264330643590
Status : Answered
Chosen Option : 4

Q.27 यदि ₹2,800 पर 10% की वार्षिक दर से 3 वर्षों में प्राप्त साधारण ब्याज ₹x है और ₹6,200 पर 14% की दर से y वर्षों में प्राप्त साधारण ब्याज ₹1,736 है, तो x/y का मान क्या होगा?

- Ans
- 1. 380
 - 2. 140
 - 3. 550
 - 4. 420

Question ID : 264330171719
Option 1 ID : 264330673482
Option 2 ID : 264330673480
Option 3 ID : 264330673479
Option 4 ID : 264330673481
Status : Answered
Chosen Option : 4

Q.28 विपिन किसी यात्रा की एक तिहाई दूरी 30 km/h की चाल से और शेष दूरी 40 km/h की चाल से तय करता है। यदि उसे यात्रा पूरी करने में कुल 12 घंटे लगे, तो यात्रा की कुल दूरी (km में) कितनी थी?

- Ans
- 1. 412
 - 2. 432
 - 3. 450
 - 4. 445

Question ID : 264330171869
Option 1 ID : 264330674070
Option 2 ID : 264330674069
Option 3 ID : 264330674067
Option 4 ID : 264330674068
Status : Answered
Chosen Option : 2

Q.29 एक परीक्षा में पूर्णांक 25 में से 15 विद्यार्थियों द्वारा प्राप्त अंक 13, 11, 16, 15, 18, 12, 13, 14, 10, 22, 15, 21, 20, 17 और 24 हैं। आँकड़ों के इस समुच्चय के बहुलकों का गुणनफल ज्ञात कीजिए।

- Ans 1. 195
 2. 182
 3. 192
 4. 210

Question ID : 264330171139

Option 1 ID : 264330671173

Option 2 ID : 264330671172

Option 3 ID : 264330671171

Option 4 ID : 264330671174

Status : Answered

Chosen Option : 1

Q.30 एक कंटेनर A में स्पिरिट और पानी का 80 लीटर मिश्रण, 7 : 9 के अनुपात में है। इस मिश्रण का 20 लीटर, दूसरे कंटेनर B में स्थानांतरित कर दिया जाता है। फिर कंटेनर A में 20 लीटर पानी भरा जाता है। फिर इस मिश्रण का 32 लीटर, दोबारा कंटेनर B में स्थानांतरित कर दिया जाता है। कंटेनर B के मिश्रण में, पानी और स्पिरिट का अनुपात ज्ञात कीजिए।

- Ans 1. 41 : 87
 2. 87 : 41
 3. 131 : 77
 4. 77 : 131

Question ID : 264330172343

Option 1 ID : 264330675924

Option 2 ID : 264330675923

Option 3 ID : 264330675926

Option 4 ID : 264330675925

Status : Not Answered

Chosen Option : --

Section : Reasoning and General Intelligence

Q.1 नीचे एक प्रश्न और उसके बाद दो कथन I और II दिए गए हैं। पहचान करें कि कौन सा/से कथन प्रश्न का उत्तर देने के लिए पर्याप्त है/हैं।

प्रश्न:

A, B, C, D, E और F एक वृत्ताकार मेज के परितः बैठे हुए हैं। उनमें से प्रत्येक का मुख या तो मेज के केंद्र की ओर या बाहर की ओर (अर्थात् केंद्र की विपरीत दिशा में) है। D किस दिशा में अभिमुख है?

कथन:

(I) B, F के दाएं दूसरे स्थान पर बैठा है और दोनों केंद्र की ओर अभिमुख हैं। A और E के बीच किसी भी छोर से केवल दो व्यक्ति बैठे हैं। A और E दोनों समान दिशा की ओर अभिमुख हैं। A, B का निकटतम पड़ोसी नहीं है।

(II) C, B की विपरीत दिशा में अभिमुख है। D, C के बाएं दूसरे स्थान पर बैठा है।

- Ans
- 1. कथन II अकेले प्रश्न का उत्तर देने के लिए पर्याप्त है जबकि कथन I नहीं है।
 - 2. कथन I अकेले प्रश्न का उत्तर देने के लिए पर्याप्त है जबकि कथन II नहीं है।
 - 3. कथन I और II मिलकर प्रश्न का उत्तर देने के लिए पर्याप्त नहीं हैं।
 - 4. कथन I और II मिलकर प्रश्न का उत्तर देने के लिए पर्याप्त हैं।

Question ID : 264330173697

Option 1 ID : 264330681256

Option 2 ID : 264330681255

Option 3 ID : 264330681258

Option 4 ID : 264330681257

Status : Not Answered

Chosen Option : --

Q.2 निम्नलिखित समीकरण में प्रश्नचिह्न (?) के स्थान पर आने वाला मान (लगभग में) क्या होगा?
 $49.85 - 5.31 + 9.97 = ?$

- Ans
- 1. 55
 - 2. 37
 - 3. 19
 - 4. 6

Question ID : 264330170892

Option 1 ID : 264330670198

Option 2 ID : 264330670197

Option 3 ID : 264330670196

Option 4 ID : 264330670195

Status : Answered

Chosen Option : 1

Q.3 विकल्पों में दी गई उस आकृति की पहचान कीजिए, जिसे (?) के स्थान पर रखने पर शृंखला तार्किक रूप से पूर्ण हो जाएगी।

→ P T S R □	↓ R P T □ S	↑ □ R P S T	→ S □ R T P	?
-------------------	-------------------	-------------------	-------------------	---

Ans

✗ 1. →
T S □ P
R

✗ 2. ←
T S R P
□

✗ 3. ←
T □ R P
S

✓ 4. ←
T S □ P
R

Question ID : 264330162980

Option 1 ID : 264330639238

Option 2 ID : 264330639236

Option 3 ID : 264330639237

Option 4 ID : 264330639235

Status : Answered

Chosen Option : 4

Q.4 उस विकल्प का चयन कीजिए जो तीसरे शब्द से उसी प्रकार संबंधित है जिस प्रकार दूसरा शब्द, पहले शब्द से संबंधित है।

(शब्दों को अर्थपूर्ण हिंदी शब्दों के रूप में माना जाना चाहिए और शब्द में अक्षरों की संख्या/व्यंजनों/स्वरों की संख्या के आधार पर शब्दों को एक-दूसरे से संबंधित नहीं किया जाना चाहिए।)

भीड़ : सघन :: ढलान : ?

Ans 1. तीव्र ढाल

2. तंग

3. मेंड़

4. समतल

Question ID : 264330171853

Option 1 ID : 264330674005

Option 2 ID : 264330674003

Option 3 ID : 264330674006

Option 4 ID : 264330674004

Status : Answered

Chosen Option : 1

Q.5 दिए गए कथनों और निष्कर्षों को ध्यानपूर्वक पढ़ें। आपको दिए गए कथनों को सत्य मानना है, भले ही वे सामान्यतः ज्ञात तथ्यों से भिन्न प्रतीत होते हों। आपको यह तय करना है कि कौन-सा/से निष्कर्ष दिए गए कथनों का तार्किक रूप से अनुसरण करता है/ करते हैं।

कथन:

कुछ कलम, किताबें हैं।

सभी किताबें, कारें हैं।

कुछ कारें, चम्मच हैं।

निष्कर्ष:

(I) : कुछ चम्मच, कलम हैं।

(II) : कुछ किताबें, कलम हैं।

Ans 1. न तो निष्कर्ष (I) अनुसरण करता है और न ही (II) अनुसरण करता है।

2. केवल निष्कर्ष (II) अनुसरण करता है।

3. निष्कर्ष (I) और (II) दोनों अनुसरण करते हैं।

4. केवल निष्कर्ष (I) अनुसरण करता है।

Question ID : 264330166327

Option 1 ID : 264330652369

Option 2 ID : 264330652368

Option 3 ID : 264330652370

Option 4 ID : 264330652367

Status : Answered

Chosen Option : 2

Q.6 अक्षरों के उस संयोजन का चयन कीजिए, जिसे दी गई शृंखला के रिक्त स्थानों में क्रमिक रूप से रखने पर शृंखला पूरी हो जाएगी।

A_DF GI_L MOP_ _UVX YA_D

Ans 1. BJQRB

2. CJRSB

3. CJQRB

4. BJRSB

Question ID : 264330163998

Option 1 ID : 264330643243

Option 2 ID : 264330643244

Option 3 ID : 264330643245

Option 4 ID : 264330643246

Status : Answered

Chosen Option : 2

Q.7 Q, R की माँ है। P, Q का पति है। S, R का भाई है। P का S से क्या संबंध है?

Ans 1. साला

2. भाई

3. पुत्र

4. पिता

Question ID : 264330172006

Option 1 ID : 264330674602

Option 2 ID : 264330674600

Option 3 ID : 264330674601

Option 4 ID : 264330674599

Status : Answered

Chosen Option : 4

Q.8 सात व्यक्ति, A, B, C, D, E, F और G एक सीधी पंक्ति में उत्तर की ओर अभिमुख होकर बैठे हैं। D के बाएं केवल तीन व्यक्ति बैठे हैं। D और A के बीच केवल दो व्यक्ति बैठे हैं। B, C के दाएं पांचवें स्थान पर बैठा है। G, E के ठीक दाएं लेकिन A के बाएं किसी स्थान पर बैठा है। पंक्ति के दाएं सिरे पर कौन बैठा है?

Ans 1. B

2. E

3. G

4. A

Question ID : 264330172003

Option 1 ID : 264330674587

Option 2 ID : 264330674588

Option 3 ID : 264330674589

Option 4 ID : 264330674590

Status : Answered

Chosen Option : 1

Q.9 एक पंक्ति में निश्चित संख्या में व्यक्ति उत्तर की ओर अभिमुख होकर बैठे हैं। N, P के बाएं तीसरे स्थान पर बैठा है। M, N के बाएं तीसरे स्थान पर बैठा है। O, M के बाएं तीसरे स्थान पर बैठा है। O और N के बीच में M बैठा है। M और P के बीच में N बैठा है। यदि पंक्ति में कोई अन्य व्यक्ति नहीं बैठा है, तो बैठे हुए व्यक्तियों की कुल संख्या कितनी है?

- Ans 1. 10
 2. 8
 3. 9
 4. 11

Question ID : 264330171855

Option 1 ID : 264330674011

Option 2 ID : 264330674013

Option 3 ID : 264330674012

Option 4 ID : 264330674014

Status : Answered

Chosen Option : 1

Q.10 यदि '+' और '-' को परस्पर बदल दिया जाए तथा 'x' और '÷' को परस्पर बदल दिया जाए, तो निम्नलिखित समीकरण में प्रश्नचिह्न (?) के स्थान पर क्या आएगा?
 $113 \div 4 - 217 \times 7 + 4 = ?$

- Ans 1. 479
 2. 477
 3. 459
 4. 467

Question ID : 264330170921

Option 1 ID : 264330670314

Option 2 ID : 264330670313

Option 3 ID : 264330670311

Option 4 ID : 264330670312

Status : Answered

Chosen Option : 3

Q.11 शब्द HOCKEY के दूसरे, चौथे, पांचवें और छठे (बाएं से दाएं गिनने पर) अक्षरों का उपयोग करके कितने अर्थपूर्ण अंग्रेजी शब्द बनाए जा सकते हैं, जिसमें प्रत्येक शब्द में प्रत्येक अक्षर का केवल एक बार उपयोग किया गया हो?

- Ans 1. दो
 2. शून्य
 3. एक
 4. तीन

Question ID : 264330171997

Option 1 ID : 264330674565

Option 2 ID : 264330674563

Option 3 ID : 264330674564

Option 4 ID : 264330674566

Status : Not Answered

Chosen Option : --

Q.12 उस विकल्प का चयन कीजिए जो नीचे दिए गए शब्दों के एक तार्किक और सार्थक क्रम को निरूपित करता है।

1. शर्ट पीस (Shirt piece)
2. धागा (Thread)
3. फैब्रिक (Fabric)
4. शर्ट (Shirt)
5. कपास (Cotton)

Ans  1. 3, 5, 1, 2, 4

 2. 5, 2, 3, 1, 4

 3. 5, 3, 1, 2, 4

 4. 3, 1, 2, 4, 5

Question ID : 264330166334

Option 1 ID : 264330652395

Option 2 ID : 264330652396

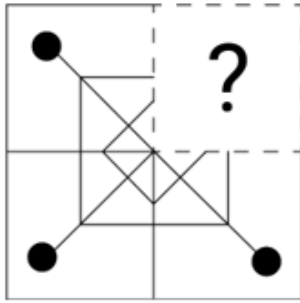
Option 3 ID : 264330652398

Option 4 ID : 264330652397

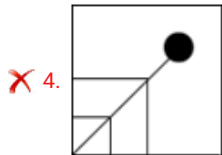
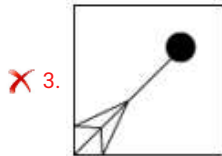
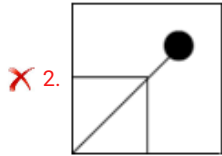
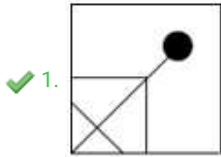
Status : Answered

Chosen Option : 2

Q.13 उस विकल्प आकृति का चयन कीजिए, जो नीचे दिए गए चित्र में प्रश्न-चिह्न (?) के स्थान पर आकर पैटर्न को पूर्ण करेगी।



Ans



Question ID : 264330162946

Option 1 ID : 264330639101

Option 2 ID : 264330639099

Option 3 ID : 264330639102

Option 4 ID : 264330639100

Status : Answered

Chosen Option : 1

Q.14 एक कथन के बाद चार निष्कर्ष दिए गए हैं। दिए गए कथन के आधार पर कौन-सा/से निष्कर्ष सत्य है/हैं?

कथन:

$$I < M < F \leq D \leq S = J$$

निष्कर्ष:

I) $S < M$

II) $F = S$

III) $I > J$

IV) $M < D$

- Ans
- 1. केवल निष्कर्ष II सत्य है।
 - 2. निष्कर्ष IV और II सत्य हैं।
 - 3. केवल निष्कर्ष IV सत्य है।
 - 4. निष्कर्ष I और III सत्य हैं।

Question ID : 264330171840

Option 1 ID : 264330673952

Option 2 ID : 264330673953

Option 3 ID : 264330673951

Option 4 ID : 264330673954

Status : Answered

Chosen Option : 3

Q.15 निम्नलिखित चारों संख्या-युग्मों में से तीन किसी निश्चित तरीके से समान हैं और इस प्रकार कोई समूह बनाते हैं।

वह कौन-सा युग्म है, जिसका संबंध उस समूह से नहीं है?

(नोट: संख्याओं को उसके घटक अंकों में विभाजित किए बिना, पूर्ण संख्याओं पर ही गणितीय संक्रियाएं की जानी चाहिए। जैसे 13 - मान लीजिए 13 पर गणितीय संक्रियाएं जैसे कि 13 में जोड़ना/घटाना/गुणा करना आदि किया जा सकता है। 13 को 1 और 3 में तोड़कर और फिर 1 और 3 पर गणितीय संक्रियाएं करने की अनुमति नहीं है।)

- Ans
- 1. 18-162
 - 2. 15-135
 - 3. 13-117
 - 4. 11-89

Question ID : 264330170879

Option 1 ID : 264330670146

Option 2 ID : 264330670145

Option 3 ID : 264330670144

Option 4 ID : 264330670143

Status : Answered

Chosen Option : 4

Q.16 उस समुच्चय का चयन कीजिए, जिसमें संख्याओं के बीच ठीक वही संबंध हो, जो संबंध निम्नलिखित समुच्चयों की संख्याओं के बीच है।

(नोट: संख्याओं को उसके घटक अंकों में विभाजित किए बिना, पूर्ण संख्याओं पर ही गणितीय संक्रियाएं की जानी चाहिए। जैसे 13 - मान लीजिए 13 पर गणितीय संक्रियाएं जैसे कि 13 में जोड़ना/घटाना/गुणा करना आदि किया जा सकता है। 13 को 1 और 3 में तोड़कर और फिर 1 और 3 पर गणितीय संक्रियाएं करने की अनुमति नहीं है।)

(5, 5, 25)
(2, 5, 10)

Ans 1. (7, 3, 14)

2. (3, 3, 9)

3. (4, 4, 20)

4. (9, 3, 26)

Question ID : 264330170859

Option 1 ID : 264330670065

Option 2 ID : 264330670063

Option 3 ID : 264330670064

Option 4 ID : 264330670066

Status : Answered

Chosen Option : 2

Q.17 एक निश्चित कूट भाषा में, 'CARD' को '7359' के रूप में कूटबद्ध किया जाता है, 'SERV' को '1256' के रूप में कूटबद्ध किया जाता है और 'PACK' को '8497' के रूप में कूटबद्ध किया जाता है। दी गई कूट भाषा में 'D' के लिए कूट क्या है?

Ans 1. 3

2. 9

3. 7

4. 5

Question ID : 264330167811

Option 1 ID : 264330658195

Option 2 ID : 264330658196

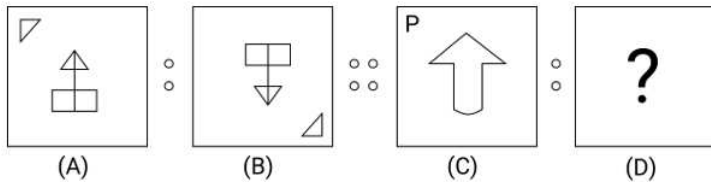
Option 3 ID : 264330658197

Option 4 ID : 264330658198

Status : Answered

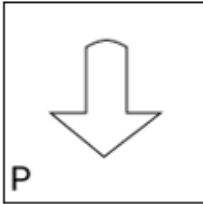
Chosen Option : 1

Q.18 एक निश्चित पैटर्न में आकृति A, आकृति B से संबंधित है। उसी पैटर्न का अनुसरण करते हुए, आकृति C आकृति D से संबंधित है। पैटर्न का अध्ययन कीजिए और उस आकृति का चयन कीजिए, जिसे D के स्थान पर रखा जाना चाहिए।

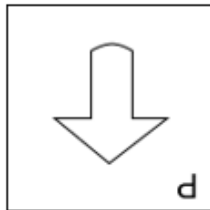


Ans

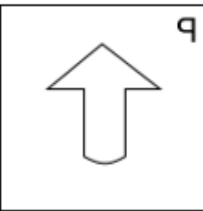
✗ 1.



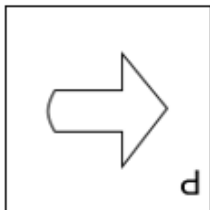
✓ 2.



✗ 3.



✗ 4.



Question ID : 264330172907

Option 1 ID : 264330678153

Option 2 ID : 264330678154

Option 3 ID : 264330678152

Option 4 ID : 264330678151

Status : Answered

Chosen Option : 2

Q.19 अक्षरों के उस संयोजन का चयन करें जिसके अक्षरों को दी गई श्रृंखला के रिक्त स्थानों में क्रमिक रूप से रखने पर वह तार्किक रूप से पूर्ण हो जाएगी।

PR_Y__RA_ZP_A_Z

- Ans
- 1. APYZZY
 - 2. APYZRY
 - 3. AZYZRY
 - 4. AZPYRY

Question ID : 264330166307

Option 1 ID : 264330652289

Option 2 ID : 264330652288

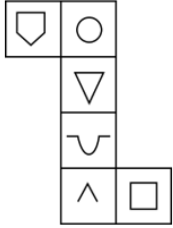
Option 3 ID : 264330652290

Option 4 ID : 264330652287

Status : Answered

Chosen Option : 4

Q.20 जब नीचे दिए गए आरेख को घन के आकार में मोड़ा जाता है तो कौन-सा प्रतीक '^' के विपरीत फ़लक पर होगा?



- Ans
- 1.
 - 2.
 - 3.
 - 4.

Question ID : 264330172905

Option 1 ID : 264330678146

Option 2 ID : 264330678145

Option 3 ID : 264330678143

Option 4 ID : 264330678144

Status : Answered

Chosen Option : 2

Q.21 इस प्रश्न में एक प्रश्न के बाद (I) और (II) के रूप में क्रमांकित दो कथन दिए गए हैं। आपको यह तय करना है कि कथनों में दी गई जानकारी प्रश्न का उत्तर देने के लिए पर्याप्त है या नहीं। दोनों कथनों को पढ़िए और उपयुक्त उत्तर का निर्णय कीजिए।

प्रश्न: किशोर का सुजाता से क्या संबंध है?

(I) नव्या, किशोर की पुत्री है। विनीता, किशोर की पत्नी है।

(II) अमन, नव्या का भाई है। सुजाता, अमन की इकलौती पुत्री है।

Ans 1. (I) और (II) दोनों एक साथ आवश्यक हैं।

2. (I) अकेला पर्याप्त है, जबकि (II) अकेला पर्याप्त नहीं है।

3. (II) अकेला पर्याप्त है, जबकि (I) अकेला पर्याप्त नहीं है।

4. या तो (I) अकेला या (II) अकेला पर्याप्त है।

Question ID : 264330173707

Option 1 ID : 264330681298

Option 2 ID : 264330681295

Option 3 ID : 264330681296

Option 4 ID : 264330681297

Status : Answered

Chosen Option : 1

Q.22 यदि '+' और '-' को परस्पर बदल दिया जाए तथा 'x' और '÷' को परस्पर बदल दिया जाए, तो निम्नलिखित समीकरण में प्रश्नचिह्न (?) के स्थान पर क्या आएगा?

$$163 \div 3 + 147 \times 7 - 1 = ?$$

Ans 1. 469

2. 489

3. 459

4. 479

Question ID : 264330170917

Option 1 ID : 264330670296

Option 2 ID : 264330670298

Option 3 ID : 264330670295

Option 4 ID : 264330670297

Status : Answered

Chosen Option : 1

Q.23 निम्नलिखित शब्द युग्मों में से तीन शब्द युग्म किसी तरीके से एक समान हैं और इसलिए एक समूह का निर्माण करते हैं। कौन-सा शब्द युग्म उस समूह से संबंधित नहीं है?

(शब्दों को अर्थपूर्ण हिंदी/अंग्रेजी शब्दों के रूप में माना जाना चाहिए और शब्द में अक्षरों की संख्या/व्यंजनों/स्वरों की संख्या के आधार पर शब्दों को समूहीकृत नहीं किया जाना चाहिए।)

Ans 1. ढोना (Carry) : उठाना (Lift)

2. अवलोकन (Look) : देखना (See)

3. यात्रा करना (Travel) : सैर करना (Tour)

4. पास (Close) : दूर (Distant)

Question ID : 264330171845

Option 1 ID : 264330673971

Option 2 ID : 264330673974

Option 3 ID : 264330673973

Option 4 ID : 264330673972

Status : Answered

Chosen Option : 4

Q.24 एक कथन और उसके बाद I और II के रूप में क्रमांकित दो निष्कर्ष दिए गए हैं। कथन को पढ़िए और तय कीजिए कि दिए गए कथन के लिए कौन-सा/से अनुमान सत्य है/हैं।
कथन: भारत में ईंधन की कीमतें दिन-प्रति-दिन बढ़ती जा रही हैं, और इसकी कीमत में वृद्धि की कोई ऊपरी सीमा नहीं है।
अनुमान:
I. केंद्र और राज्य सरकारों ने ईंधन पर अपने विशेष करों में कटौती नहीं की है।
II. अंतरराष्ट्रीय बाजार में महंगाई का प्रभाव ईंधन की बढ़ती कीमतों के लिए उत्तरदायी है।

- Ans
- 1. केवल अनुमान II सत्य है।
 - 2. I और II दोनों अनुमान सत्य हैं।
 - 3. न तो अनुमान I और न ही II सत्य है।
 - 4. केवल अनुमान I सत्य है।

Question ID : 264330171862
Option 1 ID : 264330674040
Option 2 ID : 264330674042
Option 3 ID : 264330674041
Option 4 ID : 264330674039
Status : Answered
Chosen Option : 3

Q.25 यदि '+' और '-' को परस्पर बदल दिया जाए तथा '×' और '÷' को परस्पर बदल दिया जाए, तो निम्नलिखित समीकरण में प्रश्नचिह्न (?) के स्थान पर क्या आएगा?
 $161 \div 4 + 75 \times 5 - 4 = ?$

- Ans
- 1. 643
 - 2. 543
 - 3. 533
 - 4. 633

Question ID : 264330170916
Option 1 ID : 264330670292
Option 2 ID : 264330670293
Option 3 ID : 264330670294
Option 4 ID : 264330670291
Status : Answered
Chosen Option : 4

Q.26 Each of the digits in the number 7148356 is arranged in ascending order from left to right. The position of how many digits will remain unchanged as compared to that in the original number?

- Ans
- 1. Three
 - 2. None
 - 3. Two
 - 4. One

Question ID : 264330170901
Option 1 ID : 264330670234
Option 2 ID : 264330670231
Option 3 ID : 264330670233
Option 4 ID : 264330670232
Status : Answered
Chosen Option : 2

Q.27 नीचे एक कथन दिया गया है जिसके बाद I और II के रूप में क्रमांकित दो संभावित कारण दिए गए हैं। कथन को ध्यानपूर्वक पढ़िए और तय कीजिए कि दोनों में से कौन-सा/से कारण कथन में दी गई घटना/अवलोकन/सूचना की व्याख्या करता है/करते हैं।

कथन:

भारत में, बड़े शहरों ने देश के ग्रामीण हिस्सों से प्रवासी आबादी को आकर्षित किया है। 2011 की जनगणना के अनुसार, भारत के छह सबसे बड़े महानगरों (दिल्ली, मुंबई, चेन्नई, बेंगलुरु, कोलकाता और हैदराबाद) में लगभग 48% निवासी प्रवासी थे।

कारण

- I) शहरों में बेहतर भविष्य और आर्थिक संभावनाओं की उपलब्धता के कारण प्रवास होता है।
II) प्रवास इसलिए होता है क्योंकि व्यक्ति यात्रा करना और नए शहरों को देखना पसंद करते हैं।

Ans 1. न तो I और न ही II संभावित कारण है।

2. केवल I संभावित कारण है।

3. I और II, दोनों संभावित कारण हैं।

4. केवल II संभावित कारण है।

Question ID : 264330163769

Option 1 ID : 264330642329

Option 2 ID : 264330642327

Option 3 ID : 264330642330

Option 4 ID : 264330642328

Status : Answered

Chosen Option : 2

Q.28 एक निश्चित कूट भाषा में, 'BUTTER' को 'CWWSCO' के रूप में कूटबद्ध किया जाता है और 'THEORY' को 'UJHNPV' के रूप में कूटबद्ध किया जाता है। उस भाषा में 'LATENT' को किस प्रकार कूटबद्ध किया जाएगा?

Ans 1. MDXCLQ

2. MEVCKR

3. MCWDLQ

4. MCWDMP

Question ID : 264330171860

Option 1 ID : 264330674034

Option 2 ID : 264330674032

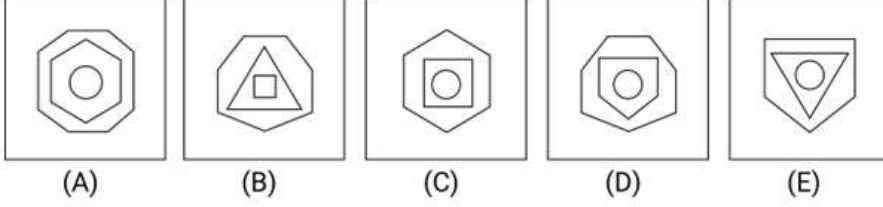
Option 3 ID : 264330674031

Option 4 ID : 264330674033

Status : Answered

Chosen Option : 3

Q.29 निम्नांकित पांच आकृतियों में से चार आकृतियां एक निश्चित तरीके से समान हैं और इस प्रकार एक समूह बनाती हैं। वह कौन-सी आकृति है, जो उस समूह से संबंधित नहीं है?



- Ans 1. B
 2. D
 3. A
 4. C

Question ID : 264330162869

Option 1 ID : 264330638792

Option 2 ID : 264330638794

Option 3 ID : 264330638791

Option 4 ID : 264330638793

Status : Answered

Chosen Option : 1

Q.30 दी गई शृंखला में प्रश्न-चिह्न (?) के स्थान पर क्या आना चाहिए?
18, 74, 298, 1194, 4778, ?

- Ans 1. 19114
 2. 19116
 3. 19112
 4. 19110

Question ID : 264330171936

Option 1 ID : 264330674329

Option 2 ID : 264330674330

Option 3 ID : 264330674328

Option 4 ID : 264330674327

Status : Answered

Chosen Option : 1

Section : English Language and Comprehension

Q.1 Select the most appropriate option in the superlative degree that can substitute the underlined segment in the given sentence.

This is the challenge task I have ever encountered.

- Ans 1. most challenging
 2. much challenging
 3. more challenging
 4. challenging

Question ID : 264330162611
Option 1 ID : 264330637773
Option 2 ID : 264330637772
Option 3 ID : 264330637771
Option 4 ID : 264330637774
Status : Answered
Chosen Option : 1

Q.2 Select the most appropriate option to fill in the blank.
The girl was _____ as she was drenched in the rain.

- Ans 1. cold
 2. bolt
 3. tight
 4. gold

Question ID : 264330170940
Option 1 ID : 264330670387
Option 2 ID : 264330670389
Option 3 ID : 264330670390
Option 4 ID : 264330670388
Status : Answered
Chosen Option : 1

Q.3 Select the option that rectifies the underlined part of the given sentence. In case no correction is needed, select 'No correction required'.
Ashoka was not only a great warrior but also a very wiser ruler.

- Ans 1. more wise
 2. wisest
 3. No correction required
 4. wise

Question ID : 264330164752
Option 1 ID : 264330646148
Option 2 ID : 264330646149
Option 3 ID : 264330646150
Option 4 ID : 264330646147
Status : Answered
Chosen Option : 4

Q.4 Select the option that arranges the given words to form a grammatically correct and meaningful sentence.

The students eagerly their awaited results.

- Ans
- 1. The students their eagerly awaited results.
 - 2. The awaited eagerly results their students.
 - 3. Eagerly awaited the students their results.
 - 4. The students eagerly awaited their results.

Question ID : 264330166269

Option 1 ID : 264330652145

Option 2 ID : 264330652143

Option 3 ID : 264330652146

Option 4 ID : 264330652144

Status : Answered

Chosen Option : 4

Q.5 Select the option that can be used as a one-word substitute for the underlined part of the given sentence.

There is a place for grains in the backyard of this house.

- Ans
- 1. dormitory
 - 2. granary
 - 3. archive
 - 4. apiary

Question ID : 264330170339

Option 1 ID : 264330668017

Option 2 ID : 264330668015

Option 3 ID : 264330668018

Option 4 ID : 264330668016

Status : Answered

Chosen Option : 2

Q.6 Select the sentence which gives the most appropriate meaning of the given idiom.

Bite the bullet

- Ans
- 1. Despite the pain, Sarah decided to go ahead with the surgery.
 - 2. Jack and Jill went up the hill to fetch a pail of water.
 - 3. The children played in the park on a sunny day.
 - 4. The chef prepared a delicious meal for the guests.

Question ID : 264330167830

Option 1 ID : 264330658271

Option 2 ID : 264330658273

Option 3 ID : 264330658274

Option 4 ID : 264330658272

Status : Answered

Chosen Option : 1

Q.7 Read the given sentence carefully and fill in the blank by selecting the correct synonym of the word given in the brackets.

The authority refused to pay any heed to the _____ demands made by the workers.
(Trivial)

- Ans
- 1. conceited
 - 2. majestic
 - 3. idiotic
 - 4. insignificant

Question ID : 264330171641
Option 1 ID : 264330673175
Option 2 ID : 264330673178
Option 3 ID : 264330673176
Option 4 ID : 264330673177
Status : Answered
Chosen Option : 4

Q.8 Select the option that expresses the following sentence in active voice.

By whom were you taught English grammar and composition?

- Ans
- 1. Who taught you English grammar and composition?
 - 2. Who had taught you English grammar and composition?
 - 3. Whom taught you English grammar and composition?
 - 4. Who has taught you English grammar and composition?

Question ID : 264330164766
Option 1 ID : 264330646206
Option 2 ID : 264330646204
Option 3 ID : 264330646205
Option 4 ID : 264330646203
Status : Answered
Chosen Option : 1

Q.9 Select the option that can be used as a one-word substitute for the underlined phrase in the following sentence.

She was known for her ability to communicate effectively and express herself clearly in writing and speaking.

- Ans
- 1. incoherence
 - 2. mumbling
 - 3. articulation
 - 4. rambling

Question ID : 264330166261
Option 1 ID : 264330652113
Option 2 ID : 264330652114
Option 3 ID : 264330652111
Option 4 ID : 264330652112
Status : Answered
Chosen Option : 3

Q.10 Select the most appropriate idiom to fill in the blank.
Despite their differences, the two politicians decided to _____ and work together for the greater good.

- Ans
- 1. bark up the wrong tree
 - 2. burn the midnight oil
 - 3. bury the hatchet
 - 4. blow off steam

Question ID : 264330163591
Option 1 ID : 264330641617
Option 2 ID : 264330641615
Option 3 ID : 264330641618
Option 4 ID : 264330641616
Status : Answered
Chosen Option : 3

Q.11 The following sentence has been divided into four parts. One of them contains an error.
Select the part that contains the error from the given options. .

They were / married happily / before she / quit her job.
A B C D

- Ans
- 1. D
 - 2. B
 - 3. C
 - 4. A

Question ID : 264330162634
Option 1 ID : 264330637865
Option 2 ID : 264330637866
Option 3 ID : 264330637863
Option 4 ID : 264330637864
Status : Answered
Chosen Option : 1

Q.12 The following sentence has been split into four segments. Identify the segment that contains a grammatical error.

We / has seen / that movie / before.

- Ans
- 1. that movie
 - 2. has seen
 - 3. We
 - 4. before

Question ID : 264330162608
Option 1 ID : 264330637761
Option 2 ID : 264330637760
Option 3 ID : 264330637759
Option 4 ID : 264330637762
Status : Answered
Chosen Option : 2

Q.13 Select the most appropriate option in direct speech.

- Ans** 1. The principal said to me, "You are in-charge of the admission cell."
 2. The principal said to I, "You are in-charge of the admission cell."
 3. The principal said me, You are in-charge of the admission cell.
 4. The principal say me, "You are in-charge of the admission cell."

Question ID : 264330171902
Option 1 ID : 264330674199
Option 2 ID : 264330674201
Option 3 ID : 264330674202
Option 4 ID : 264330674200
Status : Answered
Chosen Option : 1

Q.14 The given sentence has an error. Choose the option that corrects the error
Throw a rounder stone to create ripples in the water.

- Ans** 1. Throw a more rounder stone to create ripples in the water.
 2. Throw a more round stone to create ripples in the water.
 3. Throw a round stone to create ripples in the water.
 4. Throw the roundest stone to create ripples in the water.

Question ID : 264330162641
Option 1 ID : 264330637891
Option 2 ID : 264330637892
Option 3 ID : 264330637893
Option 4 ID : 264330637894
Status : Answered
Chosen Option : 3

Q.15 Parts of the following sentence have been given as options. Select the option that contains an error.

Everyone should respect those parents, teachers, and elders.

- Ans** 1. and elders.
 2. respect those
 3. parents, teachers,
 4. Everyone should

Question ID : 264330163984
Option 1 ID : 264330643190
Option 2 ID : 264330643188
Option 3 ID : 264330643189
Option 4 ID : 264330643187
Status : Answered
Chosen Option : 2

Q.16 Select the most appropriate option to fill in the blank.

By this time tomorrow, I _____ the work assigned to me.

- Ans
- 1. will have did
 - 2. will do
 - 3. will have done
 - 4. will be done

Question ID : 264330166088
Option 1 ID : 264330651428
Option 2 ID : 264330651430
Option 3 ID : 264330651427
Option 4 ID : 264330651429
Status : Answered
Chosen Option : 3

Q.17 Select the option that expresses the given sentence in active voice.

The award was presented to her by the director.

- Ans
- 1. She was presenting the award to the director.
 - 2. The director presented the award to her.
 - 3. The award presented to her by the director.
 - 4. She presented the award to the director.

Question ID : 264330167316
Option 1 ID : 264330656260
Option 2 ID : 264330656261
Option 3 ID : 264330656262
Option 4 ID : 264330656259
Status : Answered
Chosen Option : 2

Q.18 Select the option that rectifies the underlined part of the given sentence. In case no correction is needed, select 'No correction required'.
Cinema provides the most universal entertainment.

- Ans
- 1. No correction required
 - 2. an universal
 - 3. more universal
 - 4. a universal

Question ID : 264330164754
Option 1 ID : 264330646158
Option 2 ID : 264330646157
Option 3 ID : 264330646155
Option 4 ID : 264330646156
Status : Answered
Chosen Option : 4

Q.19 Select the option that will improve the underlined part of the following sentence.

He is taller and most handsome than his friend.

- Ans
- 1. very more
 - 2. the most
 - 3. more
 - 4. the more

Question ID : 264330166085
Option 1 ID : 264330651418
Option 2 ID : 264330651415
Option 3 ID : 264330651416
Option 4 ID : 264330651417
Status : Answered
Chosen Option : 4

Q.20 The given sentence has an error which has been underlined. The underlined word is given as options with some changes. Select the option that rectifies the error.
She yaccillates a lot while making any decision.

- Ans
- 1. vasillates
 - 2. vacilates
 - 3. vacillattes
 - 4. vacillates

Question ID : 264330170950
Option 1 ID : 264330670427
Option 2 ID : 264330670429
Option 3 ID : 264330670428
Option 4 ID : 264330670430
Status : Answered
Chosen Option : 4

Q.21 Select the most appropriate option to fill in the blank.
Robin watched as the smoke _____ steadily from the chimney.

- Ans
- 1. went
 - 2. rose
 - 3. hung
 - 4. left

Question ID : 264330171636
Option 1 ID : 264330673157
Option 2 ID : 264330673155
Option 3 ID : 264330673156
Option 4 ID : 264330673158
Status : Answered
Chosen Option : 2

Q.22 Select the option that expresses the given sentence in indirect speech.
He said, "I bought this book for my brother."

- Ans
- 1. He said that he buy this book for his brother.
 - 2. He said that he has bought this book for his brother.
 - 3. He said that he had bought that book for his brother.
 - 4. He said that he bought this book for his brother.

Question ID : 264330167400
Option 1 ID : 264330656586
Option 2 ID : 264330656584
Option 3 ID : 264330656585
Option 4 ID : 264330656583
Status : Answered
Chosen Option : 3

Q.23 Parts of the following sentence have been given as options. Select the option that contains an error.

This is the book whom I wanted to buy.

- Ans
- 1. the book
 - 2. This is
 - 3. whom I
 - 4. wanted to buy.

Question ID : 264330166080
Option 1 ID : 264330651396
Option 2 ID : 264330651395
Option 3 ID : 264330651397
Option 4 ID : 264330651398
Status : Answered
Chosen Option : 3

Q.24 The following sentence has been divided into parts. One of them may contain an error. Select the part that contains the error from the given options. If you don't find any error, mark 'No error' as your answer.
They want to live in first floor of this building.

- Ans
- 1. No error
 - 2. They want to
 - 3. of this building
 - 4. live in first floor

Question ID : 264330172317
Option 1 ID : 264330675826
Option 2 ID : 264330675823
Option 3 ID : 264330675825
Option 4 ID : 264330675824
Status : Answered
Chosen Option : 4

Q.25 Select the most appropriate option to fill in the blank.
You use an _____ to steer a boat.

- Ans
- 1. or
 - 2. ore
 - 3. are
 - 4. oar

Question ID : 264330162588
Option 1 ID : 264330637681
Option 2 ID : 264330637679
Option 3 ID : 264330637682
Option 4 ID : 264330637680
Status : Answered
Chosen Option : 4

Q.26 Select the most appropriate phrasal verb to fill in the blank. .
_____ that thought. It will be a great idea someday.

- Ans
- 1. Hold onto
 - 2. Hold against
 - 3. Hold to
 - 4. Hold on

Question ID : 264330162645
Option 1 ID : 264330637907
Option 2 ID : 264330637910
Option 3 ID : 264330637909
Option 4 ID : 264330637908
Status : Answered
Chosen Option : 4

Q.27 Select the option that expresses the given sentence in indirect speech.
He said, "Two and two make four."

- Ans
- 1. He says that two and two make four.
 - 2. He says that two and two made four.
 - 3. He said that two and two make four.
 - 4. He said that two and two made four.

Question ID : 264330167397
Option 1 ID : 264330656572
Option 2 ID : 264330656574
Option 3 ID : 264330656571
Option 4 ID : 264330656573
Status : Answered
Chosen Option : 3

Q.28 Parts of the following sentence have been given as options. Select the option that contains an error.

The speaker's emphasiss is on the present-day problems that are being faced by ordinary men of India.

Ans 1. on the present-day problems

2. The speaker's emphasiss is

3. by ordinary men of India

4. that are being faced

Question ID : 264330170949

Option 1 ID : 264330670424

Option 2 ID : 264330670423

Option 3 ID : 264330670426

Option 4 ID : 264330670425

Status : Answered

Chosen Option : 2

Q.29 Select the option that expresses the given sentence in passive voice.

Access denied.

Ans 1. Let the access be denied.

2. Access is being denied.

3. Access has been denied.

4. Let it be known that access will be denied.

Question ID : 264330164417

Option 1 ID : 264330644875

Option 2 ID : 264330644877

Option 3 ID : 264330644876

Option 4 ID : 264330644878

Status : Answered

Chosen Option : 1

Comprehension:

In the following passage, some words have been deleted. Read the passage carefully and select the most appropriate option to fill in each blank.

The ongoing fight for social justice and equality continues to be a significant global 1. _____ . Movements advocating for racial, gender and LGBTQ+ equality, as well as addressing systemic discrimination and injustice, have 2. _____ momentum in recent years. People are increasingly recognising the importance of dismantling structures that 3. _____ inequality and fostering inclusivity in all aspects of society. Calls for justice, representation and equal opportunities have sparked conversations and initiatives aimed at creating a more equitable world. It is crucial to 4. _____ in meaningful dialogue, challenge biases and actively promote diversity and to build a society where everyone has equal rights and opportunities.

SubQuestion No : 30

Q.30 Select the most appropriate option to fill in blank no. 1.

- Ans 1. dispersion
 2. drift
 3. focus
 4. divergence

Question ID : 264330171951

Option 1 ID : 264330674382

Option 2 ID : 264330674381

Option 3 ID : 264330674380

Option 4 ID : 264330674379

Status : Answered

Chosen Option : 3

Comprehension:

In the following passage, some words have been deleted. Read the passage carefully and select the most appropriate option to fill in each blank.

The ongoing fight for social justice and equality continues to be a significant global 1. _____ . Movements advocating for racial, gender and LGBTQ+ equality, as well as addressing systemic discrimination and injustice, have 2. _____ momentum in recent years. People are increasingly recognising the importance of dismantling structures that 3. _____ inequality and fostering inclusivity in all aspects of society. Calls for justice, representation and equal opportunities have sparked conversations and initiatives aimed at creating a more equitable world. It is crucial to 4. _____ in meaningful dialogue, challenge biases and actively promote diversity and to build a society where everyone has equal rights and opportunities.

SubQuestion No : 31

Q.31 Select the most appropriate option to fill in blank no. 2.

- Ans 1. provided
 2. gained
 3. invoked
 4. scattered

Question ID : 264330171952

Option 1 ID : 264330674385

Option 2 ID : 264330674386

Option 3 ID : 264330674383

Option 4 ID : 264330674384

Status : Answered

Chosen Option : 2

Comprehension:

In the following passage, some words have been deleted. Read the passage carefully and select the most appropriate option to fill in each blank.

The ongoing fight for social justice and equality continues to be a significant global 1. _____ . Movements advocating for racial, gender and LGBTQ+ equality, as well as addressing systemic discrimination and injustice, have 2. _____ momentum in recent years. People are increasingly recognising the importance of dismantling structures that 3. _____ inequality and fostering inclusivity in all aspects of society. Calls for justice, representation and equal opportunities have sparked conversations and initiatives aimed at creating a more equitable world. It is crucial to 4. _____ in meaningful dialogue, challenge biases and actively promote diversity and to build a society where everyone has equal rights and opportunities.

SubQuestion No : 32

Q.32 Select the most appropriate option to fill in blank no. 3.

- Ans 1. **refract**
 2. **cease**
 3. **perpetuate**
 4. **terminate**

Question ID : 264330171953

Option 1 ID : 264330674390

Option 2 ID : 264330674388

Option 3 ID : 264330674389

Option 4 ID : 264330674387

Status : **Answered**

Chosen Option : 4

Comprehension:

In the following passage, some words have been deleted. Read the passage carefully and select the most appropriate option to fill in each blank.

The ongoing fight for social justice and equality continues to be a significant global 1. _____ . Movements advocating for racial, gender and LGBTQ+ equality, as well as addressing systemic discrimination and injustice, have 2. _____ momentum in recent years. People are increasingly recognising the importance of dismantling structures that 3. _____ inequality and fostering inclusivity in all aspects of society. Calls for justice, representation and equal opportunities have sparked conversations and initiatives aimed at creating a more equitable world. It is crucial to 4. _____ in meaningful dialogue, challenge biases and actively promote diversity and to build a society where everyone has equal rights and opportunities.

SubQuestion No : 33

Q.33 Select the most appropriate option to fill in blank no. 4.

- Ans 1. **manifest**
 2. **engage**
 3. **coincide**
 4. **evolve**

Question ID : 264330171954

Option 1 ID : 264330674394

Option 2 ID : 264330674393

Option 3 ID : 264330674392

Option 4 ID : 264330674391

Status : **Answered**

Chosen Option : 1

Comprehension:

Read the given passage and answer the question that follows.

On woody plants known as vines, luscious, smooth-skinned berries called grapes grow in dense clusters. In particular, grapes are grown in France, Italy, Spain, Australia, Chile, Romania, Georgia, South Africa and California, all of which have warm summers and moderate winters. Table grapes are larger and sweeter grapes that are intended for fresh consumption. To create wine, 80% of the grapes are crushed. The fermentation process turns grapes into wine. To make raisins, grapes must also be dried.

Grapes ripen in the area of California in August. They are cut from the vines and left on trays to dry for two to three weeks. So, to transform them into raisins, they are further cooked and steeped in particular treatments. According to studies, one acre of grapes can make roughly 15,000 glasses of wine on average. Grapes of the Thompson, Flame, Ruby, Perlette and Tokay varieties are popular.

SubQuestion No : 34

Q.34 What does the fermentation process do?

- Ans 1. Turns grapes into wine
 2. Turns grapes into raisins
 3. Crushes the grapes
 4. Makes grapes larger

Question ID : 264330168528

Option 1 ID : 264330660927

Option 2 ID : 264330660928

Option 3 ID : 264330660929

Option 4 ID : 264330660930

Status : Answered

Chosen Option : 1

Comprehension:

Read the given passage and answer the question that follows.

On woody plants known as vines, luscious, smooth-skinned berries called grapes grow in dense clusters. In particular, grapes are grown in France, Italy, Spain, Australia, Chile, Romania, Georgia, South Africa and California, all of which have warm summers and moderate winters. Table grapes are larger and sweeter grapes that are intended for fresh consumption. To create wine, 80% of the grapes are crushed. The fermentation process turns grapes into wine. To make raisins, grapes must also be dried.

Grapes ripen in the area of California in August. They are cut from the vines and left on trays to dry for two to three weeks. So, to transform them into raisins, they are further cooked and steeped in particular treatments. According to studies, one acre of grapes can make roughly 15,000 glasses of wine on average. Grapes of the Thompson, Flame, Ruby, Perlette and Tokay varieties are popular.

SubQuestion No : 35

Q.35 Based on your reading of the passage, select the most appropriate word which best describes 'luscious'.

- Ans 1. Smooth
 2. Soft
 3. Large
 4. Juicy

Question ID : 264330168530

Option 1 ID : 264330660935

Option 2 ID : 264330660936

Option 3 ID : 264330660937

Option 4 ID : 264330660938

Status : Answered

Chosen Option : 4

Comprehension:

Read the given passage and answer the question that follows.

On woody plants known as vines, luscious, smooth-skinned berries called grapes grow in dense clusters. In particular, grapes are grown in France, Italy, Spain, Australia, Chile, Romania, Georgia, South Africa and California, all of which have warm summers and moderate winters. Table grapes are larger and sweeter grapes that are intended for fresh consumption. To create wine, 80% of the grapes are crushed. The fermentation process turns grapes into wine. To make raisins, grapes must also be dried.

Grapes ripen in the area of California in August. They are cut from the vines and left on trays to dry for two to three weeks. So, to transform them into raisins, they are further cooked and steeped in particular treatments. According to studies, one acre of grapes can make roughly 15,000 glasses of wine on average. Grapes of the Thompson, Flame, Ruby, Perlette and Tokay varieties are popular.

SubQuestion No : 36

Q.36 Select the most appropriate title for the passage.

- Ans 1. Grapes and world
 2. Grapes and its uses
 3. Wine making
 4. Varieties of grapes

Question ID : 264330168529

Option 1 ID : 264330660934

Option 2 ID : 264330660933

Option 3 ID : 264330660931

Option 4 ID : 264330660932

Status : Answered

Chosen Option : 2

Comprehension:

Read the given passage and answer the question that follows.

On woody plants known as vines, luscious, smooth-skinned berries called grapes grow in dense clusters. In particular, grapes are grown in France, Italy, Spain, Australia, Chile, Romania, Georgia, South Africa and California, all of which have warm summers and moderate winters. Table grapes are larger and sweeter grapes that are intended for fresh consumption. To create wine, 80% of the grapes are crushed. The fermentation process turns grapes into wine. To make raisins, grapes must also be dried.

Grapes ripen in the area of California in August. They are cut from the vines and left on trays to dry for two to three weeks. So, to transform them into raisins, they are further cooked and steeped in particular treatments. According to studies, one acre of grapes can make roughly 15,000 glasses of wine on average. Grapes of the Thompson, Flame, Ruby, Perlette and Tokay varieties are popular.

SubQuestion No : 37

Q.37 In which region do grapes ripen in August?

- Ans 1. Chile
 2. California
 3. France
 4. Australia

Question ID : 264330168527

Option 1 ID : 264330660924

Option 2 ID : 264330660925

Option 3 ID : 264330660926

Option 4 ID : 264330660923

Status : Answered

Chosen Option : 2

Comprehension:

Read the given passage carefully and answer the question that follows.

The discovery of a new bird species has sparked excitement among ornithologists and bird enthusiasts worldwide. The bird, named the Sapphire-winged Warbler, discovered in a remote tropical island's rainforests, is a unique bird with vibrant blue feathers and a distinctive melodic song. Birdwatchers and nature enthusiasts have been flocking to the island in hopes of catching a glimpse of this elusive and captivating creature. The discovery of the Sapphire-winged Warbler highlights the importance of preserving and protecting habitats. Amidst the excitement surrounding the discovery of the Sapphire-winged Warbler, researchers have embarked on a mission to uncover the bird's migratory patterns. Equipped with satellite tracking devices, they aim to trace the remarkable journey of this species across vast distances. By unravelling its migratory routes and stopover locations, scientists hope to gain insight into the challenges the Sapphire-winged Warbler faces during its arduous travels. The local community on the tropical island has embraced the newfound avian resident with great enthusiasm. Efforts are underway to raise awareness about the importance of conservation and to create protected areas that ensure the continued existence of this exquisite species.

SubQuestion No : 38

Q.38 Which statement best reflects a fact mentioned in the given passage?

- Ans**
- 1. The Sapphire-winged Warbler is the largest bird species in the avian kingdom.
 - 2. The Sapphire-winged Warbler is the only bird species on the tropical island.
 - 3. Schools on the island organise annual bird-watching competitions.
 - 4. Researchers are using satellite tracking devices to study the bird's migratory patterns.

Question ID : **264330171942**

Option 1 ID : **264330674350**

Option 2 ID : **264330674347**

Option 3 ID : **264330674348**

Option 4 ID : **264330674349**

Status : **Answered**

Chosen Option : **4**

Comprehension:

Read the given passage carefully and answer the question that follows.

The discovery of a new bird species has sparked excitement among ornithologists and bird enthusiasts worldwide. The bird, named the Sapphire-winged Warbler, discovered in a remote tropical island's rainforests, is a unique bird with vibrant blue feathers and a distinctive melodic song. Birdwatchers and nature enthusiasts have been flocking to the island in hopes of catching a glimpse of this elusive and captivating creature. The discovery of the Sapphire-winged Warbler highlights the importance of preserving and protecting habitats. Amidst the excitement surrounding the discovery of the Sapphire-winged Warbler, researchers have embarked on a mission to uncover the bird's migratory patterns. Equipped with satellite tracking devices, they aim to trace the remarkable journey of this species across vast distances. By unravelling its migratory routes and stopover locations, scientists hope to gain insight into the challenges the Sapphire-winged Warbler faces during its arduous travels. The local community on the tropical island has embraced the newfound avian resident with great enthusiasm. Efforts are underway to raise awareness about the importance of conservation and to create protected areas that ensure the continued existence of this exquisite species.

SubQuestion No : 39

Q.39 Based on the given passage, which of the following inferences can be made?

- Ans** 1. The discovery of the Sapphire-winged Warbler has sparked global interest in birdwatching.
2. The scientific community has lost interest in studying avian species.
3. The Sapphire-winged Warbler is an aggressive and territorial bird species.
4. Conservation efforts are solely focused on protecting the Sapphire-winged Warbler.

Question ID : **264330171943**

Option 1 ID : **264330674354**

Option 2 ID : **264330674353**

Option 3 ID : **264330674351**

Option 4 ID : **264330674352**

Status : **Answered**

Chosen Option : **1**

Comprehension:

Read the given passage carefully and answer the question that follows.

The discovery of a new bird species has sparked excitement among ornithologists and bird enthusiasts worldwide. The bird, named the Sapphire-winged Warbler, discovered in a remote tropical island's rainforests, is a unique bird with vibrant blue feathers and a distinctive melodic song. Birdwatchers and nature enthusiasts have been flocking to the island in hopes of catching a glimpse of this elusive and captivating creature. The discovery of the Sapphire-winged Warbler highlights the importance of preserving and protecting habitats. Amidst the excitement surrounding the discovery of the Sapphire-winged Warbler, researchers have embarked on a mission to uncover the bird's migratory patterns. Equipped with satellite tracking devices, they aim to trace the remarkable journey of this species across vast distances. By unravelling its migratory routes and stopover locations, scientists hope to gain insight into the challenges the Sapphire-winged Warbler faces during its arduous travels. The local community on the tropical island has embraced the newfound avian resident with great enthusiasm. Efforts are underway to raise awareness about the importance of conservation and to create protected areas that ensure the continued existence of this exquisite species.

SubQuestion No : 40

Q.40 Select the most appropriate title for the given passage.

- Ans** 1. The Curious Behaviour of Birds in Remote Islands
2. Conservation Efforts in Tropical Rainforests
3. The Unique Features of the Sapphire-winged Warbler
4. The Migratory Journey of the Sapphire-winged Warbler

Question ID : **264330171941**

Option 1 ID : **264330674346**

Option 2 ID : **264330674344**

Option 3 ID : **264330674345**

Option 4 ID : **264330674343**

Status : **Answered**

Chosen Option : **2**

Comprehension:

Read the given passage carefully and answer the question that follows.

The discovery of a new bird species has sparked excitement among ornithologists and bird enthusiasts worldwide. The bird, named the Sapphire-winged Warbler, discovered in a remote tropical island's rainforests, is a unique bird with vibrant blue feathers and a distinctive melodious song. Birdwatchers and nature enthusiasts have been flocking to the island in hopes of catching a glimpse of this elusive and captivating creature. The discovery of the Sapphire-winged Warbler highlights the importance of preserving and protecting habitats. Amidst the excitement surrounding the discovery of the Sapphire-winged Warbler, researchers have embarked on a mission to uncover the bird's migratory patterns. Equipped with satellite tracking devices, they aim to trace the remarkable journey of this species across vast distances. By unravelling its migratory routes and stopover locations, scientists hope to gain insight into the challenges the Sapphire-winged Warbler faces during its arduous travels. The local community on the tropical island has embraced the newfound avian resident with great enthusiasm. Efforts are underway to raise awareness about the importance of conservation and to create protected areas that ensure the continued existence of this exquisite species.

SubQuestion No : 41

Q.41 Identify the most appropriate ANTONYM of the word 'stare' from the passage.

- Ans 1. Glimpse
 2. Arduousness
 3. Vibrancy
 4. Excitement

Question ID : 264330171944

Option 1 ID : 264330674358

Option 2 ID : 264330674355

Option 3 ID : 264330674356

Option 4 ID : 264330674357

Status : Answered

Chosen Option : 1

Comprehension:

Read the given passage and answer the question that follows.

Steel is tough, and it can easily be shaped, cut or made into wire. Special alloys of steel can be made by adding small amounts of other metals such as aluminium, nickel and copper. Alloys give steel unusual hardness, toughness or ability to resist rust. Steel is often called the backbone of modern industry. Almost everything we use is either made of iron or steel or has been made with tools and machinery of these metals. Ships, trains, trucks and autos are made largely of steel. Even the safety pins and the needles you use are made from steel. Oil wells are drilled with steel machinery. Steel pipelines transport oil. Minerals are mined with steel equipment. Farm machines are mostly steel. Large buildings have steel framework.

SubQuestion No : 42

Q.42 What is the tone of the passage?

- Ans 1. Critical
 2. Informative
 3. Ironical
 4. Judgemental

Question ID : 264330168515

Option 1 ID : 264330660886

Option 2 ID : 264330660885

Option 3 ID : 264330660883

Option 4 ID : 264330660884

Status : Answered

Chosen Option : 2

Comprehension:

Read the given passage and answer the question that follows.

Steel is tough, and it can easily be shaped, cut or made into wire. Special alloys of steel can be made by adding small amounts of other metals such as aluminium, nickel and copper. Alloys give steel unusual hardness, toughness or ability to resist rust. Steel is often called the backbone of modern industry. Almost everything we use is either made of iron or steel or has been made with tools and machinery of these metals. Ships, trains, trucks and autos are made largely of steel. Even the safety pins and the needles you use are made from steel. Oil wells are drilled with steel machinery. Steel pipelines transport oil. Minerals are mined with steel equipment. Farm machines are mostly steel. Large buildings have steel framework.

SubQuestion No : 43

Q.43 Select an appropriate title for the passage from the given options.

- Ans 1. Manufacturing
 2. Resources of Steel
 3. Steel Industry
 4. Mineral ores

Question ID : 264330168512

Option 1 ID : 264330660872

Option 2 ID : 264330660874

Option 3 ID : 264330660871

Option 4 ID : 264330660873

Status : Answered

Chosen Option : 3

Comprehension:

Read the given passage and answer the question that follows.

Steel is tough, and it can easily be shaped, cut or made into wire. Special alloys of steel can be made by adding small amounts of other metals such as aluminium, nickel and copper. Alloys give steel unusual hardness, toughness or ability to resist rust. Steel is often called the backbone of modern industry. Almost everything we use is either made of iron or steel or has been made with tools and machinery of these metals. Ships, trains, trucks and autos are made largely of steel. Even the safety pins and the needles you use are made from steel. Oil wells are drilled with steel machinery. Steel pipelines transport oil. Minerals are mined with steel equipment. Farm machines are mostly steel. Large buildings have steel framework.

SubQuestion No : 44

Q.44 Why is steel often called the backbone of modern industry?

- Ans 1. It is easy to make steel alloys.
 2. Steel is used in almost every tool and machinery.
 3. Steel is tough.
 4. Steel can be added with any material.

Question ID : 264330168514

Option 1 ID : 264330660882

Option 2 ID : 264330660881

Option 3 ID : 264330660879

Option 4 ID : 264330660880

Status : Answered

Chosen Option : 2

Comprehension:

Read the given passage and answer the question that follows.

Steel is tough, and it can easily be shaped, cut or made into wire. Special alloys of steel can be made by adding small amounts of other metals such as aluminium, nickel and copper. Alloys give steel unusual hardness, toughness or ability to resist rust. Steel is often called the backbone of modern industry. Almost everything we use is either made of iron or steel or has been made with tools and machinery of these metals. Ships, trains, trucks and autos are made largely of steel. Even the safety pins and the needles you use are made from steel. Oil wells are drilled with steel machinery. Steel pipelines transport oil. Minerals are mined with steel equipment. Farm machines are mostly steel. Large buildings have steel framework.

SubQuestion No : 45

Q.45 Identify the structure of the passage.

- Ans
- 1. Sequential
 - 2. Cause and effect
 - 3. Classification
 - 4. Descriptive

Question ID : 264330168513

Option 1 ID : 264330660875

Option 2 ID : 264330660876

Option 3 ID : 264330660877

Option 4 ID : 264330660878

Status : Answered

Chosen Option : 4

Section : General Awareness

Q.1 सितंबर 2022 में _____ विधानसभा ने महिला विधायकों के लिए सुरक्षा, स्वास्थ्य, स्वच्छता और शिक्षा जैसे महिला मुद्दों पर बोलने के लिए एक अतिरिक्त दिन की व्यवस्था की।

- Ans
- 1. उत्तर प्रदेश
 - 2. पंजाब
 - 3. मध्य प्रदेश
 - 4. राजस्थान

Question ID : 264330171923

Option 1 ID : 264330674282

Option 2 ID : 264330674281

Option 3 ID : 264330674279

Option 4 ID : 264330674280

Status : Answered

Chosen Option : 2

Q.2 भारत की जनगणना 2011 के अनुसार, निम्नलिखित में से किस राज्य में पुरुषों और महिलाओं की साक्षरता दर में अंतर सर्वाधिक था?

- Ans 1. राजस्थान
 2. केरल
 3. मिज़ोरम
 4. मेघालय

Question ID : 264330172294

Option 1 ID : 264330675738

Option 2 ID : 264330675736

Option 3 ID : 264330675737

Option 4 ID : 264330675735

Status : Answered

Chosen Option : 1

Q.3 निम्नलिखित में से किस विदेशी यात्री के अनुसार, ध्रुवसेन द्वितीय, प्रयाग (इलाहाबाद) में हर्ष की सभा में शामिल हुए थे?

- Ans 1. फाह्यान (Fa-Hien)
 2. मार्को पोलो (Marco Polo)
 3. ह्वेनसांग (Hiuen Tsang)
 4. इत्सिंग (Itsing)

Question ID : 264330171274

Option 1 ID : 264330671713

Option 2 ID : 264330671714

Option 3 ID : 264330671711

Option 4 ID : 264330671712

Status : Answered

Chosen Option : 3

Q.4 25°C के तापमान पर एक आदर्श गैस के लिए एसआई (SI) इकाई में प्रति अणु औसत गतिज ऊर्जा क्या होगी?

- Ans 1. $8.17 \times 10^{-22} \text{ J}$
 2. $6.17 \times 10^{-21} \text{ J}$
 3. $9.17 \times 10^{-22} \text{ J}$
 4. $7.17 \times 10^{-20} \text{ J}$

Question ID : 264330171742

Option 1 ID : 264330673573

Option 2 ID : 264330673571

Option 3 ID : 264330673574

Option 4 ID : 264330673572

Status : Answered

Chosen Option : 3

Q.5 सितंबर 2022 में _____ सरकार ने महिला सुरक्षा के उद्देश्य से 'हमर बेटी हमर मान' (हमारी बेटी, हमारा सम्मान) नामक एक अभियान शुरू करने का निर्णय लिया। इसका फोकस स्कूल और कॉलेज जाने वाली लड़कियों के बीच सुरक्षा उपायों के बारे में जागरूकता पैदा करना और महिला संबंधी अपराधों के पंजीकरण और जांच को प्राथमिकता देना होगा।

- Ans 1. छत्तीसगढ़
 2. मध्य प्रदेश
 3. बिहार
 4. झारखंड

Question ID : 264330171921

Option 1 ID : 264330674273

Option 2 ID : 264330674272

Option 3 ID : 264330674271

Option 4 ID : 264330674274

Status : Answered

Chosen Option : 1

Q.6 निम्नलिखित विषय-वस्तुओं को उनके संबंधित अनुच्छेदों के साथ सुमेलित कीजिए।

a

b

- | | |
|---|-----------------|
| 1. चुनावों का अधीक्षण, निर्देशन और नियंत्रण एक चुनाव आयोग के अंतर्गत निहित किया जाएगा | A) अनुच्छेद 329 |
| 2. विधानमंडल के चुनाव के संबंध में प्रावधान करने की संसदीय शक्ति | B) अनुच्छेद 324 |
| 3. चुनावी मामलों में न्यायालयों द्वारा किए जाने वाले हस्तक्षेप पर रोक | C) अनुच्छेद 327 |

- Ans 1. 1-A, 2-B, 3-C
 2. 1-C, 2-B, 3-A
 3. 1-B, 2-C, 3-A
 4. 1-A, 2-C, 3-B

Question ID : 264330173727

Option 1 ID : 264330681372

Option 2 ID : 264330681373

Option 3 ID : 264330681371

Option 4 ID : 264330681374

Status : Answered

Chosen Option : 3

Q.7

Which of the following options represents the total income earned by individuals from all the sources before deduction of personal income taxes?

- Ans 1. Personal income
 2. Gross income
 3. Disposable income
 4. National income

Question ID : 264330172912
Option 1 ID : 264330678173
Option 2 ID : 264330678174
Option 3 ID : 264330678172
Option 4 ID : 264330678171
Status : Answered
Chosen Option : 2

Q.8 Among the choices listed, which one is NOT a form of cancer?

- Ans 1. Glaucoma
 2. Lymphoma
 3. Carcinoma
 4. Sarcoma

Question ID : 264330166349
Option 1 ID : 264330652458
Option 2 ID : 264330652455
Option 3 ID : 264330652456
Option 4 ID : 264330652457
Status : Answered
Chosen Option : 3

Q.9 सूची-I और सूची-II का मिलान कीजिए।

सूची I (रासायनिक यौगिक)

सूची-II (मसाले)

A. कर्क्यूमिनाइड्स (Curcuminoids)

1. इलायची

B. 1,8-सीनिओल (1,8-cineole)

2. काली मिर्च

C. यूजिनाॅल (Eugenol)

3. हल्दी

D. पिपेरीन (Piperine)

4. लौंग

Ans

✗ 1. A B C D
4 3 2 1

✓ 2. A B C D
3 1 4 2

✗ 3. A B C D
3 1 2 4

✗ 4. A B C D
1 4 3 2

Question ID : 264330172047

Option 1 ID : 264330674765

Option 2 ID : 264330674763

Option 3 ID : 264330674766

Option 4 ID : 264330674764

Status : Answered

Chosen Option : 4

Q.10 गिरते हुए नारियल, तेज़ रफ़्तार कारों, लुढ़कते पत्थरों और उड़ते विमानों से किस प्रकार की ऊर्जा संबंधित है?

Ans ✗ 1. स्थितिज ऊर्जा

✗ 2. विकिरण ऊर्जा

✗ 3. प्रत्यास्थ ऊर्जा

✓ 4. गतिज ऊर्जा

Question ID : 264330172096

Option 1 ID : 264330674962

Option 2 ID : 264330674960

Option 3 ID : 264330674959

Option 4 ID : 264330674961

Status : Answered

Chosen Option : 4

Q.11 निम्नलिखित भारतीय प्रधानमंत्रियों को उनके द्वारा शुरू की गई पंचवर्षीय योजनाओं के साथ सुमेलित कीजिए।

सूची-1 (प्रधान मंत्री)	सूची-2 (पंच-वर्षीय योजनाएं)
i : जवाहरलाल नेहरू	a) द्वितीय पंच-वर्षीय योजना
ii : मनमोहन सिंह	b) दसवीं पंच-वर्षीय योजना
iii : अटल बिहारी वाजपेयी	c) ग्यारहवीं पंच-वर्षीय योजना

- Ans 1. i-c, ii-b, iii-a
 2. i-a, ii-c, iii-b
 3. i-b, ii-c, iii-a
 4. i-b, ii-a, iii-c

Question ID : 264330172916

Option 1 ID : 264330678189

Option 2 ID : 264330678187

Option 3 ID : 264330678190

Option 4 ID : 264330678188

Status : Answered

Chosen Option : 2

Q.12 भारतमाला परियोजना के चरण-I के संबंध में निम्नलिखित विवरणों का मिलान कीजिए।

योजना	लक्षित लंबाई (km में)
A. आर्थिक गलियारे (Economic corridors)	1. 9000
B. सीमा और अंतर्राष्ट्रीय संपर्क सड़कें (Border and international connectivity roads)	2. 2000
C. एक्सप्रेस-वे (Expressways)	3. 800
D. अंतर-गलियारे और फीडर सड़कें (Inter-corridors and feeder roads)	4. 6000

- Ans 1. A-1, B-3, C-2, D-4
 2. A-1, B-2, C-4, D-3
 3. A-1, B-2, C-3, D-4
 4. A-4, B-2, C-3, D-1

Question ID : 264330171993

Option 1 ID : 264330674547

Option 2 ID : 264330674549

Option 3 ID : 264330674550

Option 4 ID : 264330674548

Status : Answered

Chosen Option : 4

Q.13 What are the elements in group zero commonly known as?

- Ans 1. Reactive
 2. Inert gases
 3. Volatile
 4. Radioactive

Question ID : 264330163737

Option 1 ID : 264330642200

Option 2 ID : 264330642202

Option 3 ID : 264330642199

Option 4 ID : 264330642201

Status : Answered

Chosen Option : 4

Q.14 निम्नलिखित को सुमेलित कीजिए

विशेषताएँ/अन्य नाम	नदी का नाम
A. बैङ्गलूर स्थलाकृति का क्षेत्र	1. गोदावरी
B. वृद्ध गंगा	2. ब्रह्मपुत्र
C. सांगपो	3. कोसी
D. बिहार का शोक	4. चंबल

- Ans 1. A-1, B-4, C-2, D-3
 2. A-4, B-1, C-2, D-3
 3. A-4, B-2, C-1, D-3
 4. A-4, B-1, C-3, D-2

Question ID : 264330172292

Option 1 ID : 264330675728

Option 2 ID : 264330675727

Option 3 ID : 264330675730

Option 4 ID : 264330675729

Status : Answered

Chosen Option : 2

Q.15 किस समिति ने मौलिक कर्तव्यों का पालन न करने पर जुर्माना या सजा का प्रस्ताव रखा था?

- Ans 1. मोरारजी देसाई समिति
 2. वर्मा समिति
 3. इंदिरा गांधी समिति
 4. स्वर्ण सिंह समिति

Question ID : 264330171898

Option 1 ID : 264330674186

Option 2 ID : 264330674184

Option 3 ID : 264330674185

Option 4 ID : 264330674183

Status : Answered

Chosen Option : 2

Q.16 सूची-I और सूची-II का मिलान कीजिए।

सूची-I	(अम्ल)	सूची-II	(खाद्य स्रोत)
A.	कार्बनिक अम्ल	1.	सरसों का तेल
B.	लॉरिक अम्ल	2.	मक्खन
C.	ब्यूटिरिक अम्ल	3.	सोडा वाटर
D.	इरूसिक अम्ल	4.	कोकोनट मिल्क

Ans

1. A B C D
4 2 3 1
2. A B C D
1 4 2 3
3. A B C D
2 3 1 4
4. A B C D
3 4 2 1

Question ID : 264330172046

Option 1 ID : 264330674759

Option 2 ID : 264330674762

Option 3 ID : 264330674761

Option 4 ID : 264330674760

Status : Answered

Chosen Option : 4

Q.17 भारत के ब्रिटिश गवर्नर-जनरलों और उनसे संबंधित घटनाओं के मिलान के गलत युग्मों का चयन कीजिए।

- i) लॉर्ड डलहौजी - 1857 का विद्रोह
ii) लॉर्ड ऑकलैंड - प्रथम अफगान युद्ध
iii) लॉर्ड कैनिंग - वुड्स डिस्पैच 1854

Ans

1. केवल (i)
2. केवल (i) और (iii)
3. केवल (ii)
4. केवल (ii) और (iii)

Question ID : 264330171925

Option 1 ID : 264330674287

Option 2 ID : 264330674289

Option 3 ID : 264330674288

Option 4 ID : 264330674290

Status : Answered

Chosen Option : 2

Q.18 संविधान (अनुसूचित जनजाति) आदेश (चौथा संशोधन) विधेयक, 2022, दिसंबर 2022 में राज्यसभा में पारित किया गया था। यह _____ राज्य पर लागू होने के संबंध में संविधान (अनुसूचित जनजाति) आदेश, 1950 में संशोधन करने के लिए है।

- Ans 1. मणिपुर
 2. कर्नाटक
 3. गोवा
 4. राजस्थान

Question ID : 264330171912

Option 1 ID : 264330674237

Option 2 ID : 264330674238

Option 3 ID : 264330674236

Option 4 ID : 264330674235

Status : Answered

Chosen Option : 1

Q.19 36वें राष्ट्रीय खेल 2022 से संबंधित सूची I में पदक तालिका में प्राप्त स्थानों का सूची II में राज्यों के साथ मिलान करें और नीचे दिए गए कोड से सही उत्तर चुनें।

सूची I (स्थान)	सूची II (राज्य)
A पदक तालिका में I स्थान	(i) महाराष्ट्र
B पदक तालिका में II स्थान	(ii) हरियाणा
C पदक तालिका में III स्थान	(iii) कर्नाटक
D पदक तालिका में IV स्थान	(iv) सर्विसेज स्पोर्ट्स कंट्रोल बोर्ड

- Ans 1. A-iv, B-i, C-ii, D-iii
 2. A-i, B-iii, C-ii, D-iv
 3. A-ii, B-i, C-iii, D-iv
 4. A-i, B-ii, C-iii, D-iv

Question ID : 264330172335

Option 1 ID : 264330675892

Option 2 ID : 264330675893

Option 3 ID : 264330675891

Option 4 ID : 264330675894

Status : Answered

Chosen Option : 1

Q.20 निम्नलिखित में से कौन-सी बीमारी आनुवंशिक नहीं होती है?

- Ans 1. पुटीय तंतुशोथ
 2. मांसपेशीय दुर्बिकास
 3. डाउन सिंड्रोम
 4. मलेरिया

Question ID : 264330166353

Option 1 ID : 264330652471

Option 2 ID : 264330652472

Option 3 ID : 264330652474

Option 4 ID : 264330652473

Status : Answered

Chosen Option : 4

Q.21 भारत के दूसरे उपराष्ट्रपति कौन थे?

- Ans 1. डॉ. ज़ाकिर हुसैन
 2. वीवी गिरि
 3. डॉ. एस राधाकृष्णन
 4. कृष्णाकांत

Question ID : 264330171901
Option 1 ID : 264330674197
Option 2 ID : 264330674196
Option 3 ID : 264330674195
Option 4 ID : 264330674198
Status : Answered
Chosen Option : 3

Q.22 'बादशाह नामा' की रचना निम्नलिखित में से किसके द्वारा की गई है?

- Ans 1. अबुल फज़ल
 2. इनायत खान
 3. बाबर
 4. अब्दुल हमीद लाहौरी

Question ID : 264330171290
Option 1 ID : 264330671775
Option 2 ID : 264330671778
Option 3 ID : 264330671777
Option 4 ID : 264330671776
Status : Answered
Chosen Option : 4

Q.23 वर्तमान वैज्ञानिक ज्ञान के आधार पर, वर्तमान में यह अभिधारणा की गई है कि पृथ्वी की अनुमानित आयु _____ है।

- Ans 1. लगभग 4,50,00,00,000 वर्ष
 2. लगभग 95,00,00, 00 वर्ष
 3. लगभग 45,00,000 वर्ष
 4. लगभग 65,00,000 वर्ष

Question ID : 264330167796
Option 1 ID : 264330658136
Option 2 ID : 264330658138
Option 3 ID : 264330658135
Option 4 ID : 264330658137
Status : Answered
Chosen Option : 1

Q.24 विश्व के निम्नलिखित में से किस क्षेत्र के कुछ भाग अपने समृद्ध खट्टे फलों (citrus fruit) के उत्पादन के लिए जाने जाते हैं?

- Ans
- 1. कैरिबियाई
 - 2. अफ्रीका
 - 3. भूमध्यसागरीय क्षेत्र
 - 4. भूमध्यरेखीय क्षेत्र

Question ID : 264330167795
Option 1 ID : 264330658133
Option 2 ID : 264330658134
Option 3 ID : 264330658132
Option 4 ID : 264330658131
Status : Answered
Chosen Option : 3

Q.25 Which of the following is a possible criticism of privatisation?

- Ans
- 1. Limited access to essential services for marginalised populations
 - 2. Excessive government interference into private businesses
 - 3. Expansion of bureaucracy and efficiency in public enterprises
 - 4. Reduced competition and innovation in the market

Question ID : 264330172915
Option 1 ID : 264330678183
Option 2 ID : 264330678185
Option 3 ID : 264330678186
Option 4 ID : 264330678184
Status : Answered
Chosen Option : 1

Section : Computer Knowledge Module

Q.1 What is a cell in Microsoft Excel?

- Ans
- 1. A small diagram or chart.
 - 2. A separate file used to store data.
 - 3. A single worksheet within a workbook.
 - 4. The intersection of a row and a column in a worksheet.

Question ID : 264330183336
Option 1 ID : 264330719065
Option 2 ID : 264330719067
Option 3 ID : 264330719064
Option 4 ID : 264330719066
Status : Answered
Chosen Option : 4

Q.2 Which networking device operates at Layer 2 of the OSI model and forwards data based on MAC addresses?

- Ans
- 1. Router
 - 2. Switch
 - 3. Firewall
 - 4. Hub

Question ID : 264330183354
Option 1 ID : 264330719136
Option 2 ID : 264330719138
Option 3 ID : 264330719139
Option 4 ID : 264330719137
Status : Answered
Chosen Option : 4

Q.3 In MS-Excel 2019, what does the SUM function do?

- Ans
- 1. It multiplies the values in a range.
 - 2. It adds up the values in a range.
 - 3. It finds the average of values in a range.
 - 4. It counts the number of cells in a range.

Question ID : 264330183338
Option 1 ID : 264330719072
Option 2 ID : 264330719074
Option 3 ID : 264330719073
Option 4 ID : 264330719075
Status : Answered
Chosen Option : 2

Q.4 What is a 'Firewall' in the context of network security?

- Ans
- 1. A security mechanism that filters and controls network traffic.
 - 2. A type of malware that spreads through email attachments.
 - 3. A software application for managing files and folders.
 - 4. A hardware device used to boost network performance.

Question ID : 264330183341
Option 1 ID : 264330719087
Option 2 ID : 264330719084
Option 3 ID : 264330719086
Option 4 ID : 264330719085
Status : Answered
Chosen Option : 1

Q.5 विंडोज़ 11 (Windows 11) के फाइल एक्सप्लोरर (File Explorer) में, निम्नलिखित में से किस टैब में 'हिडन आइटम्स (hidden items)' विकल्प शामिल होता है?

- Ans
- 1. Share
 - 2. View
 - 3. Home
 - 4. File

Question ID : 264330183357
Option 1 ID : 264330719150
Option 2 ID : 264330719151
Option 3 ID : 264330719148
Option 4 ID : 264330719149
Status : Answered
Chosen Option : 2

Q.6 निम्नलिखित में से कौन-सा कंप्यूटर में इनपुट डिवाइस का उदाहरण है?

- Ans
- 1. मॉनिटर
 - 2. प्रिंटर
 - 3. स्पीकर
 - 4. टच स्क्रीन

Question ID : 264330183371
Option 1 ID : 264330719207
Option 2 ID : 264330719206
Option 3 ID : 264330719205
Option 4 ID : 264330719204
Status : Answered
Chosen Option : 4

Q.7 अधिकांश विंडोज़ एप्लिकेशंस में "कॉपी (Copy)" के लिए की-बोर्ड शॉर्टकट क्या होता है?

- Ans
- 1. Ctrl + Z
 - 2. Ctrl + V
 - 3. Ctrl + X
 - 4. Ctrl + C

Question ID : 264330183350
Option 1 ID : 264330719123
Option 2 ID : 264330719122
Option 3 ID : 264330719120
Option 4 ID : 264330719121
Status : Answered
Chosen Option : 4

Q.8 माइक्रोसॉफ्ट वर्ड में, "प्रिंट प्रिव्यू (Print Preview)" फीचर का उद्देश्य क्या होता है?

- Ans
- 1. डॉक्युमेंट के फॉन्ट और स्टाइल को फॉर्मेट करना।
 - 2. डॉक्युमेंट की वर्तनी और व्याकरण की जांच करना।
 - 3. यह देखना कि मुद्रित होने पर डॉक्युमेंट कैसा दिखाई देगा।
 - 4. डॉक्युमेंट में चित्रों और ग्राफिक्स को इन्सर्ट करना।

Question ID : 264330183340

Option 1 ID : 264330719081

Option 2 ID : 264330719080

Option 3 ID : 264330719082

Option 4 ID : 264330719083

Status : Answered

Chosen Option : 3

Q.9 What is the primary purpose of RAM (Random Access Memory) in a computer?

- Ans
- 1. Managing peripheral devices
 - 2. Storing permanent data and files
 - 3. Providing long-term storage for programs
 - 4. Providing temporary storage for data that the CPU is currently processing

Question ID : 264330183348

Option 1 ID : 264330719113

Option 2 ID : 264330719112

Option 3 ID : 264330719114

Option 4 ID : 264330719115

Status : Answered

Chosen Option : 4

Q.10 When the sender and receiver of an email are on the same system, we need only ____ user agents.

- Ans
- 1. six
 - 2. four
 - 3. three
 - 4. two

Question ID : 264330183363

Option 1 ID : 264330719175

Option 2 ID : 264330719174

Option 3 ID : 264330719173

Option 4 ID : 264330719172

Status : Answered

Chosen Option : 4

Q.11 Which backup device provides a convenient way to create system images and complete backups, but may require a lengthy restoration process?

- Ans**
- 1. DVD-RW disc
 - 2. Network-attached storage (NAS)
 - 3. Tape drive
 - 4. Solid-state drive (SSD)

Question ID : 264330183349
Option 1 ID : 264330719118
Option 2 ID : 264330719119
Option 3 ID : 264330719116
Option 4 ID : 264330719117
Status : Answered
Chosen Option : 2

Q.12 What is the function of the cache memory in a computer's memory hierarchy?

- Ans**
- 1. To store frequently used data for faster access by the CPU.
 - 2. To control the flow of data between the CPU and memory.
 - 3. To provide permanent storage for data and files.
 - 4. To manage the allocation of memory resources to different programs.

Question ID : 264330183352
Option 1 ID : 264330719130
Option 2 ID : 264330719129
Option 3 ID : 264330719128
Option 4 ID : 264330719131
Status : Answered
Chosen Option : 1

Q.13 Which of the following is an example of GUI-based user agent in email?

- Ans**
- 1. Pine
 - 2. Mail
 - 3. Elm
 - 4. Netscape

Question ID : 264330183359
Option 1 ID : 264330719157
Option 2 ID : 264330719159
Option 3 ID : 264330719158
Option 4 ID : 264330719156
Status : Not Answered
Chosen Option : --

Q.14 MS Office 365 में, पेज सेटअप (Page Setup) निम्नलिखित में से किस टैब के अंतर्गत पाया जा सकता है?

- Ans
- ✓ 1. Layout
 - ✗ 2. Insert
 - ✗ 3. Home
 - ✗ 4. Draw

Question ID : 264330183362

Option 1 ID : 264330719169

Option 2 ID : 264330719170

Option 3 ID : 264330719168

Option 4 ID : 264330719171

Status : Answered

Chosen Option : 1

Q.15 नेटवर्क सुरक्षा के संदर्भ में, "ट्रोजन (Trojan)" क्या है?

- Ans
- ✗ 1.
एक प्रोटोकॉल जो नेटवर्क पर उपकरणों के बीच सुरक्षित संचार के लिए उपयोग किया जाता है।
 - ✗ 2.
एक प्रोग्राम जो सुरक्षा उल्लंघनों के लिए नेटवर्क ट्रैफिक की निगरानी करता है।
 - ✓ 3.
एक हानिकारक सॉफ्टवेयर जो अनधिकृत एक्सेस प्राप्त करने के लिए वैध सॉफ्टवेयर के रूप में प्रचलन होता है।
 - ✗ 4.
एक प्रकार का फ़ायरवॉल जो वायरस और मैलवेयर से बचाता है।

Question ID : 264330183355

Option 1 ID : 264330719140

Option 2 ID : 264330719142

Option 3 ID : 264330719143

Option 4 ID : 264330719141

Status : Answered

Chosen Option : 3

Q.16 सेंट्रल प्रोसेसिंग यूनिट (CPU) तथा प्राइमरी मेमोरी के बीच एक हाई स्पीड मेमोरी रखी जाती है जिसे _____ कहा जाता है।

- Ans
- ✗ 1. सेकेंडरी मेमोरी
 - ✗ 2. वर्चुअल मेमोरी
 - ✗ 3. रीड ओनली मेमोरी
 - ✓ 4. केश मेमोरी

Question ID : 264330183367

Option 1 ID : 264330719190

Option 2 ID : 264330719188

Option 3 ID : 264330719189

Option 4 ID : 264330719191

Status : Answered

Chosen Option : 4

Q.17 In File Explorer of Windows 10, the keyboard shortcut 'Num Lock + Asterisk sign (*)' is used to _____.

- Ans
- 1. collapse the selected folder
 - 2. display the contents of the selected folder
 - 3. open the properties dialog box for the selected item
 - 4. display all subfolders under the selected folder

Question ID : 264330183373

Option 1 ID : 264330719214

Option 2 ID : 264330719212

Option 3 ID : 264330719215

Option 4 ID : 264330719213

Status : Answered

Chosen Option : 1

Q.18 A/An _____ is an organisation that connects its subscriber's computer using modem to the Internet.

- Ans
- 1. Web Browser
 - 2. Uniform Resource Locator
 - 3. Web Server
 - 4. Internet Service Provider

Question ID : 264330183365

Option 1 ID : 264330719182

Option 2 ID : 264330719183

Option 3 ID : 264330719181

Option 4 ID : 264330719180

Status : Answered

Chosen Option : 4

Q.19 निम्नलिखित में से कौन सा वेब ब्राउज़र का एक उदाहरण नहीं है?

- Ans
- 1. एप्पल सफारी (Apple Safari)
 - 2. ऑपेरा (Opera)
 - 3. फेसबुक (Facebook)
 - 4. गूगल क्रोम (Google Chrome)

Question ID : 264330183364

Option 1 ID : 264330719179

Option 2 ID : 264330719176


Option 3 ID : 264330719178


Option 4 ID : 264330719177


Status : Answered


Chosen Option : 3

Q.20 In computer registers, MAR stands for _____.

Ans  1. Memory Address Register

 2. Main Address Register

 3. Memory Access Register

 4. Main Access Register

Question ID : 264330183366

Option 1 ID : 264330719186

Option 2 ID : 264330719184

Option 3 ID : 264330719185

Option 4 ID : 264330719187

Status : Answered

Chosen Option : 1